

పదవతరగతిసంగ్రహణాత్మకమూల్యాంకనం : : జూన్ 2021

సాంఘికశాస్త్రం - పేపరు - I&II

మాదిరిప్రశ్నాపత్రం - 5

(తెలుగుమాధ్యమం)

సమయం: గం. 3-15 ని.లు

గరిష్టమార్కులు: 100

నిబంధనలు:

1. సమాధానాలురాయడానికి 3-00 గంటలు. అదనంగాప్రశ్నాపత్రంచదవడానికి 15 నిమిషాలుకేటాయించడంజరిగింది.
2. ప్రశ్నాపత్రంలో 4 సెక్షన్లుఉన్నాయి
3. సెక్షన్ -IV లో అంతర్గతఎంపికఉంటుంది.

సెక్షన్ - I

NOTE:

1. ఈ

సెక్షన్లోవదైనాప్రశ్నకు ఒకటికంటే ఎక్కువసార్లు సమాధానం వ్రాస్తే మునుపటి సమాధానం మాత్రమే పరిగణింపబడుతుంది.

2. అన్ని ప్రశ్నలకు సమాధానం వ్రాయండి

ప్రతి ప్రశ్నకు 1 మార్కు

12X1=12

1. 2011 గణాంకాల ప్రకారం భారతదేశ జనాభా -----

- a) 1028 మిలియన్లు
- b) 3287 మిలియన్లు
- c) 1210 మిలియన్లు
- d) 20 మిలియన్లు

2. క్రిందివాటిలో సరైనదికానిది ఏది?

ఎ) ప్రాచీనమానవులు సంచారజాతులు

బి) భారతదేశంలో 350 మిలియన్లమందినగరాలుమరియుపట్టణాల్లోనివసిస్తున్నారు.

సి) చెన్నై ఒకమహానగరం.

డి) హైదరాబాద్ ఒకమెట్రోపాలిటన్ నగరం

3. “కోఫీలు” అనగా?

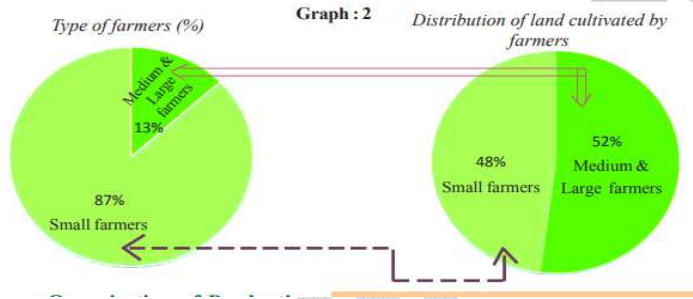
4. కుడంకుళంవిద్యుత్ప్రాజెక్టుద్వారాఎలాంటివిద్యుత్ఉత్పత్తిఅవుతోంది?

5. మొదటిజతఆధారంగారెండవదాన్నిపూరించండి

I. మానవఅభివృద్ధిసూచిక : UNDP

II. తలసరిఆదాయము : -----?

6. దిగువఇచ్చినపైచార్టునినిసూచిస్తుంది?



7. క్రిందివాటినికాలక్రమానుసారంఅమర్చండి.

ఎ) లీగ్ ఆఫ్ ఫ్రీ ట్రేడ్ ఏర్పడినకాలము

బి) రష్యన్ స్విట్జర్లంజరిగినకాలము

సి) మొదటిప్రపంచయుద్ధంజరిగినకాలము

డి) రెండవప్రపంచయుద్ధంజరిగినకాలము

8. సామూహికవిద్వంసకాండ(Genocide) అనగానేమి?

9. 1940 లోవియత్నాంపైదాడిచేసినదేశంఏది?

10. భారతదేశమొదటిరాష్ట్రపతిఎవరు?

11. భారతదేశపటంలోతూర్పుకనుమలనుగుర్తించండి.



12. AIADMK అనేపదాన్ని విస్తరించండి.

సెక్షన్ - II

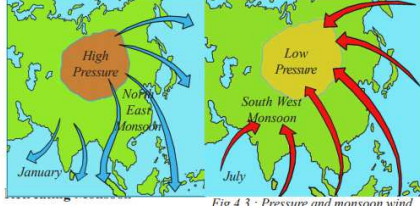
I. అన్ని ప్రశ్నలకు జవాబులు వ్రాయుము.

II. ప్రతి ప్రశ్నకు 2 మార్కులు.

8X2= 16

13. గంగా - సింధూమైదానము అధిక జనసాంద్రత కలిగిన ప్రాంతము. కారణాలు కనుగొనుము.

14. క్రింది మ్యాప్ ను గమనించండి మరియు దాని గురించి రెండు వాక్యాలు రాయండి.



15. "దేశాలను అనుసంధానించడం ద్వారా ప్రపంచీకరణ ఉత్పత్తిలో ఎక్కువ పోటీని కలిగిస్తుంది".

దీనిని సమర్థిస్తూ జవాబు వ్రాయుము.

16. ఆహార భద్రత పై ఒక కరపత్రాన్ని తయారు చేసేటప్పుడు మీరు ఏ అంశాలను పొందుపరుస్తారు?

17. "ఎనేబుల్ టెక్స్ట్" అంటే ఏమిటి?

18. 'లాంగ్మార్చ్' గురించి రాయండి.

19. దిగువ ఇచ్చిన సమాచారాన్ని పైచార్టులో నికి మార్చుము.

రైతుల రకాలు	వ్యవసాయంచేయు భూమి శాతము
సన్నకారు రైతులు	48%
మధ్యతరగతి లేదా పెద్ద రైతులు	52%

20. లోక్ అదాలత్ యొక్క ఉద్దేశ్యం ఏమిటి?

21. భారతదేశ వాతావరణ పరిస్థితులను ప్రభావితం చేసే అంశాలు ఏమిటి?

22. గ్రామీణ ప్రాంతాలనుండి పట్టణ ప్రాంతాలకు వలస వెళ్ళే కార్మికుడు ఎదుర్కొంటున్న విభిన్న సమస్యలు ఏమిటి?

23. క్రింద ఇవ్వబడిన పట్టికను చూడండి మరియు ప్రశ్నలకు సమాధానం ఇవ్వండి.

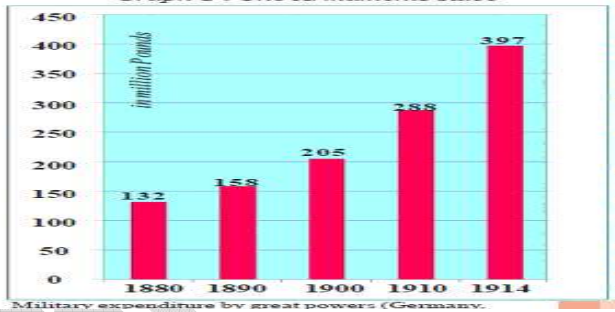
సెక్టారు	సహకారం (% to మొత్తము)	
	ఉపాధి	బి.డి.పి
వ్యవస్థీకృత రంగము	8	50
అవ్యవస్థీకృత రంగము.	92	50
మొత్తము	100	100

ప్రశ్నలు:

- అసంఘటిత రంగంలో ఎంత శాతం శ్రామికులకు ఉపాధి లభిస్తుంది?
- ఏ రంగానికి మంచి ఉద్యోగ బద్దత లభిస్తుంది?

24. భారత రాజ్యాంగ రచనలో డా: బి.ఆర్. అంబేడ్కర్ గారి పాత్రను వివరించుము.

25. క్రింది గ్రాఫ్ను పరిశీలించి దిగువ ప్రశ్నలకు జవాబులు వ్రాయుము.



ప్రశ్నలు:

- పై గ్రాఫ్ ఏమి వెల్లడిస్తుంది?
- ఏ సంవత్సరంలో ఆయుధాలు ఎక్కువగా తయారు చేయబడ్డాయి?
- ప్రతి 10 సంవత్సరాలకు సైనిక వ్యయం ఎందుకు పెరిగింది?
- ఆయుధాల కోసం ఎక్కువ డబ్బు ఖర్చు చేసే దేశాలు ఏమిటి?

26. ప్రపంచంలో శాంతిని నెలకొల్పడానికి ఐక్య రాజ్య సమితి చేసిన అనేక కార్యక్రమాలు ఏమిటి?

27. భారత రాజ్యాంగంలో నిష్పాఠమిక సూత్రాల గురించి రాయండి.

28. సమాచారహక్కు చట్టం ప్రజాస్వామ్యం యొక్క నిజమైన స్ఫూర్తిని పోలి ఉంటుంది. మీరు ఈ ప్రకటనను ఎలా సమర్థిస్తారు?

**సెక్షన్ - IV**

- I. అన్ని ప్రశ్నలకు సమాధానములు వ్రాయుము. 8X5=40
- II. ప్రతి ప్రశ్నకు 8 మార్కులు
- III. అంతర్గత ప్రశ్నలను ఎంపిక చేసుకోవచ్చును.

29. భారతదేశంలోని ప్రధాన బౌగోళిక స్వరూపాలు ఏవి?

హిమాలయ ప్రాంత బౌగోళిక పరిస్థితులతో ద్వీపకల్ప పీఠభూమి మిమిపోల్పండి..

(లేదా)

బహుళజాతికంపెనీల వలన ప్రయోజనాలు మరియు దుష్పరిణామాలు ఏమిటి?

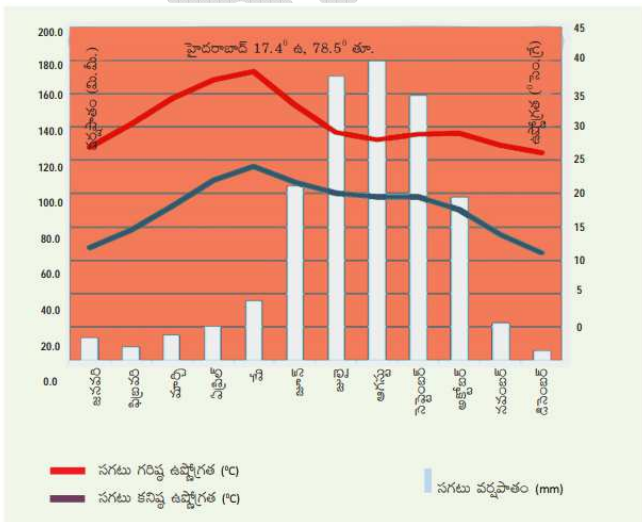
30. తుంగభద్ర నదీనీటివాడకంలో విభిన్న భేదాలు ఉన్నాయి. దానిపై వ్యాఖ్యానించండి.

(లేదా)

"ప్రజాపంపిణీ వ్యవస్థ ప్రజలకు మెరుగైన ఆహార భద్రతను ఇవ్వగలదు". ఆహార భద్రతను గూర్చి వివరించండి.

(లేదా)

31. క్రింది క్షేమోగ్రాఫ్ను పరిశీలించి దిగువ ప్రశ్నలకు సమాధానములిమ్ము.



ప్రశ్నలు:

- i. ఏ నెలలో అత్యధిక వర్షపాతం నమోదయింది?
- ii. ఏ నెలలో అత్యల్ప, అత్యధిక ఉష్ణోగ్రతలు నమోదయ్యాయి?
- iii. జూన్, అక్టోబర్ ల మధ్య గరిష్ట ఉష్ణోగ్రతలు నమోదయ్యాయి?
- iv. మార్చి, మే నెలల మధ్య అత్యధిక ఉష్ణోగ్రత ఎందుకు ఉంటుంది?

(లేదా)

క్రింద ఇవ్వబడిన పట్టికను అధ్యయనం చేయండి మరియు క్రింది ప్రశ్నలకు సమాధానం ఇవ్వండి.

కార్మికులు	దున్న డం	వితండము	కలుపుతీయు	నాటడము	కోయడము	చెరుగుట	నూర్పడిచేయు	ప్రత్తికోయుట
పురుషులు	214	197	215	---	164	168	152	---
స్త్రీలు	----	152	130	143	126	124	118	136

32. వివిధ భారతీయ సంస్థానాలను స్వాతంత్ర్య పొందిన భారతదేశంలో ఏకీకృతం చేయడం ఒక సవాలుతో కూడుకున్న పని. చర్చించండి.

(లేదా)

రాజకీయ అస్థిరతకు సంకీర్ణ ప్రభుత్వాలు బాధ్యత వహిస్తాయి. మీ వ్యాఖ్య రాయండి.

33. భారతదేశం పటంలో ఈ క్రింది వాటిని గుర్తించండి.

- (ఎ) కె 2 (గాడ్విన్ ఆస్టిన్)      (బి) జైసల్మేర్      (సి) మాల్యాపీఠభూమి.      (డి) కావేరినది.

(లేదా)

బ్రిటిష్ వారు పాలించిన ఆసియాలో నిరెండుకాలనీలను మరియు ఆఫ్రికన్ శాఖలకు చెందిన రెండుకాలనీలను ప్రపంచపటంలో గుర్తించండి.