

పదవతరగతిసంగ్రహణాత్మకమూల్యాంకనం : : జూన్ 2021

సాంఘికశాస్త్రం - పేపరు - I&II

మాదిరిప్రశ్నాపత్రం - 4

(తెలుగుమాధ్యమం)

సమయం: గం. 3-15 ని.లు

గరిష్టమార్కులు: 100

నిబంధనలు:

1. సమాధానాలురాయడానికి 3-00 గంటలు. అదనంగా ప్రశ్నాపత్రంచదవడానికి 15 నిమిషాలుకేటాయించడంజరిగింది.
2. ప్రశ్నాపత్రంలో 4 సెక్షన్లు ఉన్నాయి
3. సెక్షన్ -IV లో అంతర్గత ఎంపిక ఉంటుంది.

సెక్షన్ - I

NOTE:

1. ఈ సెక్షన్లో ఏదైనా ప్రశ్నకు ఒకటికంటే ఎక్కువ సార్లు సమాధానం వ్రాస్తే మునుపటి సమాధానం మాత్రమే పరిగణింపబడుతుంది.
2. అన్ని ప్రశ్నలకు సమాధానం వ్రాయండి

ప్రతి ప్రశ్నకు 1 మార్కు

12X1=12

1. అభివృద్ధి యొక్క సామాజిక సూచికలు ఏమిటి?
2. ఆర్థిక సంవత్సరం అనగా నేమి?
3. క్రింది వాటిలో ద్వితీయ రంగానికి చెందిన కార్యకలాపాలను గుర్తించండి.

ఎ) కొందరు నిర్మాణ పనుల్లో పనిచేస్తున్నారు

బి) రామయ్య ఒక పాఠశాలలో పనిచేస్తున్నాడు.

సి) స్వాతి మైనింగ్ లో పనిచేస్తుంది.

డి) సుధ ఒక అగ్గిపెట్టెల తయారీ ప్యాక్టరీలో పనిచేస్తుంది.

4. క్రిందిపట్టికనుగమనించండిమరియుక్రిందిప్రశ్నలకుసమాధానంఇవ్వండి.

(భారతదేశంలోకార్మికులపంపిణీ -2009 - 2010%)

ఉపాదిరంగము (%)	పురుషులు	స్త్రీలు
వ్యవసాయరంగము	47	69
పారిశ్రామికరంగము	34	16
సేవారంగము	19	15

ప్రశ్నలు:

(a) ఏ రంగంలోమహిళలఎక్కువగాఉపాదిపోందుతున్నారు?

(b) ఎందుకుపారిశ్రామికరంగలోఎక్కువపురుషులుపనిచేస్తున్నారు?

5. కొంకణ్ణీరం, సర్కార్తీరం, కోరమండిల్తీరం, మలబార్తీరంవాటినిపడమటినుండితూర్పుకుఅమర్చుము.

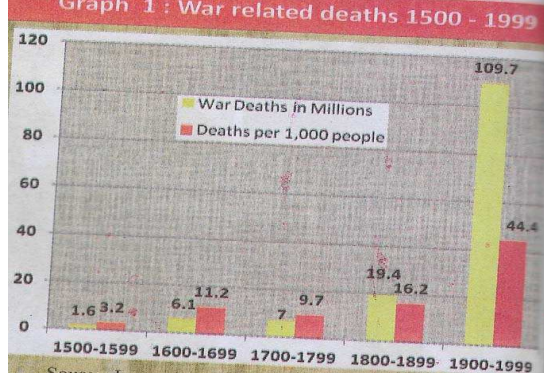
6. క్షేమోగ్రాఫ్లుఅనగానేమి?

7. భారతదేశపటంలోక్రిందివాటినిగుర్తించుము.

(అనైముడి, మాళ్వాప్లాటు)



8. క్రిందిగ్రాఫునుపరిశీలించిదిగువప్రశ్నలకుజవాబులువ్రాయుము.



ప్రశ్నలు: 1955 లో ఏ దేశమువద్దవెక్కువయుద్ధసామగ్రికలదు?

9. "సాకిస్టాన్" అనేపదాన్నిఎవరుస్పష్టించారు?

10. "UNESCO" నువిస్తరించివ్రాయుము.

11. క్రిందివాటినిపోల్చుము.

- |                   |           |
|-------------------|-----------|
| a) ప్రజాస్వామ్యము | I) San    |
| b) జాతీయత         | II) Min   |
| c) సామ్యవాదము     | III) Chui |

12. తప్పగావున్నదానినిగుర్తించుము.

SAD - పంజాబు

DMK - తమిళనాడు

TDP - ఆంధ్రప్రదేశ్

JKNC - జార్ఖండ్

### సెక్షన్ - II

I. అన్నిప్రశ్నలకుజవాబులువ్రాయుము.

II. ప్రతిప్రశ్నకు 2 మార్కులు  $8 \times 2 = 16$

13. నివాసాలనుప్రభావితంచేసేఅంశాలుఏవి?

14. "అధికరసాయనఎరువులువాడటంపర్యావరణానికిహానికరమా"? దానిపైవ్యాఖ్యానించండి.

15. రాయలసీమప్రాంతంలోకరువుకుకారణాలుఏమిటి?

16. క్రిందిపట్టికనుపరిశీలించిదిగువప్రశ్నలకుసమాధానములిమ్ము.

రాష్ట్రము	తలసరిఆదాయము
పంజాబు	78,000
హిమాచల్ప్రదేశ్	74,000
బీహార్	25,000

ప్రశ్నలు:

- తలసరిఆదాయములో ఏ రాష్ట్రముముందుంది?
- తలసరిఆదాయములో హిమాచల్ప్రదేశ్ ఎందుకుముందుంది?

17. వర్షెల్సంధినిగూర్చివ్రాయుము?

18. ప్రస్తుతతరుణంలోకోవిడ్ - 2019 దృష్ట్యా పాఠశాలలపాత్రఏమిటి?

19. "రహదారులవెడల్పుకోసంచెట్లనునరికివేయడంచెట్లవ్యాప్తినితగ్గిస్తుంది"

ఈపరిస్థితినిఅధిగమించడానికిమీరువేనిరెండుమార్గాలనుసూచించుము?

20. బ్రిటిష్ప్రాజుకు, మరియుభారతరాష్ట్రపతికిమధ్యతేడాలుఏమిటి?

సెక్షన్ - III

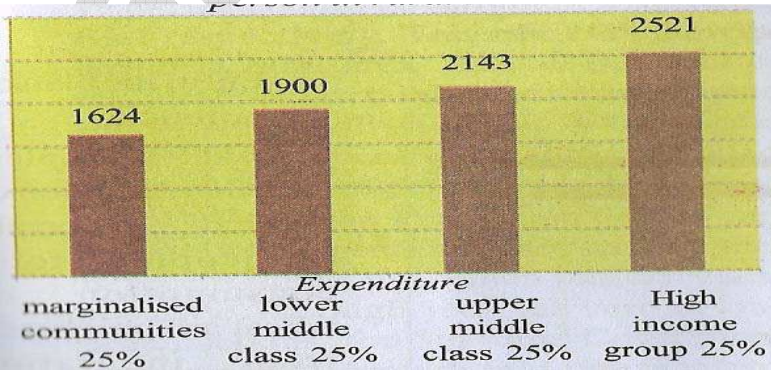
గమనిక:

I. అన్నిప్రశ్నలకుజవాబులువ్రాయుము.

II. ప్రతిప్రశ్నకు 4 మార్కులు

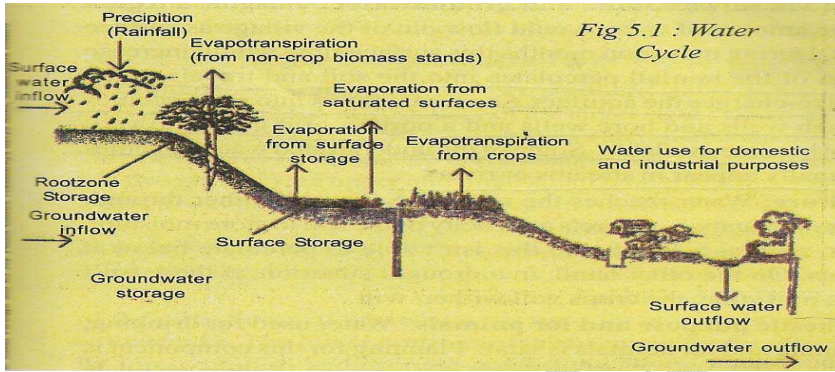
8X4=32

21. క్రిందిగ్రాఫునుపరిశీలించిదిగువప్రశ్నలకుజవాబులువ్రాయుము.



ప్రశ్నలు :

- గ్రామీణభారతదేశంలో ఎంతశాతం ప్రజలు తీసుకోవలసిన దానికన్న తక్కువ కేలరీలు ఆహారంతో సుకుంటున్నారు.
  - గ్రామీణభారతదేశంలో మనకు అవసరమైన దానికంటే తక్కువ కేలరీలు తినడానికి కారణం ఏమిటి?
  - అట్టడుగు వర్షాలు అనగా నేమి?
  - సరియైన ఆహారాన్ని ఎంత శాతం ప్రజలు తీసుకోంటున్నారు?
22. సీంద్రీయ వ్యవసాయం గురించి మీ అభిప్రాయం రాయండి?
23. క్రింది చిత్రపటాన్ని పరిశీలించి ప్రశ్నలకు జవాబులు వ్రాయుము.

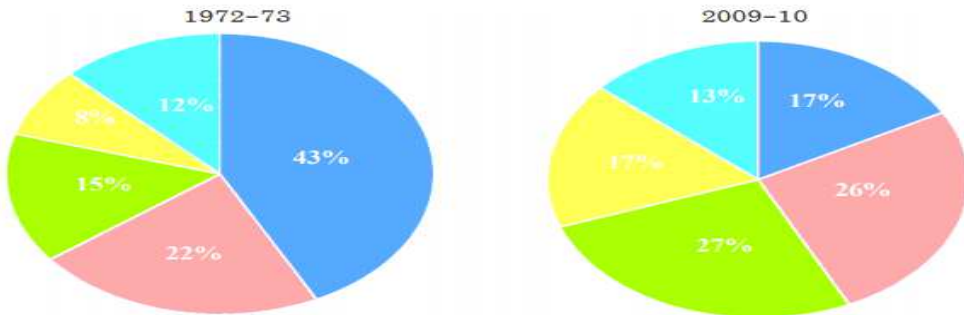


ప్రశ్నలు:

- పైచిత్రపటము దేనిని సూచిస్తుంది?
- అంతర్గత ప్రవాహాలు ఏవి?
- అవసాతం యొక్క ప్రధాన రూపం ఏమిటి?
- భూగర్భజలాలను ఎలా పెంచాలి.

24. క్రింది గ్రాఫ్ను పరిశీలించి దిగువ ప్రశ్నలకు జవాబులు వ్రాయుము.

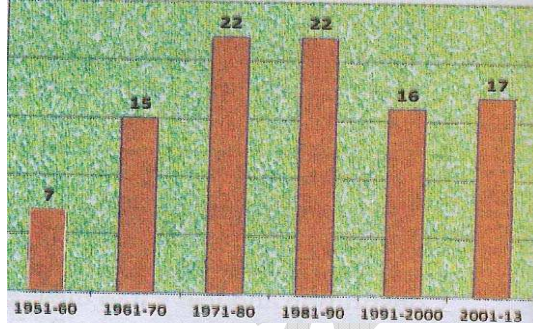
గ్రాఫ్ 2 : స్థూల జాతీయోత్పత్తిలో వివిధ రంగాల వాటా





ప్రశ్నలు:

- 1972-73లో అతిపెద్ద ఉత్పత్తిరంగం ఏది?
  - 1972-73 & 2009-10 మధ్య భారతదేశంలో జిడిపి ఎన్ని రెట్లు పెరిగింది?
  - ఏ రంగం అత్యల్ప వృద్ధిరేటును నమోదు చేసింది?
  - 2009-10లో సేవారంగం ఎందుకు పెరిగింది?
25. తీవ్ర ఆర్థిక మాంద్యం యొక్క ఫలితాలు ఏమిటి?
26. గ్రాఫ్ ను గమనించండి మరియు క్రింద ఇచ్చిన ప్రశ్నలకు సమాధానం ఇవ్వండి.



ప్రశ్నలు:

- భారత రాజ్యాంగం ఎప్పుడు స్వీకరించబడినది?
  - రాజ్యాంగ సవరణల యొక్క అవసరం ఏమిటి?
  - ఏ దశాబ్దంలో సవరణల సంఖ్య తక్కువగా ఉంది?
  - ఏ దశాబ్దంలో సవరణలు సమానంగా ఉన్నాయి?
27. ఆంధ్రప్రదేశ్ అభివృద్ధిలో ప్రాంతీయ రాజకీయ పార్టీల పాత్రను వివరించండి.
28. క్రింద ఇచ్చిన సమాచారమును చదివి దిగువ ప్రశ్నకు సమాధానము నిమ్ము.

పంచాయతీరాజ్ & 73 ఆర్డీ, 74 వసవరణ

1992

లో.పి.వి.నరసింహారావు గారి ఆధ్వర్యంలో రాజ్యాంగ హోదా కు ఒక ముఖ్యమైన రాజ్యాంగ సవరణను ఆమోదించింది.

అది 73 వ రాజ్యాంగ సవరణ గ్రామస్థాయిలో స్థానిక స్వపరిపాలన సంస్థలను సృష్టించింది, 74

వ రాజ్యాంగ సవరణ పట్టణాలు మరియు నగరాలలో కూడా అదే చేసింది. ఇవి చారిత్రక సవరణలు.

సాంస్కృతిక వయోజన ఓటింగ్ ఆధారంగా

ప్రశ్న:

- ఎ) స్థానికస్వపరిపాలనయొక్క రాజ్యాంగహోదాను ఏ ప్రభుత్వంగుర్తించింది?
- బి) 74 వసవరణ ఏమి చెబుతుంది?
- సి) 73 వసవరణ ఏ సంవత్సరంలో ఆమోదించింది?
- డి) స్థానికస్వపరిపాలన అంటే ఏమిటి?

సెక్షన్ - IV

గమనిక:

I. అన్ని ప్రశ్నలకు సమాధానములు వ్రాయుము.

II. ప్రతి ప్రశ్నకు 8 మార్కులు

III. అంతర్గత ప్రశ్నల ఎంపిక కలదు.  $5 \times 8 = 40$

29. గంగాసింధూమైదానాలను గూర్చి వివరించండి.

(లేదా)

"సేవారంగము ఇతర రంగములకన్నా భిన్నమైనది" వ్యాఖ్యానించుము.

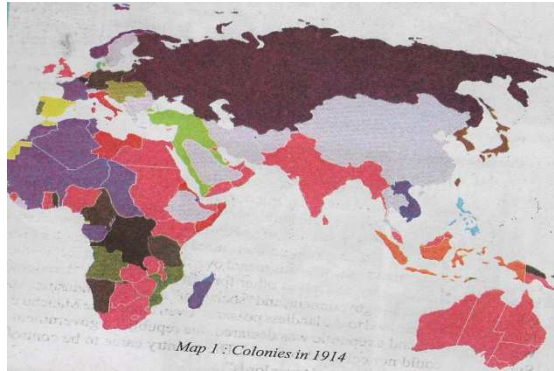
30. హిమాలయాలు కరగడం వలన ఉత్తర భారతదేశంలో భారీ వరదలకు కారణమైంది". మీ జవాబును సమర్థించుకోండి.

(లేదా)

"అక్షరాస్యత రేటు దేశం యొక్క అభివృద్ధిని ప్రభావితం చేస్తుంది" మీరు అంగీకరిస్తున్నారా? లేదా?

మీ అభిప్రాయం రాయండి.

31. క్రింది ప్రపంచ పటాన్ని గమనించుము క్రింది ప్రశ్నలకు జవాబులు వ్రాయుము.



ప్రశ్నలు:

- ఎ) బ్రిటన్లో కృషి చేసిన వ్యక్తి ఆసియా మరియు ఆఫ్రికన్లను ప్రాంతాన్ని గుర్తించండి.
- బి) హాలాండ్ లను కనుగొందిన వ్యక్తి ఆసియా దేశాన్ని మరియు ఒక ఆఫ్రికన్ గుర్తించండి.
- సి) ప్రాన్సుకు చెందిన వ్యక్తి ఆసియా మరియు ఆఫ్రికా వలస దేశాన్ని గుర్తించుము.
- d) ఆస్ట్రేలియా ఎవరికాలనీ.

(లేదా)

భారత రాజ్యాంగం తయారీ ప్రక్రియ గురించి వ్రాయండి.

32. బాలికలు మరియు మహిళలను రక్షించడానికి ఆంధ్ర ప్రదేశ్ ప్రవేశపెట్టబడిన దిషాచట్టం గురించి వ్రాయండి.

(లేదా)

స్వాతంత్ర్యం తరువాత రెండవ దశలో ప్రజలను ఆకర్షించడానికి వివిధ రాజకీయ పార్టీలు అనుసరించిన విధానం ఏమిటి?

33. క్రింది ప్రాంతాలను భారత దేశ పటంలో గుర్తించుము.

- ఎ) మహారాష్ట్ర, గోవా లతీర ప్రాంతము
- బి) పశ్చిమ కనుమలు మరియు తూర్పు కనుమలు కలిసే ప్రదేశం.
- సి) ఖనిజ వనరులు కలిగిన పీఠభూమి.
- d) కన్యాకుమారి.

(లేదా)

క్రింది ప్రాంతాలను ప్రపంచ పటంలో చూపుము.

- (ఎ) యునైటెడ్ ప్రధాన కార్యాలయం
- (బి) ఆసియాలో కాలనీ లేని దేశం.
- (సి) హిట్లర్ డిచేసిన దేశం.
- (డి) జర్మనీ