

పదవతరగతిసంగ్రహణాత్మకమూల్యాంకనం : : జూన్ 2021

సాంఘికశాస్త్రం - పేపరు - I&II

మాదిరిప్రశ్నాపత్రం - 3

(తెలుగుమాధ్యమం)

సమయం: గం. 3-15 ని.లు

గరిష్టమార్కులు: 100

నిబంధనలు:

1. సమాధానాలురాయడానికి 3-00 గంటలు. అదనంగాప్రశ్నాపత్రంచదవడానికి 15 నిమిషాలుకేటాయించడంజరిగింది.
2. ప్రశ్నాపత్రంలో 4 సెక్షన్లుఉన్నాయి
3. సెక్షన్ -IV లో అంతర్గతఎంపికఉంటుంది.

సెక్షన్ - I

NOTE:

1. ఈ సెక్షన్లోవదైనాప్రశ్నకు ఒకటికంటే ఎక్కువసార్లు సమాధానం వ్రాస్తే మునుపటి సమాధానం మాత్రమే పరిగణింపబడుతుంది.
 2. అన్ని ప్రశ్నలకు సమాధానం వ్రాయండి
 3. ప్రతి ప్రశ్నకు 1 మార్కు 12X1=12
1. సింధూనదికి ఉపనదులు -----
 - a) జీలమ్
 - b) చీనాబ్
 - c) బీయాస్
 - d) రావి
 2. వీటిలో పూర్వార్థం చల్కొండలు కానిది.
 - a) మిజోకొండలు
 - b) ఖాసికొండలు
 - c) నీలగిరికొండలు
 3. "దో ఆబ్" అనగా నేమి?
 4. "బహుళపంటలసాగు" ను నిర్వచించుము.
 5. అరబ్ స్పింగ్ అనగా నేమి?

6. పర్యావరణసమతుల్యతపైకొన్నినినాదములువ్రాయుము.
7. ఈ చిత్రముదేనినితెలియజేస్తున్నది?



8. క్రిందివాటిలోమొదటిజతలాగారెండవజతనుపూరింపుము.
I. జర్మనీ : హిట్లర్
II. ఇటలీ : -----
9. భారతదేశంలోటెలికంరంగానికెక్కడఉన్నది?
10. సారావ్యతిరేకోద్యమంఅనగానేమి?
11. క్రిందివాటినివరుసక్రమంలోఅమర్చుము.
I. శాసనోల్లంఘనఉద్యమము
II. ముస్లింలీగ్నార్టీస్టాపన
III. ముస్లిములకుప్రత్యేకంగాఎన్నికలునిర్వహించడం
12. భారతదేశంలోచివరిబ్రిటిషవైస్రాయ్ఎవరు?

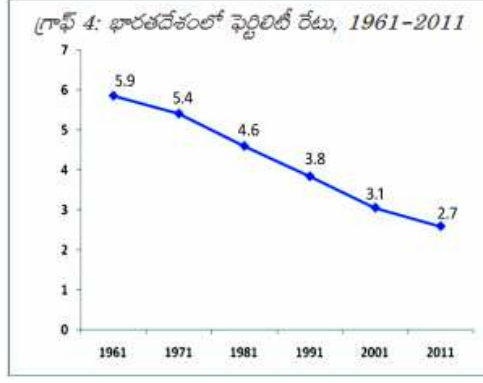
సెక్షన్ - II

1. అన్నిప్రశ్నలకుజవాబులువ్రాయుము.
2. ప్రతిప్రశ్నకు 2 మార్కులు 8X2=16
13. ఇందిరాపాయింట్వార్షివ్రాయుము.
14. దిగువఇచ్చినసమాచారంఆధారంగాఒకపైచార్టునుగీయుము.

| | |
|------------------|---------|
| సెక్టారు | 1972-73 |
| వ్యవసాయరంగము | 74% |
| పారిశ్రామికరంగము | 11% |
| సేవారంగము | 15% |

15. జైపూర్, లేహ్వాన్నా అధికకణ్ణిగ్రతకలిగిఉంది. వివరించుము.

16. క్రిందిగ్రాఫ్ను పరిశీలించినీ స్వంతవాక్యములలో జవాబును వ్రాయుము



17. “తే.బా.గ” ఉధ్యమంగూర్చి వ్రాయుము.

18. అమెరికాన్యాయవ్యవస్థలో ఉన్న వ్యత్యాసాలను పేర్కొనుము.

19. “1956 రాష్ట్రాల పునర్వ్యవస్థీకరణకాలంలో” గిరిజనతెగలచెందిన భాషలను నిర్ణయించే శారు. వ్యాఖ్యానించుము.

20. ప్రస్తుతకాలంలో సంకీర్ణ ప్రభుత్వాలు విజయవంతంగా పనిచేస్తాయని భావిస్తున్నావా? వివరింపుము.

సెక్షన్ -III

I. అన్ని ప్రశ్నలకు సమాధానము వ్రాయుము.

II. ప్రతి ప్రశ్నకు 4 మార్కులు

8X4=32

21. “భూగోళం వేడెక్కడానికి మానవచర్యల కారణం” వ్యాఖ్యానించుము.

22. నాణ్యమైన విద్యను అందించడానికి మరియు పాఠశాలల్లో నమోదును పెంచడానికి ఆంధ్రప్రదేశ్ ప్రభుత్వం ప్రవేశపెట్టిన కొన్ని సంక్షేమ పథకాల పేర్లను వ్రాయుము.

23. క్రింది చిత్రపటాన్ని పరిశీలించి దిగువ ప్రశ్నలకు జవాబులు వ్రాయుము.

What falls under food grains

FOOD GRAINS

- EDIBLE OIL
- CEREALS
 - Coarse Cereals (Eg.: jowar, ragi, bajra and other millets)
 - Fine Cereals (Eg.: rice and wheat)
- PULSES

Many believe 'coarse' cereals to be inferior grains. Because these are called 'coarse' grains, we think these are rough and unhealthy. On the contrary, these are highly nutritious and wholesome grains. They are a staple diet of millions of people living in the dry land regions of the country. Once very familiar in Indian households, the label 'coarse' cereals came with colonial rulers who preferred the white colour of rice and wheat and looked down upon local food and cultural practices. Today, many prefer to call these cereals "nutri-cereals".

ప్రశ్నలు:

- “జొన్నపంట” ఏ రకమైన ఆహారపంట?
- మంచితృణధాన్యాలకు కొన్ని ఉదాహరణలివ్వండి.
- ముతకతృణధాన్యాలకు ఉదాహరణలు ఇవ్వండి.
- ఏముతకతృణధాన్యాలను ఎక్కువగా ఆంధ్రప్రదేశ్లో ఉపయోగించబడతాయి?

24. సోపానక్రమంలో పిరమిడ్ ఆఫ్ ఇండియాను వాసాలను గీయండి మరియు మీ ఆభిప్రాయాన్ని రాయండి.

25. భారతదేశం మరియు పాకిస్తాన్ స్వాభజనకు గల వివిధ కారణాలు ఏమిటి.

26. ఆంధ్రప్రదేశ్ లో కరోనా వైరస్

ను నియంత్రించడానికి కొన్ని చర్యలను సూచించండి మరియు కరోనా వైరస్ వ్యాప్తిని నియంత్రించడంలో కరోనా వ్యాక్సిన్ వ్యాప్తి గురించి రాయండి.

27. భారత రాజ్యాంగంలోని ఆర్టికల్ 370 గూర్చి వ్రాయుము. మరియు అది ఎలా రద్దయింది పేర్కొనుము.

28. క్రింది గ్రాఫ్ను గమనించి ప్రశ్నలకు సమాధానములిమ్ము.



ప్రశ్నలు:

- మ్యాప్ లో ఏమి చిత్రీకరించబడింది?
- పాలస్తీనా విముక్తి ఉద్యమనాయకుడు ఎవరు?
- పాలస్తీనాను ఆక్రమించిన దేశం ఏది?
- 1947 లో UNO చే ఏర్పడిన దేశం ఏది?

సెక్షన్ - IV

గమనిక:

- I. అన్ని ప్రశ్నలకు జవాబులు వ్రాయుము.
- II. ప్రతి ప్రశ్నకు 8 మార్కులు.
- III. అంతర్గత ఎంపిక కలదు.

29. భారతీయ వ్యవసాయానికి హిమాలయాలు ఏ విధంగా దోహదపడుతాయో వివరించండి.

(లేదా)

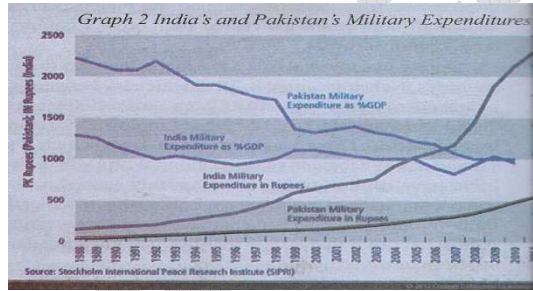
భారతదేశంలో వాతావరణ నియంత్రణల గురించి వివరించండి?

30. ప్రపంచీకరణపై సమాచార సాంకేతిక పరిజ్ఞానం యొక్క ప్రాత్రవిమిటి?

(లేదా)

భారతీయ వ్యవసాయంలో వచ్చిన మార్పులు ఏవి?

31. దిగువ గ్రాఫ్ను పరిశీలించి ప్రశ్నలకు జవాబులు వ్రాయుము.



ప్రశ్నలు:

- a) ఈ గ్రాఫ్ ఏమి వివరిస్తుంది?
- b) ఏదే శాసనానిక వ్యయం ఎక్కువ.
- c) భారతదేశం మరియు పాకిస్తాన్ మధ్య ఇప్పటివరకు ఎన్ని యుద్ధాలు జరిగాయి?
- d) భారతదేశం మరియు పాకిస్తాన్ మధ్య గల వివాదాలు ఏవి?

(లేదా)

“సమాచార హక్కు చట్టం మనలాంటి సామాన్య ప్రజల చేతుల్లో చాలా శక్తివంతమైన ఆయుధం” మీ జవాబును సమర్థించుకోండి.

32. క్రిందిపట్టికనుచదివిదిగువప్రశ్నలకుజవాబులువ్రాయుము.

| వరుససంఖ్య | భావనలు | జరిగినసంఘటనలు |
|-----------|-------------------------|--|
| 1 | ఓటుహక్కు | 1971 లోస్వట్టర్లాండ్లోమహిళలుఓటుహక్కుపొందినారు. |
| 2 | ఎన్నికలగుర్తులు | నిరక్షరాస్యులకుఅర్థంకావడానికి |
| 3 | కాంగ్రెసుచెందినవైస్రాయ్ | 1952, 1957, 1962 ఎన్నికలు |
| 4 | ఆంధ్రమహాసభ | మద్రాస్ప్రెసిడెన్సీలోతెలుగుమాట్లాడేప్రజలనుఏకంచేయడానికి |
| 5 | డి.ఎమ్.కె | తమిళనాడు |

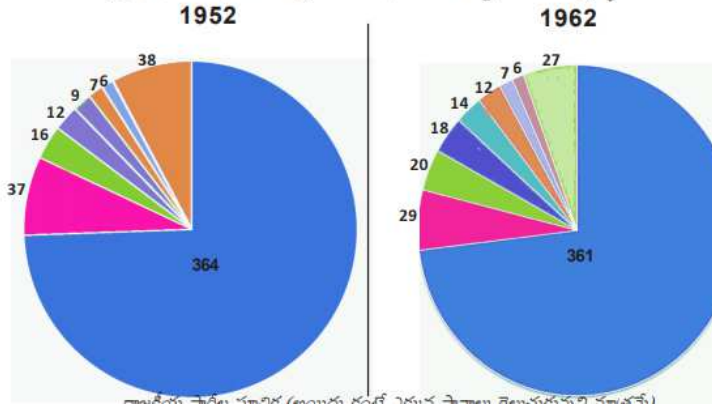
ప్రశ్నలు:

- స్వట్టర్లాండ్లో 1971 లోఏమిజరిగింది?
- ఎన్నికలచిహ్నాలఉపయోగంఏమిటి?
- డిఎంకెపార్టీఏరాష్ట్రానికిచెందినది?
- ఆంధ్రమహాసభయొక్కఉపయోగంఏమిటి?

(లేదా)

క్రిందిగ్రాఫ్నుపరిశీలించివాటిమధ్యగలపోలికలు, భాదాలనువ్రాయుము.

గ్రాఫ్ 1 : 1952, 1962 ఎన్నికలలో వివిధ రాజకీయ పార్టీలు గెలుచుకున్న స్థానాలు



33. భారతదేశపటంలో ఈక్రిందివాటినిగుర్తించండి.

- భారతదేశంయొక్కదక్షిణకొన.
- పాఠశాలవిప్లవంసంభవించినరాష్ట్రం
- సర్కారుతీరం.
- నీలిగిరికొండలు

(లేదా)

క్రింది ప్రాంతాలను ప్రపంచ పటంలో గుర్తించండి.

- a) అంతర్జాతీయ న్యాయస్థానం గల పట్టణం?
- b) ప్రపంచ ఆరోగ్య సంస్థ ఎక్కడ కలదు?
- c) రెండవ ప్రపంచ యుద్ధం నుండి వైదొలిగిన దేశం
- d) జర్మనీ

Sakshieducation.com