

పదవతరగతిసంగ్రహణాత్మకమూల్యాంకనం : : జూన్ 2021

సాంఘికశాస్త్రం – పేపరు – I&II

మాదిరిప్రశ్నా పత్రం-2

(తెలుగుమాధ్యమం)

సమయం: గం. 3-15 ని.లు

గరిష్టమార్కులు: 100

నిబంధనలు:

1. సమాధానాలురాయడానికి 3-00 గంటలు. అదనంగాప్రశ్నా పత్రంచదవడానికి 15 నిమిషాలుకేటాయించడంజరిగింది.
2. ప్రశ్నాపత్రంలో 4 సెక్షన్లుఉన్నాయి
3. సెక్షన్ -IV లో అంతర్గతఎంపికఉంటుంది.

సెక్షన్ - I

NOTE:

1. ఈ సెక్షన్లో ఏదైనా ప్రశ్నకు ఒకటికంటే ఎక్కువ సార్లు సమాధానం వ్రాస్తే మునుపటి సమాధానం మాత్రమే పరిగణించబడుతుంది.
2. అన్ని ప్రశ్నలకు సమాధానం వ్రాయండి
3. ప్రతి ప్రశ్నకు 1 మార్కు $12 \times 1 = 12$
1. IST & GMT మధ్య ఉన్న కాలవ్యత్యాసం ఎంత?
2. “డ్యూన్లు” అనగానేమి? వాటికికొన్ని ఉదాహరణలిమ్ము.
3. ‘GDP’ అనగానేమి?
4. “శాన్-మిన్-చుయ్” సిద్ధాంతాలను ప్రతిపాదించినవారు.

1. సన్-ఎట్-సేన్	జాతీయవాదం, ప్రజాస్వామ్యం మరియు స్వామ్యవాదం
2. చియాంగ్ మై	జాతీయసైనికవాదం

5. 20 వ శతాబ్దాన్ని తీవ్రసంచలనాలయ్యుగం అని పేర్కొన్నవారు ఎవరు?

6. రష్యాలో పంచవర్షవర్షప్రణాళికలను ప్రవేశపెట్టినవారు ఎవరు?

- (a) లెనిన్
- (b) స్టాలిన్
- (c) గోర్బచేవ్
- (d) పుతిన్

7. ఆధునిక చైనా నిర్మాత ఎవరు?

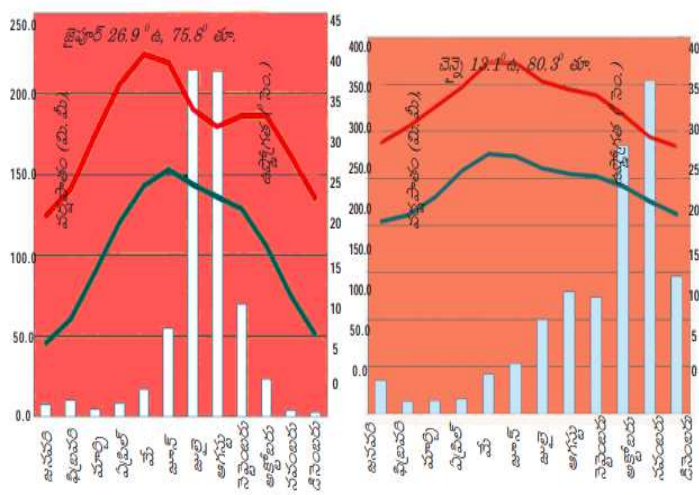
- i. సుందర్లాల్ బాగుణ
- ii. స్వామివిశ్వనాథన్

8. క్రింది పటాన్ని చదివి దిగువ ప్రశ్నలకు జవాబులు వ్రాయుము.



ప్రశ్న: నైరుతి రుతుపవనాలు మొదటగా ఏ రాష్ట్రంలో ప్రవేశిస్తాయి?

- 9. బ్రిటీష్ వారు అనుసరించిన పరిపాలనా విధానం.
- 10. భారత రాజ్యాంగము అమలులోకి వచ్చిన తేదీ.
- 11. మానవ అభివృద్ధి సూచికకు గల కొలమానమునొకదానిని ఉదాహరించుము.
- 12. క్రింద గ్రాఫ్ ను పరిశీలించి దిగువ ప్రశ్నకు జవాబు నిమ్ము.



ప్రశ్న: పైగ్రాఫ్లో అత్యంత తక్కువ వర్షపాతమునిస్తున్న ఏవేని రెండు పట్టణములేవి?

సెక్షన్ - II

1. అన్ని ప్రశ్నలకు జవాబులు వ్రాయుము.

2. ప్రతి ప్రశ్నకు 2 మార్కులు 8X2=16

13. క్రింది వాటిలో దేనిని కాలానుగుణవలస అంటారు.

- a) వైవాహిక కారణం వలన అమ్మాయిలు తల్లిదండ్రుల నుండి భర్త ఇంటికి వెళ్ళడం.
- b) పసుపును పంటలలో పనిచేసే కార్మికులు ఒక జిల్లా నుండి వేరొక జిల్లాకు 3 నెలల పాటు వలస వెళ్ళారు.
- c) సంవత్సరంలో 6 నెలల పాటు బీహార్ నుండి డిల్లీకి వచ్చి పనిచేసే రిక్షా కార్మికులు
- d) మహిళలు నల్గొండ జిల్లా నుండి హైదరాబాదుకు వచ్చి ఇండ్లలో పనిచేసే కార్మికులు

14. పట్టణ ప్రాంతాలలో భూమి వస్తూ తృప్తికి ఉపయోగపడుతుంది.

మరిగ్రామీణ ప్రాంతాలలో భూమి ఏవిధంగా ఉపయోగపడుతుంది?

15. 42 వ రాజ్యాంగ సవరణ యొక్క ఉద్దేశ్యం ఏమిటి?

16. సంక్షేమ రాజ్య భావనను నీవు ఎలా అర్థం చేసుకోంటావు?

17. భారత రాజ్యాంగ ప్రవేశకలో “ భారత ప్రజల మైనమీము” అనుమాటతో ప్రారంభం అవుతుంది.

ఇది భారత ప్రజలలో జాతీయతా భావనను ప్రతిబింబిస్తుందని భావిస్తున్నావా?

18. క్రింది ప్రాంతాలను భారత దేశపటంలో గుర్తించుము.

- i. సింధూ
- ii. ముస్సోరి.



19. హివారేబజారులో ప్రవేశపెట్టిన కార్యక్రమాలేవి?

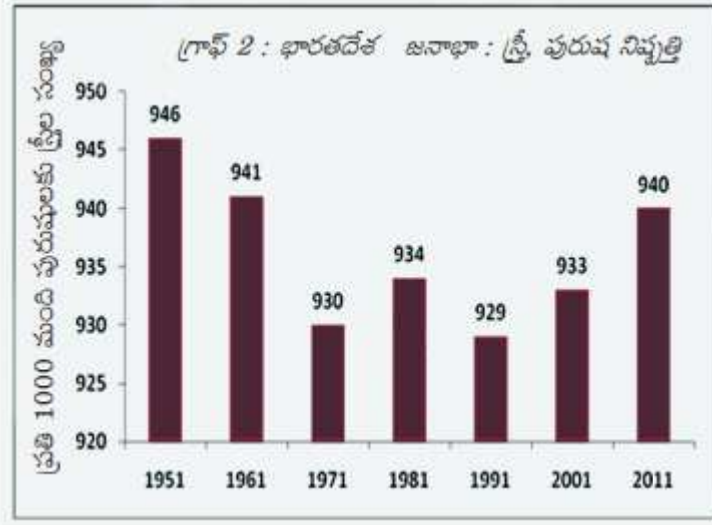
20. భారత రాజ్యాంగంలో ప్రవేశపెట్టిన “లొకిక విలువల” భావనను ప్రశంసించుము.

సెక్షన్ -III

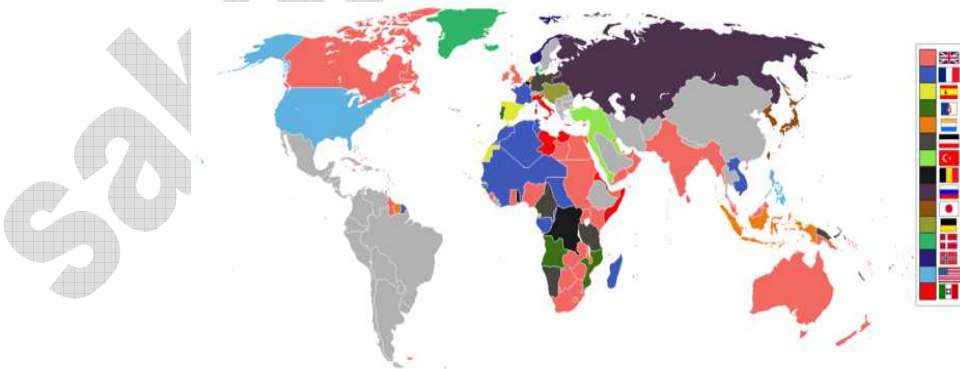
I. అన్ని ప్రశ్నలకు జవాబులు వ్రాయుము.

II. ప్రతి ప్రశ్నకు 4 మార్కులు $8 \times 4 = 32$

21. వ్యవస్థీకృతంగా నికి అవ్యస్థీకృతంగా నికి మధ్య గల వ్యత్యాసాలేవి?
22. తీవ్ర ఆర్థిక మాంద్యము 1929 లో ప్రారంభమయ్యి, 1939 వరకూ కొనసాగింది. దీని కి కారణాలు ఏమిటి? దీని పై ఆర్థిక పేతల అభిప్రాయాలేమిటి?
23. క్రింది గ్రాఫు విశదీకరించి, నీలభిప్రాయమును తెలుపుము.



24. పెరిగిపోతున్న పట్టణీకరణ ప్రజలకు కేవలం ఉపాదిని మరియు ఆర్థిక అవకాశాలను పెంచే దేకాదు దీని వల్ల అనేక దుస్పరిణాలు కూడా ఉన్నాయి. పట్టణీకరణ పై నీలభిప్రాయాన్ని తెలుపుము.
25. భారతదేశము మరియు పాకిస్తాన్ దేశాల మధ్య ప్రస్తుతము ఎలాంటి పరిస్థితులు ఉన్నాయి? ఉదహరించుము.
26. ఆధునిక ప్రపంచ పటంలో 1914 నాటి వలసరాజ్యాలను గుర్తించుము.



27. భారత రాజ్యాంగము సామాజిక న్యాయాన్ని భారతదేశంలో ప్రజలకు అందిస్తున్న తీరును ఏ విధంగా ప్రశంశిస్తావు?
28. స్థానిక ప్రజల జీవన విధానంపై పర్యావరణ ప్రభావము ఏ విధంగా ఉంటుందో వివరించుము.

సెక్షన్ - IV

I. అన్ని ప్రశ్నలకు సమాధానములు వ్రాయుము.

II. ప్రతి ప్రశ్నకు 8 మార్కులు 8X5=40

29. బౌగోళికంగా భారతదేశమును ఎన్ని భాగాలుగా విభజించారు?

హిమాలయా ప్రాంతము మరియు ధక్కన్స్పీరభూమికి మధ్య వ్యత్యాసాలను వివరింపుము. (లేదా)

ఆంధ్రప్రదేశ్లోని ఏ ప్రాంతాలలో అధిక జనసాంద్రత కలదు? దానికి గల కారణాలు ఏవి?

30. 20 వ శతాబ్దపు ప్రదమార్థంలో యుద్ధాల వలన జరిగిన అనేక పరిణామాలను వివరించండి. (లేదా)

“స్వాతంత్ర్యానంతరం భారతదేశంలో సంస్థాల విలీనం ఒక సవాలుతో కూడుకున్న చర్య.”

చర్చించుము.

31. “ఆధునిక సాగు పద్ధతుల అమలుకు అనేక పారిశ్రామిక ఉత్పాదనలు అవసరం. దీనితో మీరు ఏకీభవిస్తారా?”

(లేదా)

“1937 ఎన్నికలలో ముస్లిం లీగాలా తక్కువ శాతం ఓట్లను నమోదు చేసింది. కానీ 10

సంవత్సరాల తరువాత జరిగిన ఎన్నికలలో అత్యధిక మెజారిటీని సాధించింది.”

ప్రశ్న: ముస్లిం లీగ్లో వచ్చిన గణనీయమార్పులపై వ్యాఖ్యానించుము.

32. నాజీల పాలనలో “జేప్” ఏవిధంగా పరిగణించబడ్డారు? ప్రతిదేశంలో కూడా ప్రజలు భిన్నంగా గుర్తింపబడుతారా?

(లేదా)

దిగువ ఇచ్చిన గ్రాపును పరిశీలించి, రాజకీయ పార్టీల తీరును గమనించి విశ్లేషించుము.

1980ల నుంచి నంకీర్ణ ప్రభుత్వాలు కొన్ని రాజకీయ పార్టీలు

అధికారంలో ఉన్న పార్టీలు	నేషనల్ ఫ్రంట్ 1989-1990	అధికారంలో ఉన్న పార్టీలు	యునైటెడ్ ఫ్రంట్ 1996-1998	నేషనల్ డెమోక్రాటిక్ అలయన్స్ 1998-2004	అధికారంలో ఉన్న పార్టీలు
జె.డి. డి.ఎం.కె, ఎ.జి.పి, డి.డి.పి, జమ్ము & కాశ్మీర్ నేషనల్ కాన్ఫెడరేషన్ (జె.కె.ఎన్.సి)	జె.డి.ఎం.కె, డి.డి.పి, డి.ఎం.సి, సి.పి.ఐ, ఎ.జి.పి, డి.ఎం.కె, ఎం.జి.పి.	జె.డి.ఎం.కె, డి.డి.పి, డి.ఎం.సి, సి.పి.ఐ, ఎ.జి.పి, డి.ఎం.కె, ఎం.జి.పి.	జె.డి.ఎం.కె, డి.డి.పి, డి.ఎం.సి, సి.పి.ఐ, ఎ.జి.పి, డి.ఎం.కె, ఎం.జి.పి.	జె.డి.ఎం.కె, డి.డి.పి, డి.ఎం.సి, సి.పి.ఐ, ఎ.జి.పి, డి.ఎం.కె, ఎం.జి.పి.	జె.డి.ఎం.కె, డి.డి.పి, డి.ఎం.సి, సి.పి.ఐ, ఎ.జి.పి, డి.ఎం.కె, ఎం.జి.పి.
మద్దతునిచ్చిన పార్టీలు సి.పి.ఐ, సి.పి.ఐ, బీ.జె.పి	మద్దతునిచ్చిన పార్టీలు సి.పి.ఐ	మద్దతునిచ్చిన పార్టీలు సి.పి.ఐ	మద్దతునిచ్చిన పార్టీలు సి.పి.ఐ	మద్దతునిచ్చిన పార్టీలు డి.డి.పి	మద్దతునిచ్చిన పార్టీలు డి.డి.పి
ఇది ప్రభుత్వంలో భాగస్వామ్యమైన లేదా మద్దతు ఇచ్చిన అన్ని రాజకీయ పార్టీల జాబితా కాదు. తరచు, అయిదుగురు లేదా అంతకంటే ఎక్కువ ఎంపీలు ఉన్న పార్టీలను పేర్కొన్నాయి.					

33. భారతదేశపటంలో క్రింది ప్రాంతాలను గుర్తించుము.

- a) తూర్పు తీరరేఖ
- b) మహారాష్ట్ర రాజధాని
- c) బ్రహ్మపుత్రానది
- d) ఆరావళి పర్వతాలు.

(లేదా)

క్రింది ప్రపంచపటంలో క్రింది ప్రాంతాలను గుర్తించుము.

- a) అడాల్ఫ్ హిట్లర్ పాలించిన దేశము.
- b) ఐక్యరాజ్య సమితి ఉన్న దేశము.
- c) భారతదేశానికి ఈశాన్య దిక్కులో కల దేశము
- d) మధ్యదరాసముద్రము.