

ORV-1318

Booklet No.

GENERAL KNOWLEDGE AND SECRETARIAL ABILITIES

Paper
Code

18130

Series

A

Duration : 150 Minutes

Max. Marks : 150

INSTRUCTIONS TO CANDIDATES

1. Please check the Test Booklet immediately on opening and ensure that it contains all the 150 multiple choice questions printed on it i.e 1-75 questions in Section-I (General Knowledge) and 76-150 questions in Section-II (Secretarial Abilities)
2. Separate Optical Mark Reader (OMR) Answer Sheet is supplied to you. The OMR Answer sheet contains Hall Ticket Number, Paper Code, Booklet Series, Venue Code, Signature of the Candidate and Invigilator etc.,
3. If there is any defect in the Question Paper Booklet or OMR answer sheet, please ask the invigilator for replacement.
4. Since the answer sheets are to be scanned (valued) with Optical Mark Scanner system, the candidates have to **USE BALL POINT PEN (BLUE/BLACK) ONLY** for filling the relevant blocks in the OMR Sheet including bubbling the answers. Bubbling with Pencil / Ink Pen / Gel Pen is not permitted in the examination.
5. The Test Booklet is printed in four (4) Series, viz. A or B or C or D. The Series A or B or C or D is printed on the right-hand corner of the cover page of the Test Booklet. Mark your Test Booklet Series on side 1 of the OMR Answer Sheet by darkening the appropriate circles with **Blue/Black Ball Point Pen**.

Example to fill up the Booklet Series :

If your Test Booklet Series is B, please fill as shown below :

Test Booklet Series



If you have not marked the Test Booklet Series at side 1 of the OMR Answer Sheet or marked in a way that it leads to discrepancy in determining the exact Test Booklet Series, then, in all such cases, your Answer Sheet will be invalidated without any further notice.

అభ్యర్థులకు సూచనలు

1. ప్రశ్నా పత్రాన్ని తెరచిన వెంటనే అందులోని 150 ప్రశ్నలు వాటికిచ్చిన ఆప్షన్లు అన్నీ సరిగ్గా ముద్రించబడ్డాయో లేదో జాగ్రత్తగా పరిశీలించండి. అనగా సెక్షన్-I (జనరల్ నాలెడ్జ్) లో 1-75 ప్రశ్నలు మరియు సెక్షన్-II (సెక్రటేరియల్ ఎబిలిటీస్) లో 76-150 ప్రశ్నలు సరిగ్గా ముద్రించబడినాయో లేదో జాగ్రత్తగా పరిశీలించండి.
2. సమాధానాలను గుర్తించడానికి ప్రత్యేకంగా OMR సమాధాన పత్రాన్ని ఇవ్వడం జరుగుతుంది. అందులో హాల్ టికెట్ నంబరు, పేపర్ కోడ్, బుక్ లెట్ సిరీస్, వెన్యూ కోడ్, అభ్యర్థి సంతకం, ఇన్విజిలెటర్ సంతకాలకు సంబంధించిన వివరాలు నింపడానికి గడులు కేటాయించబడి ఉంటాయి.
3. ప్రశ్నా పత్రంలో కానీ, OMR నమాధాన పత్రం లో కానీ ఏమైనా లోపాలుంటే వాటిని మార్గవలసిందిగా ఇన్విజిలెటర్ను కోరుచు.
4. సమాధాన పత్రాలను ఆప్టికల్ మార్క్ స్కానర్ పరీక్షా వ్యవస్థలో మూల్యాంకనం చేస్తారు. కాబట్టి దానిపైన ఉన్న పుట్టాలను (జవాబులను) నింపటానికి బ్లూ/బ్లాక్ బాల్ పాయింట్ పెన్సులను మాత్రమే ఉపయోగించాలి. పెన్సిల్ లేదా ఇంకు పెన్సు లేదా జెల్ పెన్సులతో బల్బింగ్ చేయటం పరీక్షలో అనుమతించబడదు.
5. ప్రశ్నా పత్రం నాలుగు (4) సీరీస్లు అనగా A లేదా B లేదా C లేదా D సీరీస్లలో ముద్రించబడి ఉంటుంది. ఇది ప్రశ్నాపత్రం కవర్ పేజీ పైభాగాన కుడి వైపున ముద్రించబడి ఉంటుంది. ఈ సీరీస్ను మీ సమాధాన పత్రం యొక్క సైడ్-1-లో దానికి కేటాయించబడిన స్థలంలో బ్లూ/బ్లాక్ బాల్ పాయింట్ పెన్సుతో జాగ్రత్తగా నింపాలి. బుక్ లెట్ సిరీస్ నింపడానికి ఉదా : ఒకవేళ మీ బుక్ లెట్ సిరీస్ 'B' అయితే దాన్ని కింది విధంగా నింపాలి.



OMR సమాధాన పత్రం యొక్క సైడ్ 1-లో మీ బుక్ లెట్ సిరీస్ను నింపకపోయిన లేదా దానిని సరిగ్గా గుర్తించేలా నింపకపోయినా ఎటువంటి నోటీసు ఇవ్వకుండానే మీ సమాధాన పత్రం మూల్యాంకనం నిలిపివేయబడును.

(Continued on page no.-2)

18130-A



ankurisai kumar 952@gmail.com - 766 00 46848

CONFIDENTIAL

SECTION - I
GENERAL KNOWLEDGE

1. Examine the following statements :
- T.B. Radhakrishnan was sworn in as the Chief Justice of High Court of Judicature at Hyderabad on 7th July, 2018.
 - He was the Chief Justice of Rajasthan High Court from January 31, 2017.
 - He hails from Kerala state.
 - He secured his LL.B. degree from Government Law College, Thiruvananthapuram.

కింది వివరణలను పరిశీలించండి.

- తెలంగాణ, ఆంధ్రప్రదేశ్ రాష్ట్రాల హైదరాబాద్ జ్యుడికేటర్ గల హైకోర్టుకు ప్రధాన న్యాయమూర్తిగా టి.బి. రాధాకృష్ణన్ జూలై, 7, 2018 నాడు ప్రమాణ స్వీకారం చేశాడు.
- అతడు జనవరి 31, 2017 నుండి రాజస్థాన్ హైకోర్టు ప్రధాన న్యాయమూర్తిగా పనిచేశాడు.
- అతడు కేరళ రాష్ట్ర నివాసి.
- ప్రభుత్వ లా కాలేజీ, తిరువనంతపురం నుండి తన ఎల్.ఎల్.బి. డిగ్రీ పట్టాను పొందాడు.

Choose the correct answer :

సరియైన జవాబును ఎంపిక చేయండి :

- A, B & C only
- A & C only
- B & D only
- A, C & D only

2. According to the 'Public Affairs Index' (PAI) 2018 released by the think tank Public Affairs Centre (PAC) on July 22, 2018, which states stood in the first three positions ?

- Andhra Pradesh, Kerala & Telangana
- Gujarat, Tamil Nadu & Andhra Pradesh
- Kerala, Tamil Nadu & Telangana
- Kerala, Gujarat & Karnataka

మేధా సంపత్తి గల 'పబ్లిక్ ఎఫైర్స్' జూలై 22, 2018 న విడుదల చేసిన 'పబ్లిక్ ఎఫైర్స్ ఇండెక్స్ (2018 సూచీ)' ప్రకారం ఏ రాష్ట్రాలు మొదటి మూడు స్థానాల్లో నిలిచాయి ?

- ఆంధ్రప్రదేశ్, కేరళ, తెలంగాణ.
- గుజరాత్, తమిళనాడు, ఆంధ్రప్రదేశ్.
- కేరళ, తమిళనాడు, తెలంగాణ.
- కేరళ, గుజరాత్, కర్ణాటక.

3. Which one of the following elements was detected recently by the NASA/ESA Hubble telescope on the exoplanet WASP-1076 which orbits a star that is about 200 light years away ?

- Helium
- Hydrogen
- Platinum
- Oxygen

200 కాంతి సంవత్సరాల దూరంలో ఒక నక్షత్ర కక్ష్యలో ఉన్న ఎక్స్‌ప్లానెట్ డబ్ల్యూ.ఎస్.పి-1076 పై నాసా/ఎస్ఎ హబ్బుల్ టెలిస్కోప్ ద్వారా కింది మూలకాలలో ఏది కనుగొనబడింది ?

- హీలియం
- హైడ్రజన్ (హైడ్రోజన్)
- ప్లాటినం
- ఆక్సిజన్ (ఆక్సిజన్)

4. Disaster mitigation embraces measures taken to reduce the :

- Effect of the hazard
- Vulnerable conditions
- Scale of a future disaster

విపత్తు ఉపశమన తగ్గింపు చర్యలు కింది వాటిలో వేటిని తగ్గించడానికి తీసుకుంటారు ?

- ప్రమాద ప్రభావం
- హాని కలిగించే (వల్నరెబుల్) లేదా దుర్బల పరిస్థితులు
- భవిష్యత్ విపత్తు స్థాయి

Choose the correct answer :

సరియైన జవాబును ఎంపిక చేయండి :

- A & B only
- A, B & C
- A & C only
- B & C only

5. Which one of the following countries withdrew from 'nuclear deal' with Iran ?

- Russia
- South Africa
- The United Kingdom
- The United States of America

ఇరాన్ తో గల 'న్యూక్లియర్ ఒప్పందం' నుండి కింది వాటిలో ఏ దేశం ఉపసంహరించుకుంది ?

- రష్యా
- దక్షిణ ఆఫ్రికా
- యునైటెడ్ కింగ్డమ్
- అమెరికా సంయుక్త రాష్ట్రాలు

6. Which of the following are related to Agni-V missile ?
- Intercontinental ballistic missile (ICBM)
 - Solid fuelled ballistic missile
 - Four stage missile
 - Air to surface launchable missile.

కిందివాటిలో అగ్ని-5 క్షిపణికి సంబంధించినవి ఏవి ?

- ఖండాంతర్గత బాలిస్టిక్ క్షిపణి (ఐసిబిఎం).
- ఘన ఇంధనాన్ని వినియోగించుకునే బాలిస్టిక్ క్షిపణి.
- నాలుగంచల క్షిపణి.
- గగనతలం నుండి భూతలానికి ప్రయోగించగల క్షిపణి.

Choose the correct answer :

సరియైన జవాబును ఎంపిక చేయండి :

- (1) A, B & C only (2) A & B only
(3) B & D only (4) A & D only

7. What is the name of the new drug developed by scientists as an alternative to antibiotics ?

- Orbactiv
- Dalvance
- Sixertro
- Stephefekt

యాంటీబయోటిక్స్ కు ప్రత్యామ్నాయంగా శాస్త్రవేత్తలు అభివృద్ధిపరిచిన నూతన ఔషధం పేరేమిటి ?

- ఆర్బాక్టివ్
- దాల్వెన్స్
- సిక్సెర్ట్రో
- స్టెఫెఫెక్ట్

8. Match the following :

Contamination	Disease
A. Fluorine	1. Blue baby disease
B. Nitrogenous oxides	2. Bone marrow disease
C. Phosphorous oxides	3. Fluorosis

కింది వాటిని జతపరచండి :

కలుషితం	వ్యాధి
A. ఫ్లోరిన్	1. బ్లూ బేబి వ్యాధి
B. నైట్రోజన్ ఆక్సైడ్స్	2. ఎముకల మజ్జా/ములుగు వ్యాధి
C. ఫాస్ఫరస్ ఆక్సైడ్స్	3. ఫ్లోరోసిస్

Choose the correct pairs/answer :

సరియైన జతలను/జవాబును ఎంపిక చేయండి :

- (1) A-3, B-2, C-1 (2) A-3, B-1, C-2
(3) A-2, B-3, C-1 (4) A-1, B-2, C-3

9. Which of the following factors are responsible for the present crisis in the jute industry in India ?

- The decline in overseas market
- Inadequate supply of raw jute
- Stiff competition from synthetic packing materials

భారతదేశంలో జనపనార పరిశ్రమలో ప్రస్తుత సంక్షోభానికి కారణాలు కింది వాటిలో ఏవి ?

- విదేశీ మార్కెట్ లో క్షీణత
- సరిపోని ముడి జనపనార సప్లయ్
- సింథటిక్ ప్యాకింగ్ పదార్థాల నుండి గట్టి పోటీ

Choose the correct answer :

సరియైన జవాబును ఎంపిక చేయండి :

- (1) A & B only (2) B & C only
(3) A & C only (4) A, B & C

10. Which of the following factors are responsible for India's failure to fully exploit the inland fisheries during the last five decades ?

- Silting and pollution of the inland water bodies
- Deforestation in the catchment areas of the rivers
- Lack of marketing facilities

గత ఐదు దశాబ్దాల్లో దేశీయ చేపల పెంపకాన్ని పూర్తిగా సద్వినియోగం చేసుకోవడంలో భారత వైఫల్యానికి కింది వాటిలో ఏవి కారణాలు ?

- దేశీయ నీటి వనరుల కాలుష్యం మరియు ఒండ్రు మట్టితో పూడిపోవటం.
- నదుల పరీవాహక ప్రాంతాల్లో అటవీ నిర్మూలన.
- మార్కెటింగ్ సదుపాయాల కొరత.

Choose the correct answer :

సరియైన జవాబును ఎంపిక చేయండి :

- (1) A, B & C (2) A & B only
(3) A & C only (4) B & C only

11. The three primary soil macronutrients are :

- Carbon, oxygen and water
- Copper, cadmium and carbon
- Potassium, phosphorus and nitrogen
- Boron, zinc and manganese

నెలలో ఉండే మూడు ప్రాథమిక స్థూల పోషకాలు (మ్యాక్రోన్యూట్రియెంట్స్) ఏవి ?

- కార్బన్, ఆక్సిజన్ మరియు నీరు
- కాపర్, క్యాడ్మియం మరియు కార్బన్
- పొటాషియం, ఫాస్ఫరస్ మరియు నైట్రోజన్
- బోరాన్, జింక్ మరియు మాంగనీస్

12. Which one of the following statements describes cartography most accurately ?

- (1) It is the science of map making and map designing.
 (2) It is the science of symbolic representation.
 (3) It deals with construction of projections.
 (4) It is the science of data collection.

కింది వాటిలో మానచిత్రలేఖనా శాస్త్రానికి సరియైన వివరణ ఏది ?

- (1) పటం నిర్మాణం మరియు పటం తయారు చేయటానికి సంబంధించిన శాస్త్రం.
 (2) ఇది సంకేత ప్రాతినిధ్య శాస్త్రం.
 (3) ఇది ప్రక్షేపణల నిర్మితిని తెలియజేసేది.
 (4) ఇది దత్తాంశ సేకరణలకు సంబంధించిన శాస్త్రం.

13. Which erstwhile district of Telangana has seen maximum growth rate of towns ?

- (1) Mahabubnagar (2) Nizamabad
 (3) Medak (4) Ranga Reddy

తెలంగాణలో పట్టణాల పెరుగుదల రేటు ఏ విభజన పూర్వపు జిల్లాలో గరిష్ఠంగా ఉండింది ?

- (1) మహబూబ్ నగర్ (2) నిజామాబాద్
 (3) మెదక్ (4) రంగారెడ్డి

14. Administrative regions are generally accepted as planning regions because :

- A. It is a formal region.
 B. It provides for original hierarchy.
 C. Plan formulation and implementations need administrative machinery.

పరిపాలనా మండలాలను సామాన్యంగా ప్రణాళికా మండలాలుగా ఎందుకు పరిగణిస్తారు ?

- A. ఇది ఒక అధికారిక మండలం.
 B. ఇది మొదటగా వారసత్వాన్ని కల్పిస్తుంది.
 C. ప్రణాళికా రచనకు మరియు అమలుకు పరిపాలనా యంత్రాంగం అవసరం.

Choose the correct answer :

సరియైన జవాబును ఎంపిక చేయండి :

- (1) A, B & C (2) A & B only
 (3) A & C only (4) B & C only

15. Match the following :

- | | |
|-------------------------|-------------------------------|
| List - I | List - II |
| A. V.K.R.V. Rao | 1. Poverty estimation |
| B. Sukhamoy Chakravarty | 2. National Income estimation |
| C. Raja Chellaiah | 3. Fiscal policy |
| D. Dandekar and Rath | 4. Development planning |

కింది వాటిని జతపరచండి :

- | | |
|------------------------|----------------------------|
| లిస్ట్ - I | లిస్ట్ - II |
| A. వి.కె.ఆర్.వి. రావు | 1. పేదరికపు అంచనాలు |
| B. సుఖ్ మాయ్ చక్రవర్తి | 2. జాతీయదాయ అంచనాలు |
| C. రాజా చెల్లయ్య | 3. కోశ విధానం |
| D. దండేకర్, రథ్ | 4. అభివృద్ధి ప్రణాళికా రచన |

Choose the correct pairs/answers :

సరియైన జతలను/జవాబును ఎంపిక చేయండి :

- (1) A-2, B-1, C-4, D-3 (2) A-4, B-1, C-3, D-2
 (3) A-3, B-4, C-2, D-1 (4) A-2, B-4, C-3, D-1

16. Examine the following statements :

- A. If a person works for four or more than four hours, he/she is considered as employed for the whole day.
 B. A person having worked for less than one hour for one day of a week is termed as employed for a week.
 C. The current daily status considers the activity of a person for each day of the preceding seven days.
 D. If a person works between one hour and four hours during the day, he/she is considered as partially employed.

కింది వివరణలను పరిశీలించండి :

- A. ఒక వ్యక్తి ఒక రోజులో నాలుగు గంటలు లేదా అంతకు మించి పనిచేస్తే అతనిని/ ఆమెను పూర్తి రోజు ఉద్యోగిగా పరిగణిస్తారు.
 B. ఒక వ్యక్తి ఒక వారంలో ఏదో ఒక రోజు ఒక గంట కంటే తక్కువ పనిచేస్తే అతనిని/ ఆమెను ఆ వారం కొరకు ఉద్యోగిగా పరిగణిస్తారు.
 C. అంతకు ముందు ఏడు రోజుల యొక్క ప్రతి రోజు ఒక వ్యక్తి పనిచేసే దాన్ని వర్తమాన రోజువారీ స్థితిగా పరిగణిస్తుంది.
 D. ఒక వ్యక్తి ఒక రోజు ఒక గంట నుంచి నాలుగు గంటల వరకు పనిచేస్తే అతనిని/ ఆమెను పాక్షిక ఉద్యోగి అంటారు.

Choose the correct answer :

సరియైన జవాబును ఎంపిక చేయండి :

- (1) A, B & C only (2) A, B & D only
 (3) A, C & D only (4) B, C & D only

17. As per 2011 Census and Socio Economic Outlook-2018 of Telangana government, the following districts of Telangana had more than 53 percent of total population as working population. Arrange these districts in descending order on the basis of their percentage of working population :

- Jagtial
- Jayashankar Bhupalpally
- Jogulamba Gadwal
- Nirmal
- Rajanna Sircilla

2011 జనాభా గణాంకాలు మరియు తెలంగాణ ప్రభుత్వ 'సోషియో ఎకనమిక్ ఔట్‌లుక్-2018' ప్రకారం తెలంగాణలోని కింది జిల్లాలలో 53 శాతం కంటే ఎక్కువ జనాభా శ్రామికులుగా ఉన్నారు. శ్రామిక జనాభా శాతం ఆధారంగా ఈ జిల్లాలను అవరోహణా క్రమంలో అమర్చండి :

- జగిత్యాల
- జయశంకర్ భూపాలపల్లి
- జోగులాంబ గద్వాల
- నిర్మల్
- రాజన్న సిరిసిల్ల

Choose the correct order/answer :

సరియైన క్రమంను/జవాబును ఎంపిక చేయండి :
 (1) A, E, B, C & D (2) D, C, E, A & B
 (3) C, E, A, B & D (4) D, C, B, E & A

18. In comparison to the 13th Finance Commission, the 14th Finance Commission incorporated which of the following new variables for tax devolution ?

- Fiscal discipline of states
- Forest cover
- Human Development Index of the state
- 2011 population

13వ విత్త (ఫైనాన్స్) సంఘంతో పోలిస్తే, 14వ విత్త సంఘం పన్నుల పంపిణీ కోసం కింది వాటిలో ఏ కొత్త చలాంకాలను పరిగణనలోకి తీసుకుంది ?

- రాష్ట్రాల ఆర్థిక క్రమశిక్షణ
- అటవీ విస్తీర్ణం
- రాష్ట్ర మానవ అభివృద్ధి సూచిక
- 2011 జనాభా

Choose the correct answer :

సరియైన జవాబును ఎంపిక చేయండి :

- A & B only (2) A, B & D only
 (3) B & D only (4) C & D only

19. Elements of the basic structure of the Indian Constitution as enunciated by the Supreme Court include :

- Free and fair elections
- Secularism
- Federalism
- Supremacy of the fundamental rights over directive principles of state policy

సుప్రీం కోర్టు ప్రకటించినట్లుగా భారత రాజ్యాంగపు ప్రాథమిక నిర్మాణంలో కింది వాటిలో ఏవి భాగమై ఉంటాయి ?

- ఉచిత మరియు నిజాయితీపరంగా జరిగే ఎన్నికలు.
- సెక్యులరిజమ్ (లోకీకవాదం)
- ఫెడరలిజం (సమాఖ్యవాదం)
- నిర్దేశిక సూత్రాలపై ప్రాథమిక హక్కుల ఆధిపత్యం

Choose the correct answer :

సరియైన జవాబును ఎంపిక చేయండి :

- A, B & D only (2) B, C & D only
 (3) A, C & D only (4) A, B & C only

20. Examine the following pairs pertaining to Telangana demography as per 2011 Census and Socio Economic Outlook-2018 of Government of Telangana :

- Literacy rate in 2011 in Telangana - 66.54%
- Decadal growth rate during 2001-2011 in Telangana - 15.57%
- Urban population to total population in 2011 in Telangana - 40.88%
- Sex ratio of population in 2011 in Telangana - 988
- Density of population in 2011 in Telangana - 342.

2011 జనాభా గణాంకాలు మరియు తెలంగాణ ప్రభుత్వ 'సోషియో ఎకనమిక్ ఔట్‌లుక్-2018' ప్రకారం, తెలంగాణ జనాభా సంబంధిత కింది జతలను పరిశీలించండి :

- 2011లో తెలంగాణలో అక్షరాస్యత రేటు - 66.54 శాతం.
- తెలంగాణలో 2001-2011 దశాబ్దకాలపు జనాభా వృద్ధి రేటు - 15.57 శాతం.
- 2011లో తెలంగాణలో మొత్తం జనాభాలో పట్టణ జనాభా - 40.88 శాతం.
- 2011లో తెలంగాణలో లింగ నిష్పత్తి - 988.
- 2011లో తెలంగాణలో జనాభా సాంద్రత - 342

Choose the incorrect pairs :

సరియైనవి కాని జతలను ఎంపిక చేయండి :

- A, C & D only (2) B, C & E only
 (3) A, B & E only (4) B, C & D only

21. The National Advisory Council (NAC) played an important role in bringing in legislations like

- A. The Mahatma Gandhi National Rural Employment Guarantee Act
- B. The Right to Information Act
- C. The National Judicial Appointments Commission (NJAC) Bill
- D. The Citizenship (Amendment) Bill 2016

కింద ఇవ్వబడిన వాటిలో ఏ చట్టాలను తీసుకురావడంలో జాతీయ సలహా మండలి (ఎన్ఎసి) ముఖ్యమైన పాత్రను పోషించింది?

- A. మహాత్మా గాంధీ జాతీయ గ్రామీణ ఉపాధి హామీ చట్టం.
- B. సమాచార హక్కు చట్టం.
- C. జాతీయ న్యాయ నియామకాల కమిషన్ (ఎన్జెఎసి) బిల్లు.
- D. పౌరసత్వం (సవరణ) బిల్లు, 2016.

Choose the correct answer :

సరియైన జవాబును ఎంపిక చేయండి :

- (1) A & B only (2) A & C only
- (3) A & D only (4) B & C only

22. Match the following :

List - I

- A. Kesavananda Bharati
- B. Indira Nehru Gandhi Vs Raj Narain
- C. L.Chandrakumar Vs UOI
- D. S.R. Bommai

List - II

- 1. Free and fair elections
- 2. Right to property
- 3. Emergency powers
- 4. Tribunals

కింది వాటిని జతపరచండి :

లిస్ట్ - I

- A. కేశవానంద భారతి
- B. ఇందిరా నెహ్రూ గాంధీ వర్సెస్ రాజ్ నారాయణ్
- C. ఎల్. చంద్రకుమార్ వర్సెస్ యుటబి
- D. ఎస్.ఆర్. బొమ్మయి

లిస్ట్ - II

- 1. ఉచిత మరియు న్యాయమైన ఎన్నికలు
- 2. ఆస్తి హక్కు
- 3. అత్యవసర అధికారాలు
- 4. ట్రిబ్యునల్స్

Choose the correct pairs/answer :

సరియైన జతలను/జవాబును ఎంపిక చేయండి :

- (1) A-1, B-3, C-4, D-2 (2) A-2, B-1, C-4, D-3
- (3) A-3, B-2, C-1, D-4 (4) A-2, B-3, C-4, D-1

23. Match the following :

List - I

- A. Right to Equality
- B. NJAC case
- C. Reservations
- D. Right to Privacy

List - II

- 1. Indra Sawhney Vs UOI
- 2. Justice K.S. Puttaswamy Vs UOI
- 3. Menaka Gandhi Vs UOI
- 4. Supreme Court Advocates-on-Record Association Vs UOI

కింది వాటిని జతపరచండి :

లిస్ట్ - I

- A. సమానత్వపు హక్కు
- B. జాతీయ న్యాయ నియామకాల కమిషన్ కేసు
- C. రిజర్వేషన్లు
- D. ప్రైవసీ హక్కు

లిస్ట్ - II

- 1. ఇంద్రా సహనె వర్సెస్ యుటబి
- 2. జస్టిస్ కె.ఎస్. పుట్టస్వామి వర్సెస్ యుటబి
- 3. మేనకా గాంధీ వర్సెస్ యుటబి
- 4. సుప్రీం కోర్టు అడ్వకేట్స్-ఆన్-రికార్డ్ అసోసియేషన్ వర్సెస్ యుటబి

Choose the correct pairs/answer :

సరియైన జతలను/జవాబును ఎంపిక చేయండి :

- (1) A-1, B-2, C-3, D-4
- (2) A-2, B-3, C-4, D-1
- (3) A-4, B-3, C-2, D-1
- (4) A-3, B-4, C-1, D-2

24. Examine the following statements :

- A. A member of Parliament shall be disqualified for being a member of the House if he has voluntarily given up his membership of such political party.
- B. A member of Parliament shall be disqualified for being a member of the House if he speaks against the leader of the party he belongs to.
- C. A member of Parliament shall be disqualified for being a member of the House if he supports a no confidence motion against his own government.
- D. A member of Parliament shall be disqualified for being a member of the House if he votes or abstains from voting in such House contrary to any direction issued by the political party that he belongs to.

కింది వివరణలను పరిశీలించండి :

- A. ఒక పార్లమెంట్ సభ్యుడు తన రాజకీయ పార్టీ సభ్యత్వాన్ని స్వచ్ఛందంగా వదులుకుంటే ఆ సభలో సభ్యుడిగా ఉండటానికి అనర్హుడు అవుతాడు.
- B. ఒక పార్లమెంట్ సభ్యుడు తన రాజకీయ పార్టీ అధినేతకు వ్యతిరేకంగా మాట్లాడితే ఆ సభలో సభ్యుడిగా ఉండటానికి అనర్హుడు అవుతాడు.
- C. ఒక పార్లమెంట్ సభ్యుడు అధికారంలో ఉన్న తన పార్టీ ప్రభుత్వానికి వ్యతిరేకంగా అవిశ్వాస తీర్మానానికి మద్దతునిస్తే తన పార్లమెంట్ సభ్యత్వానికి అనర్హుడు అవుతాడు.
- D. తాను సభ్యుడిగా ఉన్న రాజకీయ పార్టీ జారీ చేసిన ఆదేశాలకు వ్యతిరేకంగా ఓటు వేస్తే లేదా ఓటింగ్ కు దూరంగా ఉంటే తన పార్లమెంట్ సభ్యత్వానికి అనర్హుడు అవుతాడు.

Choose the correct answer :

సరియైన జవాబును ఎంపిక చేయండి :

- (1) A & B only (2) A & D only
- (3) B & C only (4) C & D only

25. Examine the following statements :

- A. A person chosen to be a chief minister of a state does not have to be a member of the legislative assembly.
- B. The disqualification attached to a member of legislative assembly do not apply to a chief minister.
- C. A person chosen to be a chief minister cannot be sworn in if he/she has incurred a disqualification prescribed for a member of the assembly.

కింది వివరణలను పరిశీలించండి.

- A. ఒక రాష్ట్రంలో ముఖ్యమంత్రిగా ఎంపిక చేయబడిన వ్యక్తి శాసనసభ సభ్యుడిగా ఉండవలసిన అవసరం లేదు.
- B. శాసనసభ సభ్యుడిగా అనర్హత వేటుపడినప్పటికీ, ముఖ్యమంత్రి కావటానికి అది అభ్యంతరం కాదు.
- C. అసెంబ్లీలో సభ్యుడిగా ఉండటానికి అనర్హత వేటుపడితే ముఖ్యమంత్రిగా ఎంపికైన ఆ వ్యక్తి ప్రమాణ స్వీకారం చేయలేడు.

Choose the correct answer :

సరియైన జవాబును ఎంపిక చేయండి :

- (1) A, B & C (2) A & B only
- (3) B & C only (4) A & C only

26. Which of the following are NOT constitutional bodies ?

- A. National Commission for Women
- B. National Commission for Minorities
- C. National Commission for Human Rights
- D. National Commission for Scheduled Castes

కింది వాటిలో రాజ్యాంగబద్ధమైన సంస్థలు కానివి ఏవి ?

- A. మహిళా జాతీయ కమిషన్
- B. మైనారిటీ జాతీయ కమిషన్
- C. మానవ హక్కుల జాతీయ కమిషన్
- D. షెడ్యూల్డ్ కులాల జాతీయ కమిషన్

Choose the correct answer :

సరియైన జవాబును ఎంపిక చేయండి :

- (1) A, C & D only (2) A, B & D only
- (3) A, B & C only (4) B & C only

27. Who are the permanent invitees to the meetings of the Mandal Praja Parishads ?
- The Collector of the district
 - The sarpanches of the villages in the mandal
 - The chairperson of the Zilla Praja Parishad

మండల ప్రజాపరిషత్తు సమావేశాలకు శాశ్వత అహ్వానితులు ఎవరు ?

- జిల్లా కలెక్టర్
- మండల పరిధిలోని గ్రామసర్పంచులు
- జిల్లా ప్రజాపరిషత్ అధ్యక్షుడు/రాలు

Choose the correct answer :

సరియైన జవాబును ఎంపిక చేయండి :

- (1) A, B & C (2) A & B only
- (3) A & C only (4) B & C only

28. Examine the following statements :

- According to Panchayat Act, 2018 of Telangana state, 4389 new panchayats will be created.
- Andhra Pradesh 1994 Act of Panchayats will apply to the state of Telangana.
- According to Telangana Panchayat Act, 2018, tandas will become gram panchayats and would be reserved for scheduled tribes (STs) only.
- According to Telangana Panchayat Act, 2018, nagarapalikas will continue.

కింది వివరణలను పరిశీలించండి :

- తెలంగాణ రాష్ట్ర పంచాయితీ చట్టం 2018 ప్రకారం, 4,389 కొత్త పంచాయితీలు ఏర్పాటు చేయబడతాయి.
- ఆంధ్రప్రదేశ్ 1994 పంచాయితీ చట్టం తెలంగాణ రాష్ట్రానికి వర్తిస్తుంది.
- తెలంగాణ పంచాయితీ చట్టం 2018 ప్రకారం తండాలు గ్రామ పంచాయితీలుగా మారుతాయి మరియు వాటిని పెడ్యూల్డ్ తెగల వారికి మాత్రమే రిజర్వ్ చేస్తారు.
- తెలంగాణ పంచాయితీ చట్టం, 2018 ప్రకారం నగర పాలికలు కొనసాగుతాయి.

Choose the correct answer :

సరియైన జవాబును ఎంపిక చేయండి :

- (1) A & B only (2) A & C only
- (3) B & D only (4) B & C only

29. Examine the following statements about National Social Assistance Programme (NSAP):

- It is a centrally sponsored scheme of the Government of India.
- It was launched in 2012.
- It provides financial assistance to the aged, widows and persons with disabilities who live below the poverty line in the form of social pensions.
- It is administered by the Ministry of Rural Development, Government of India.

'జాతీయ సామాజిక సహాయ కార్యక్రమం' (ఎన్ఎస్ఎస్ఎఫ్) గురించిన కింది వివరణలను పరిశీలించండి :

- ఇది భారత ప్రభుత్వం యొక్క కేంద్రీకృత ప్రాయోజిత పథకం.
- ఈ పథకాన్ని 2012లో ప్రారంభించారు.
- దారద్ర్య రేఖకు దిగువన (బిపిఎల్) జీవిస్తున్న వృద్ధులకు, వితంతువులకు మరియు వికలాంగులకు సామాజిక పెన్షన్ రూపంలో ఆర్థిక సహాయం అందిస్తుంది.
- భారత ప్రభుత్వం యొక్క గ్రామీణాభివృద్ధి మంత్రిత్వ శాఖచే ఈ పథకం నిర్వహించబడుతుంది.

Choose the correct answer :

సరియైన జవాబును ఎంపిక చేయండి :

- (1) A, B & C only (2) B, C & D only
- (3) A, C & D only (4) B & D only

30. Match the following :

Act	Year
A. 73 rd Constitutional Amendment	1. 2018
B. PESA Act	2. 1996
C. Telangana Panchayati Raj Act	3. 1994
D. Andhra Pradesh Panchayati Raj Act	4. 1992
	5. 2016

కింది వాటిని జతపరచండి :

చట్టం

సంవత్సరం

- 73వ రాజ్యాంగ సవరణ 1. 2018
- పిఇఎస్ఎ (PESA) చట్టం 2. 1996
- తెలంగాణ పంచాయితీ రాజ్ చట్టం 3. 1994
- ఆంధ్రప్రదేశ్ పంచాయితీ రాజ్ చట్టం 4. 1992
- 2016 5.

Choose the correct pairs/answer :

సరియైన జతలను/జవాబును ఎంపిక చేయండి :

- (1) A-1, B-4, C-5, D-3 (2) A-4, B-2, C-1, D-3
- (3) A-2, B-3, C-1, D-5 (4) A-3, B-2, C-5, D-1

31. Match the following :

Committee	Purpose
A. Sadiq Ali Committee - 1962	1. Revitalising the panchayat raj institutions
B. Naik Committee - 1963	2. High power committee of Rajasthan
C. Vyas Committee - 1971	3. Report on the working of panchayats
	4. Functioning of panchayat raj institutions

కింది వాటిని జతపరచండి :

కమిటీ	ఉద్దేశం
A. సాదిక్ అలీ కమిటీ-1962	1. పంచాయితీ రాజ్ వ్యవస్థ పునర్నిర్మాణం
B. నాయక్ కమిటీ-1963	2. హై పవర్ కమిటీ, రాజస్థాన్
C. వ్యాస్ కమిటీ-1971	3. పంచాయితీల యొక్క పనితీరుపై నివేదిక
	4. పంచాయితీ రాజ్ వ్యవస్థల యొక్క విధుల నిర్వహణ

Choose the correct pairs/answer :

సరియైన జతలను/జవాబును ఎంపిక చేయండి :

- (1) A-3, B-4, C-2 (2) A-3, B-1, C-4
(3) A-1, B-4, C-3 (4) A-4, B-2, C-3

32. Which of the following statements is/are true ?

- A. Composition of the State Finance Commission will be provided by the state government.
B. Article 280 of the Indian Constitution deals with State Finance Commission.

Choose the correct answer :

- (1) Both A and B are correct.
(2) Both A and B are incorrect.
(3) Only A is correct.
(4) Only B is correct.

కింది వాటిలో ఏది/వి సరియైనది/వి ?

- A. రాష్ట్ర ఆర్థిక సంఘం యొక్క కూర్పును సంబంధిత రాష్ట్ర ప్రభుత్వం చేస్తుంది.
B. రాజ్యాంగ అధికరణ 280 రాష్ట్ర ఆర్థిక సంఘంను గూర్చి తెలియజేస్తుంది.

సరియైన జవాబును ఎంపిక చేయండి :

- (1) A మరియు B రెండూ సరియైనవి.
(2) A మరియు B రెండూ సరియైనవి కావు.
(3) A మాత్రమే సరియైనది.
(4) B మాత్రమే సరియైనది.

33. Gram Swaraj Abhiyan was organised from 14th April to 5th May, 2018. Under which slogan, the campaign was undertaken ?

- (1) Sabka sath, sabka gaon, sabka vikas
(2) Apna gaon, apna raaj, sabka vikas
(3) Empowerment of women, SCs and STs
(4) Ujjwala panchayat

గ్రామ స్వరాజ్ అభియాన్ కార్యక్రమాన్ని ఏప్రిల్ 14, 2018 నుండి మే 5, 2018 వరకు నిర్వహించారు. కింది వాటిలో దేనిని ప్రచారం చేయుటకు ఈ కార్యక్రమం చేపట్టబడింది ?

- (1) సబ్కా సాత్, సబ్కా గావ్, సబ్కా వికాస్
(2) అప్నా గావ్, అప్నా రాజ్, సబ్కా వికాస్
(3) మహిళల, షెడ్యూల్డ్ తరగతుల మరియు షెడ్యూల్డ్ తెగల సాధికారత
(4) ఉజ్వల పంచాయితీ

34. Match the following :

List - I	List - II
A. Delhi	1. Nana Saheb
B. Lucknow	2. Lakshmi Bai
C. Kanpur	3. Colin Campbell
D. Gwalior	4. Bahadurshah II

కింది వాటిని జతపరచండి :

లిస్ట్ - I	లిస్ట్ - II
A. ఢిల్లీ	1. నానాసాహెబ్
B. లక్నో	2. లక్ష్మీ బాయి
C. కాన్పూర్	3. కోలిన్ క్యాంపెబెల్
D. గ్వాలియర్	4. రెండో బహదూర్షా

Choose the correct pairs/answer :

సరియైన జతలను/జవాబును ఎంపిక చేయండి :

- (1) A-3, B-4, C-2, D-1 (2) A-2, B-1, C-3, D-4
(3) A-1, B-2, C-4, D-3 (4) A-4, B-3, C-1, D-2

35. Which of the following are functional items in the Eleventh Schedule of the Indian Constitution ?

- A. Conventional energy
B. Public distribution system
C. Small-scale industry
D. Mining
E. Fisheries

భారత రాజ్యాంగం యొక్క పదకొండవ (11) షెడ్యూల్ ప్రకారం కింది వాటిలో ఏవి క్రియాత్మక అంశాలు ?

- A. సాంప్రదాయక ఇంధనం
B. ప్రజా పంపిణీ వ్యవస్థ
C. చిన్నతరహా పరిశ్రమ
D. గనులు
E. మత్స్య పరిశ్రమ

Choose the correct answer :

సరియైన జవాబును ఎంపిక చేయండి :

- (1) A, C & D only (2) B, C & E only
(3) A, B, D & E only (4) A, B, C, D & E

36. "The way that the natives were kept away from the jobs by the British government has no example that it has occurred in any other country"-

This was observed by :

- (1) Lord Cornwallis
- (2) Sir Thomas Munro
- (3) Lord William Bentinck
- (4) Lord Wellesley

'భారతదేశంలో స్థానికులను బ్రిటీష్ ప్రభుత్వం ఉద్యోగాల నుండి వెలివేసిన విధం, మరే దేశంలోను జరిగినట్లు ఉదాహరణ కూడా లభించదు' - ఈ వివరణను ఇచ్చింది ఎవరు ?

- (1) కారన్ వాలీస్ ప్రభువు
- (2) సర్ థామస్ మన్రో
- (3) విలియమ్ బెంటింక్ ప్రభువు
- (4) వెల్లెస్లీ ప్రభువు

37. Identify the inscription, which is not correctly matched with its year of issuing :

Inscription	Year
(1) Miyan-mishque epigraph	1681 CE
(2) Gazinagar epigraph	1576-77 CE
(3) Warangal epigraph	1509 CE
(4) Badshahi Ashurkhana epigraph	1592-96 CE

కింది పేర్కొనబడిన శాసనాలలో ఒకటి అది జారీ చేయబడిన సంవత్సరంతో సరిపడడం లేదు. ఆ శాసనాన్ని గుర్తించండి.

శాసనం	సంవత్సరం
(1) మియాన్-మిష్కే శాసనం	క్రీ.శ. 1681
(2) ఘాజీనగర్ శాసనం	క్రీ.శ. 1576-77
(3) వరంగల్ శాసనం	క్రీ.శ. 1509
(4) బాద్షాహీ ఆశుఖానా శాసనం	క్రీ.శ. 1592-96

38. 'Simhasana Dwatrimshika' a telugu work written by Koravi Goparaju was regarded as 'First Encyclopedia in Telugu'. Whose court poet was Koravi Goparaju ?

- (1) Rana Mallu
- (2) Raja Kirthivarma
- (3) Rana Madhanayaka
- (4) Abhinava Chandra

తెలుగులో మొట్టమొదటి విజ్ఞాన సర్వస్వంగా పేరుగాంచిన 'సింహాసన ద్వాత్రింశిక' ను రచించిన కొరవి గోపరాజు ఎవరి ఆస్థాన కవి ?

- (1) రాణా మల్లు
- (2) రాజా కీర్తివర్మ
- (3) రాణా మాదనాయకుడు
- (4) అభినవ చంద్ర

39. The revolutionary from Andhra who played a leading role in the activities of the Gadar Party was :

- (1) Gadicherla Harisarvothama Rao
- (2) Duggirala Gopalakrishnaiah
- (3) Kanneganti Hanumanthu
- (4) Darsi Chenchiah

గదర్ పార్టీ కార్యక్రమాల్లో ప్రముఖ పాత్ర వహించిన ఆంధ్ర ప్రాంతానికి చెందిన విప్లవకారుడు ఎవరు ?

- (1) గాడిచెర్ల హరిసర్వోత్తమ రావు
- (2) దుగ్గిరాల గోపాలకృష్ణయ్య
- (3) కన్నెగంటి హనుమంతు
- (4) దర్శి చెంచయ్య

40. According to French jeweller Tavernier, the world famous Kohinoor diamond was found in the mine of :

- (1) Kollur
- (2) Kolar
- (3) Ramallakota
- (4) Gandikota

ఫ్రెంచి నగల వ్యాపారి టావెర్నియర్ ప్రకారం, ప్రపంచ ప్రసిద్ధి గాంచిన కోహినుర్ వజ్రం ఏ గనిలో దొరికింది ?

- (1) కొల్లూరు
- (2) కోలార్
- (3) రామళ్ళకోట
- (4) గండికోట

41. The founder of Calcutta Indian Association was :

- (1) Ananda Mohan Bose
- (2) Surendranath Banerjee
- (3) Bipin Chandrapal
- (4) Veerendranatha Chattopadhyaya

కలకత్తా భారతీయ సంఘం స్థాపకుడు ఎవరు ?

- (1) ఆనందమోహన్ బోస్
- (2) సురేంద్రనాథ్ బెనర్జీ
- (3) బిపిన్ చంద్ర పాల్
- (4) వీరేంద్రనాథ్ చటోపాధ్యాయ

42. Which one of the following books was NOT correctly matched with its author ?

Book	Author
(1) Sukasaptati	- Palavekirikadiripati
(2) Tariq-e-Ferozshahi	- Zia-ud-din Barani
(3) Nuh-siphir	- Ferishta
(4) Hamsa Vimsathi	- Ayyilaraju Narayanamatya

కింది రచనల్లో, దాని రచయితతో సరిగ్గా జత కుదరనిది ఏది ?

రచన	రచయిత
(1) శుక సప్తతి	- పాలవేకిరికదిరిపతి
(2) తారీఖ్-ఇఫిరోజ్	- జియా ఉద్దీన్ బరనీ షాహి
(3) నుహ్-సిఫర్	- ఫెరిష్టా
(4) హంస వింసతి	- అయ్యలరాజు నారాయణమాత్యుడు

43. Identify the work of Qutbshahi age which was NOT properly matched with its author.

Book	Author
(1) Yayathi Charitram	- Ponnaganti Telaganarya
(2) Vijayanthi Vilasam	- Addanki Gangadhara
(3) Kukutsa Vijayam	- Matla Anantha
(4) Sugreeva Vijayam	- Kandukuri Rudra Kavi

కుతుబ్షాహీల కాలానికి చెందిన కింద పేర్కొనబడిన రచనల్లో ఒకటి, దాని రచయిత పేరుతో సరిపోవడం లేదు. ఆ రచనను గుర్తించండి :

రచన	రచయిత
(1) యయాతి చరిత్ర	- పొన్నగంటి తెలగనార్యుడు
(2) వైజయంతీ విలాసం	- అద్దంకి గంగాధరుడు
(3) కుకుత్స విజయం	- మట్ల అనంతుడు
(4) సుగ్రీవ విజయం	- కందుకూరి రుద్ర కవి

44. Arrange the following days during Telangana movement (1968-71) chronologically :

- Telangana Korikala Dinamu
- Telangana Hamali Dinamu
- Telangana Pataaka Dinamu
- Telangana Vanchana Dinamu

తెలంగాణ ఉద్యమ కాలం (1968-71) నాటి కింది దినంలను వరుస క్రమంలో అమర్చండి :

- తెలంగాణ కోరికల దినం
- తెలంగాణ హమాలీ దినం
- తెలంగాణ పతాక దినం
- తెలంగాణ వంచన దినం

Choose the correct order/answer :

సరియైన క్రమంను/జవాబును ఎంపిక చేయండి :

- a, b, c, d
- b, d, a, c
- c, a, d, b
- d, c, b, a

45. Match the following :

List - I	List - II
A. Jalianwala Bagh	1. Hastings
B. Ramadandu	2. Wellesley
C. Subsidiary Alliance	3. Gopalakrishnaiah
D. Suppression of Pindaries	4. Michail 'O' Dyer

కింది వాటిని జతపరచండి :

లిస్ట్ - I	లిస్ట్ - II
A. జలియన్ వాలాబాగ్	1. హేస్టింగ్స్
B. రామదండు	2. వెల్లెస్లీ
C. సైన్య సహకార ఒడంబడిక	3. గోపాలకృష్ణయ్య
D. పిండారీల అణచివేత	4. మైకేల్ ఒడయ్యర్

Choose the correct pairs/answer :

సరియైన జతలను/జవాబును ఎంపిక చేయండి :

- A-2, B-1, C-4, D-3
- A-4, B-3, C-2, D-1
- A-3, B-4, C-1, D-2
- A-1, B-2, C-3, D-4

46. Match the following :

Organisations	Persons
A. Telangana Prantiya Samithi	1. P.V. Giri
B. Telangana Non-Gazetted Officers Union	2. Kolishetti Ramadas
C. Telangana Rakshanala Samithi	3. T. Purushotham Rao
D. Kothagudem Thermal Power Station Employees' Union	4. K.R. Amose

కింది వాటిని జతపరచండి :

సంస్థలు	వ్యక్తులు
A. తెలంగాణ ప్రాంతీయ సమితి	1. పి.వి. గిరి
B. తెలంగాణ నాన్ గెజిటెడ్ ఆఫీసర్స్ యూనియన్	2. కొలిశెట్టి రామదాసు
C. తెలంగాణ రక్షణల సమితి	3. టి. పురుషోత్తమ రావు
D. కొత్త గూడెం థర్మల్ పవర్ స్టేషన్ ఎంప్లాయిస్ యూనియన్	4. కె.ఆర్.అమోస్

Choose the correct pairs/answer :

సరియైన జతలను/జవాబును ఎంపిక చేయండి :

- (1) A-2, B-4, C-3, D-1
- (2) A-1, B-3, C-2, D-4
- (3) A-2, B-1, C-4, D-3
- (4) A-4, B-3, C-1, D-2

47. Which one of the following statements is NOT correct ?

- (1) The then President, APJ Abdul Kalam addressed the joint houses of the Parliament and repeated the national common minimum programme formulation on Telangana issue.
- (2) On February 5, 2010, the Government of India constituted the Srikrishna Committee to examine the issue of bifurcation of Andhra Pradesh.
- (3) A group of ministers (GOM) was constituted on October 8th, 2013 to prepare legislation to give effect to the cabinet decision at 3rd October, 2013.
- (4) On December 12, 2013, the then President, Pranab Mukherjee referred the Andhra Pradesh Reorganisation Bill to the Andhra Pradesh Legislature.

కింది వాటిలో ఏది సరియైన వివరణ కాదు ?

- (1) అప్పటి రాష్ట్రపతి అయిన ఎ.పి.జె. అబ్దుల్ కలామ్ పార్లమెంటు ఉభయ సభల సంయుక్త సమావేశాన్ని ఉద్దేశించి మాట్లాడుతూ 'యుపిఎ ప్రభుత్వ కామన్ మినిమమ్ ప్రోగ్రామ్' ల భాగంగా సరియైన సమయంలో తెలంగాణ ఏర్పాటు అంశాన్ని ప్రభుత్వం చేపడుతుందని అన్నాడు.
- (2) ఫిబ్రవరి 5, 2010 నాడు కేంద్ర ప్రభుత్వం ఆంధ్రప్రదేశ్ విభజన అంశాన్ని అధ్యయనం చేయటానికి శ్రీకృష్ణ కమిటీని నియమించింది.
- (3) అక్టోబర్ 3, 2013న కేంద్ర మంత్రివర్గం చే ఆమోదించబడిన తెలంగాణ నోట్ అమలు దిశగా ముసాయిదా తీర్మానం ఏర్పాటుకై 'గ్రూప్ ఆఫ్ మినిస్టర్స్' ను (జిఓఎం) అక్టోబర్ 8, 2013న ఏర్పాటు చేయటం జరిగింది.
- (4) డిసెంబర్ 12, 2013న అప్పటి రాష్ట్రపతి, ప్రణబ్ ముఖర్జీ ఆంధ్రప్రదేశ్ పునర్ వ్యవస్థీకరణ బిల్లును పరిశీలనకై ఆంధ్రప్రదేశ్ శాసన సభకు పంపించాడు.

48. Match the following :

Book	Writer
A. Gidi Telangana	1. D. Satyanarayana
B. Telangana March	2. K. Dileep
C. Jalasadana Samaramu	3. Cartoonist Shekar
D. A Rebuttal to Vishalandhra Gobles Propaganda	4. Pittala Ravinder

కింది వాటిని జతపరచండి :

పుస్తకం	రచయిత
A. 'గిడి తెలంగాణ'	1. డి. సత్యనారాయణ
B. 'తెలంగాణ మార్చి'	2. కె. దిలీప్
C. 'జలసాధన సమరము'	3. కార్టూనిస్ట్ శేఖర్
D. 'ఎ రిబట్టల్ టు విశాలాంధ్ర గోబల్స్ ప్రోపాగండ్'	4. పిట్టల రవీందర్

Choose the correct pairs/answer :

సరియైన జతలను/జవాబును ఎంపిక చేయండి :

- (1) A-3, B-2, C-1, D-4 (2) A-2, B-4, C-3, D-1
(3) A-3, B-4, C-1, D-2 (4) A-4, B-1, C-3, D-2

49. Arrange the following incidents on the basis of their occurrence in a chronological order :

- The death of Y.S. Rajashekar Reddy, Chief Minister of Andhra Pradesh, in helicopter crash.
- Srikrishna Committee submitted its report to the government.
- K. Chandrashekhara Rao went on hunger strike demanding the creation of Telangana state.
- K. Roshaiiah resigned as the Chief Minister of Andhra Pradesh.

కింది సంఘటనలను అవి జరిగిన కాలాన్ని బట్టి వరుస క్రమంలో అమర్చండి :

- హెలికాప్టర్ ప్రమాదంలో వై.ఎస్.రాజశేఖర్ రెడ్డి, ఆంధ్రప్రదేశ్ ముఖ్యమంత్రి, మరణం.
- శ్రీకృష్ణ కమిటీ తన రిపోర్ట్ ను ప్రభుత్వానికి అందజేసింది.
- తెలంగాణ రాష్ట్ర ఏర్పాటు కొరకు కె. చంద్రశేఖర్ రావు నిరాహార దీక్షను చేపట్టాడు.
- ఆంధ్రప్రదేశ్ ముఖ్యమంత్రి పదవికి కె. రోషయ్య రాజీనామా.

Choose the correct order/answer :

సరియైన క్రమంను/ జవాబును ఎంపిక చేయండి :

- (1) A, C, D, B (2) C, A, B, D
(3) A, B, C, D (4) A, C, B, D

18130

50. Examine the following statements about the 'Kaloji Narayan Rao Award' :

- It was established by the Telangana government.
- The award carries a cash prize of ₹ 10,01,116 and a citation.
- The Kaloji Narayan Rao Award for 2017 was conferred to R. Seetharam.
- The award for the year 2016 was presented to Ammangi Venugopal.

'కాళోజీ నారాయణ రావు అవార్డు' కు సంబంధించి కింది వివరణలను పరిశీలించండి :

- ఈ అవార్డును తెలంగాణ ప్రభుత్వం నెలకొల్పింది.
- ఈ అవార్డు కింది పురస్కారం (సైటేషన్) తో పాటు రూ. 10,01,116 నగదును అందజేస్తారు.
- 2017 సంవత్సరానికి కాళోజీ నారాయణ రావు అవార్డును ఆర్. సీతారాంకు ప్రదానం చేశారు.
- 2016 సంవత్సరానికి గాను అమ్మంజీ వేణుగోపాల్ కు ప్రదానం చేశారు.

Choose the correct answer :

సరియైన జవాబును ఎంపిక చేయండి :

- (1) A, B & C only (2) B & D only
(3) A & C only (4) A, B, C & D

51. Examine the following statements :

- The cinema censorship in Hyderabad was originated in the year 1924.
- Chatrapathi Shivaji visited Hyderabad in 1687.
- The duo Akkanna-Madanna were killed by the army of Aurangazeb on March 25, 1676.

కింది వివరణలను పరిశీలించండి :

- హైదరాబాద్ రాష్ట్రంలో సినిమా సెన్సార్ 1924లో ప్రారంభమైంది.
- చత్రపతి శివాజీ హైదరాబాద్ ను 1687లో దర్శించాడు.
- ఔరంగజేబు సైన్యం అక్కన్న-మాదన్న జంటను మార్చి 25, 1676న హత్య చేసింది.

Choose the correct answer :

సరియైన జవాబును ఎంపిక చేయండి :

- (1) A only (2) C only
(3) A & B only (4) B & C only

15

Series-A

52. Examine the following pairs :
- A. Adilabad Dokra - G.I. tag in 2017-18 metal craft
 B. Limbadri Gutta, - Laxmi Narasimha Nizamabad Swamy temple district
 C. Pochampally - G.I. tag in 2004-Ikkat Sarees 05
 D. Warangal - Sheet metal art Durries

కింది జతలను పరిశీలించండి :

- A. అదిలాబాద్ డోక్రా - 2017-18లో మెటల్ క్రాఫ్ట్ జిఐ ట్యాగ్
 B. లింబాద్రి గుట్టా, - లక్ష్మీనరసింహ నిజామాబాద్ జిల్లా స్వామి గుడి
 C. పోచంపల్లి ఇక్కత్ - 2004-05లో చీరలు జిఐ ట్యాగ్
 D. వరంగల్ దుర్రిలు - షీట్ మెటల్ ఆర్ట్

Choose the correct pairs/answer :

సరియైన జతలను/జవాబును ఎంపిక చేయండి :

- (1) A & C only (2) B & D only
 (3) B, C & D only (4) A, B & C only

53. Match the following :

Waterfalls	District
A. Bogatha Waterfalls	1. Nagarkurnool
B. Gayatri Waterfalls	2. Jayashankar Bhupalpally
C. Mallela Theertham Waterfalls	3. Bhadradi Kothagudem
D. Manuguru Waterfalls	4. Adilabad
	5. Khammam

కింది వాటిని జతపరచండి :

జలపాతం	జిల్లా
A. బొగథ జలపాతం	1. నాగర్ కర్నూల్
B. గాయత్రీ జలపాతం	2. జయశంకర్ భూపాలపల్లి
C. మల్లెల తీర్థం జలపాతం	3. భద్రాద్రి కొత్తగూడెం
D. మనుగూరు జలపాతం	4. అదిలాబాదు
	5. ఖమ్మం

Choose the correct pairs/answer :

సరియైన జతలను/జవాబును ఎంపిక చేయండి :

- (1) A-2, B-1, C-4, D-5 (2) A-2, B-4, C-1, D-3
 (3) A-5, B-4, C-2, D-1 (4) A-4, B-3, C-1, D-2

54. Which of the historians who described Hyderabad as a paradise on the earth ?
 (1) Saddiq Naqvi (2) Naqueem Sykhan
 (3) Sherwani (4) Amir Khusroo
 కింది వారిలో హైదరాబాద్ నగరాన్ని 'భూమిపై స్వర్గం' అన్న చరిత్రకారుడెవరు ?
 (1) సాదిక్ నఖ్వీ (2) నఖ్వీమ్ సైఖాన్
 (3) షేర్వాణి (4) అమీర్ ఖుస్రో

55. During the period of which of the following Satavahana kings, Sanskrit replaced Prakrut as royal language ?

- (1) Gautami Putra Satakarni
 (2) Yagnasri Satakarni
 (3) Kuntala Satakarni
 (4) Satakarni - II

కింది ఏ శాతవాహన రాజు కాలంలో రాజభాష ప్రాకృతం పోయి సంస్కృతం వచ్చింది ?

- (1) గౌతమీపుత్ర శాతకర్ణి
 (2) యజ్ఞశ్రీ శాతకర్ణి
 (3) కుంతల శాతకర్ణి
 (4) 2వ శాతకర్ణి

56. Which of the following refers to principles, values and beliefs that indicate the right and wrong behaviour ?

- (1) Ethics
 (2) Ethical dilemma
 (3) Innovation
 (4) Open communication

సూత్రాలు, నియమాలు, విలువలు మరియు నమ్మకాలు సరియైన ప్రవర్తనను లేదా తప్పు ప్రవర్తనను సూచించే దానిని ఏమంటారు ?

- (1) నీతి శాస్త్రం
 (2) నైతిక అనిశ్చితి
 (3) నవకల్పన
 (4) బహిరంగ కమ్యూనికేషన్

57. In the initial years, Kolanupaka was famous for which religious centre ?

- (1) Shaiva (2) Jaina
 (3) Vaishnava (4) Buddha

తొలిసాళ్లలో కొలనుపాక ఏ మత కేంద్రంగా ప్రసిద్ధి చెందింది ?

- (1) శైవ (2) జైన
 (3) వైష్ణవ (4) బౌద్ధ

58. Match the following :

World Day	Date & Month
A. World Earth Day	1. 18 th June
B. World Health Day	2. 17 th June
C. World Sustainable Gastronomy Day	3. 22 nd April
D. World Day to Combat Desertification and Drought	4. 7 th April 5. 5 th June

కింది వాటిని జతపరచండి :

ప్రపంచ దినోత్సవం	తేదీ మరియు నెల
A. ప్రపంచ భూమి/ఎర్త్ దినం	1. 18 జూన్
B. ప్రపంచ ఆరోగ్య దినం	2. 17 జూన్
C. ప్రపంచ సుస్థిర (నిరంతర)మైన గాస్ట్రోనమీ దినం	3. 22 ఏప్రిల్
D. ఎడారికరణను, కరువును ఎదుర్కొనేందుకు ప్రపంచ దినం	4. 7 ఏప్రిల్ 5. 5 జూన్

Choose the correct pairs/answer :

సరియైన జతలను/జవాబును ఎంపిక చేయండి :
(1) A-3, B-1, C-5, D-4 (2) A-5, B-1, C-4, D-2
(3) A-4, B-5, C-1, D-3 (4) A-3, B-4, C-1, D-2

59. Examine the following statements :

- A. The Annual 'Women Economic Forum (WEF) 2018 Awards' were held in March 2018.
B. During the event, the 'Excellent Women of Excellence' award was presented to Indra Nooyi.

Choose the correct answer :

- (1) Both A and B are correct.
(2) Both A and B are incorrect.
(3) Only A is correct.
(4) Only B is correct.

కింది వివరణలను పరిశీలించండి :

- A. వార్షిక 'మహిళా ఆర్థిక ఫోరం 2018' అవార్డులు మార్చి 2018లో జరిగాయి.
B. ఈ సందర్భంగా 'అద్భుతమైన మహిళా శ్రేష్ఠత' (ఎక్సలెంట్ విమెన్ ఎక్సలెన్సీ) అవార్డును ఇండ్రా నూయికి అందజేశారు.

సరియైన జవాబును ఎంపిక చేయండి :

- (1) A మరియు B రెండూ సరైనవి.
(2) A మరియు B రెండూ సరియైనవి కావు.
(3) A మాత్రమే సరైనది.
(4) B మాత్రమే సరైనది.

60. 'Rythu Bandhu' scheme is implemented by the government of Telangana. Examine the following statements about it :

- A. The Chief Minister of Telangana state launched the 'Rythu Bandhu' scheme in Huzurabad village of Karimnagar district on June 2, 2018.
B. A grant of ₹ 8,000/- per acre per annum @ ₹ 4,000/- per crop is being given to all the Telangana farmers.
C. More than 38 lakh farmers in Telangana would be benefitted by the scheme.
D. ₹ 12,000 crore budget was allocated for the scheme during 2018-19.

తెలంగాణ ప్రభుత్వం 'రైతు బంధు' పథకాన్ని అమలుపరుస్తున్నది. దీనికి సంబంధించిన కింది వివరణలను పరిశీలించండి :

- A. తెలంగాణ రాష్ట్ర ముఖ్యమంత్రి జూన్ 2, 2018న 'రైతు బంధు' పథకాన్ని కరీంనగర్ జిల్లాలోని మజరాబాద్ గ్రామంలో ప్రారంభించాడు.
B. అందరు తెలంగాణ రైతులకు పంటకు రూ. 4,000 చొప్పున ఎకరానికి సంవత్సరానికి రూ. 8,000 చొప్పున అందజేస్తుంది.
C. తెలంగాణలోని 38 లక్షలకు పైగా రైతులు ఈ పథకం వల్ల లబ్ధి పొందుతారు.
D. 2018-19 సంవత్సరానికి గాను ఈ పథకం కోసం రూ. 12,000 కోట్ల బడ్జెట్ను కేటాయించారు.

Choose the correct answer :

సరియైన జవాబును ఎంపిక చేయండి :

- (1) A & B only (2) B & D only
(3) C & D only (4) A, B & D only

61. Society for Telangana State Network (SoFTNET) is an initiative from the government of Telangana to provide quality education and training facilities. Which department of the government implements it ?

- (1) Department of Technical Education
- (2) Department of Higher Education
- (3) Telangana State Council of Higher Education (TSCHE)
- (4) Department of Information Technology, Electronics and Communications

సొసైటీ ఫర్ తెలంగాణ స్టేట్ నెట్వర్క్ (సోఫ్టనెట్)ను గుణాత్మక విద్య మరియు శిక్షణా సదుపాయాలను కల్పించటానికి తెలంగాణ ప్రభుత్వం నెలకొల్పింది. దీనిని తెలంగాణ ప్రభుత్వంలో ఏ డిపార్ట్మెంట్ (శాఖ) అమలు పరుస్తుంది ?

- (1) సాంకేతిక విద్యా శాఖ
- (2) ఉన్నత విద్యా శాఖ
- (3) తెలంగాణ రాష్ట్ర ఉన్నత విద్యా మండలి
- (4) సాంకేతిక విజ్ఞానం, ఎలక్ట్రానిక్స్ మరియు సమాచార (కమ్యూనికేషన్స్) శాఖ

62. Examine the following statements about T-IDEA Incentive Scheme, 2014 :

- A. It is called as Telangana State Industrial Development and Entrepreneur Advancement Incentive Scheme, 2014.
- B. The scheme was introduced in 2014 by issuing G.O.Ms.No. 28, dated : 29-11-2014.

Choose the correct answer :

- (1) Both A and B are correct.
- (2) Both A and B are incorrect.
- (3) Only A is correct.
- (4) Only B is correct.

టీ-ఐడియా (టీ-ఐడిఇఎ) ప్రోత్సాహక పథకం, 2014 గురించి కింది వివరణలను పరిశీలించండి :

- A. దీనిని తెలంగాణ రాష్ట్ర పారిశ్రామిక అభివృద్ధి మరియు వ్యవస్థాపకుల అభివృద్ధి (టీ-ఐడిఇఎ) ప్రోత్సాహక పథకం, 2014 అని పిలుస్తారు.
- B. నవంబర్ 29, 2014న జి.ఓ.ఎం.ఎస్. నెం. 28 అను ప్రభుత్వ ఉత్తర్వును జారీ చేసి ఈ పథకాన్ని 2014లో ప్రారంభించారు.

సరియైన జవాబును ఎంపిక చేయండి :

- (1) A మరియు B రెండూ సరియైనవి.
- (2) A మరియు B రెండూ సరియైనవి కావు.
- (3) A మాత్రమే సరియైనది.
- (4) B మాత్రమే సరియైనది.

63. Which irrigation scheme was renamed after R. Vidyasagar Rao by the government of Telangana in April 2018 ?

- (1) Bheema Lift Irrigation project
- (2) Devadula Lift Irrigation scheme
- (3) Dindi Lift Irrigation scheme
- (4) Kanthanapally Lift Irrigation project

ఏప్రిల్ 2018లో తెలంగాణ ప్రభుత్వం ద్వారా ఏ నీటి పారుదల పథకానికి ఆర్. విద్యాసాగర్ రావు పేరు పెట్టబడింది ?

- (1) భీమా ఎత్తిపోతల పథకం
- (2) దేవాదుల ఎత్తిపోతల పథకం
- (3) డిండి ఎత్తిపోతల పథకం
- (4) కంధనపల్లి ఎత్తిపోతల పథకం

64. Match the following :

Institution	Officer's Name
A. Director General of Research & Innovation Circle of Hyderabad (RICH)	1. Ajit Rangnekar
B. Director of Indian Institute of Millets Research (IIMR)	2. Dr. G. Sundar
C. Director, BITS Pilani, Hyderabad	3. Dr. Vilas Tonopi

కింది వాటిని జతపరచండి :

సంస్థ	అధికారి పేరు
A. రీసెర్చ్ అండ్ ఇన్నోవేషన్ సర్కిల్ ఆఫ్ హైదరాబాద్ (ఆర్ఐసీఐసీఐ)కు డైరెక్టర్ జనరల్	1. అజిత్ రంగ్నేకర్
B. ఇండియన్ ఇన్స్టిట్యూట్ ఆఫ్ మిల్లెట్స్ రీసెర్చ్ (ఐఐఎంఆర్)కు డైరెక్టర్	2. డా.జి. సుందర్
C. బిట్స్ (బిఐటిఎస్) పిలని హైదరాబాద్ కు డైరెక్టర్	3. డా. విలాస్ తోనపి

Choose the correct pairs/answer :

సరియైన జతలను/జవాబును ఎంపిక చేయండి :

- (1) A-3, B-1, C-2
- (2) A-1, B-3, C-2
- (3) A-2, B-3, C-1
- (4) A-1, B-2, C-3

65. Examine the following statements about T-Hub :

- A. T-Hub is a unique public-private partnership.
- B. It works with an extensive network of partners to help entrepreneurs launch and scale innovative companies.
- C. It is located at Hyderabad International Convention Centre (HICC), Kondapur, Hyderabad.

టి-హబ్ (టీ-హెచ్ యుబి) గురించి కింది వివరణలను పరిశీలించండి :

- A. ప్రత్యేకమైన పబ్లిక్-ప్రైవేట్ భాగస్వామ్యంలో టి-హబ్ ఏర్పాటు చేయబడింది.
- B. నవకల్పన గల కంపెనీలను ప్రారంభించడానికి మరియు వాటికి గ్రేడింగ్ ఇవ్వడానికి అవసరమైన సహాయాన్ని వ్యవస్థాపకులకు చేయుటకు విస్తృతమైన నెట్వర్క్ భాగస్వామ్యము-లతో పని చేస్తుంది.
- C. హైదరాబాద్ లోని కొండాపూర్ లో గల 'హైదరాబాద్ ఇంటర్నేషనల్ కన్వెన్షన్ సెంటర్' (హెచ్ఐసీసీ) వద్ద దానిని స్థాపించారు.

Choose the correct answer :

సరియైన జవాబును ఎంపిక చేయండి :

- (1) A & B only
- (2) B only
- (3) B & C only
- (4) A & C only

66. Examine the following pairs :
- A. T-HART : Telangana State Hardware Research and Technology
- B. T-PRIDE : Telangana State Programme for Rapid Incubation of Dalit Entrepreneurs
- C. T-SWIFT : Telangana State-Wide Investment Facilitation
- D. TS-Ipass : Telangana State Industrial Project Approval and Self-certification System

కింది జతలను పరిశీలించండి :

- A. టీ-హార్ట్ (టీ-హెచ్ఆర్టీ) : తెలంగాణ రాష్ట్ర హార్డ్వేర్ రీసెర్చ్ అండ్ టెక్నాలజీ
- B. టీ-ప్రైడ్ (టీ-పిఆర్ఐడి) : దళిత పారిశ్రామికవేత్తల రాపిడ్ ఇంక్యూబేషన్ కోసం తెలంగాణ రాష్ట్ర ప్రోగ్రాం.
- C. టీ-స్విఫ్ట్ (టీ-ఎస్డబ్ల్యుఐఎఫ్ఐ) : తెలంగాణ రాష్ట్ర వ్యాప్త పెట్టుబడి సదుపాయం.
- D. టిఎస్-ఐపాస్ (టిఎస్-ఐపిఎస్ఎస్) : తెలంగాణ రాష్ట్ర పారిశ్రామిక ప్రాజెక్టు ఆమోదం మరియు స్వీయ-ధృవీకరణ వ్యవస్థ.

Choose the correct pairs/answer :

సరియైన జతలను/జవాబును ఎంపిక చేయండి :

- (1) A, B & C only (2) B, C & D only
(3) C & D only (4) A, B & D only

67. Examine the following statements on T-Fiber :

- A. The government of Telangana initiated to establish infrastructure to enable affordable, high speed broad band connectivity and digital services to all (31) districts of the state.
- B. The state will be investing nearly ₹ 10,000 crore into the project in 2018-19.

Choose the correct answer :

- (1) Both A and B are correct.
(2) Both A and B are incorrect.
(3) Only A is correct.
(4) Only B is correct.

టీ-ఫైబర్ గురించి కింది వివరణలను పరిశీలించండి :

- A. రాష్ట్రంలోని అన్ని (31) జిల్లాలకు సరసమైన, అధిక వేగం కలిగిన బ్రాడ్ బ్యాండ్ కనెక్టివిటీని మరియు డిజిటల్ సేవలను ప్రారంభించడానికి అవసరమైన మౌలిక (అవస్థాపన) సదుపాయాల కల్పనను తెలంగాణ ప్రభుత్వం ఆరంభించింది.
- B. 2018-19లో దాదాపు రూ. 10,000 కోట్ల పెట్టుబడిని ప్రభుత్వం ఈ ప్రాజెక్టులో పెట్టనుంది.

సరియైన జవాబును ఎంపిక చేయండి :

- (1) A మరియు B రెండూ సరియైనవి.
(2) A మరియు B రెండూ సరియైనవి కావు.
(3) A మాత్రమే సరియైనది.
(4) B మాత్రమే సరియైనది.

68. To reduce infant mortality rate (IMR) and maternal mortality rate (MMR) in Telangana and to promote institutional deliveries, the Telangana government launched a scheme called :

- (1) Aarogya Lakshmi
(2) Aarogya Sri
(3) KCR Kit
(4) TS Health Profile Scheme

శిశు మరణాల రేటు (ఐఎమ్ఆర్), ప్రసూతి మరణాల రేటు (ఎం.ఎం.ఆర్)లను తెలంగాణలో తగ్గించడానికి మరియు వ్యవస్థీకృత ప్రసవాలను ప్రోత్సహించడానికి తెలంగాణ ప్రభుత్వం ప్రారంభించిన పథకం పేరేమిటి ?

- (1) ఆరోగ్య లక్ష్మి
(2) ఆరోగ్య శ్రీ
(3) కె.సి.ఆర్.కిట్
(4) టి.ఎస్.ఆరోగ్య ప్రొఫైల్ స్కీమ్

69. Examine the following statements :

- A. 'Aasara Pension Scheme' was effective from October 1, 2014.
- B. The state government of Telangana fixed the pension amount of ₹ 1,000/- per month for disabled pensioners along with widows, single women and old aged pensioners.
- C. Disabled persons having a minimum of 60% disability under SADAREM assessment are eligible for getting pension under the scheme.

కింది వివరణలను పరిశీలించండి :

- A. 'ఆసరా పింఛన్ పథకం' ను అక్టోబర్ 1, 2014 నుండి అమలుపరుస్తున్నారు.
- B. వితంతువులు, ఒంటరి మహిళలు మరియు వయో వృద్ధ పెన్షనర్ల మాదిరి వికలాంగ పెన్షనర్ల కోసం నెలకు రూ. 1,000 చొప్పున పింఛన్ను చెల్లించడానికి తెలంగాణ రాష్ట్ర ప్రభుత్వం నిర్ణయించింది.
- C. SADAREM తెక్కల ప్రకారం కనీసం 60% వైఫల్యం కలిగిన వికలాంగులకు ఈ పథకం కింద పింఛన్ పొందడానికి అర్హత ఉంది.

Choose the correct answer :

సరియైన జవాబును ఎంపిక చేయండి :

- (1) A & B only (2) B & C only
(3) A, B & C (4) A only

70. Examine the following statements :

- A. The six-hour six-minutes battle between Kevin Anderson and John Isner became Wimbledon's longest semifinal tennis match.
- B. Kevin Anderson was defeated by John Isner in that match.
- C. The five-hour fifteen minutes battle between Rafael Nadal and Novac Djokovic became Wimbledon's second-longest semifinal tennis match.
- D. Djokovic, a Serbian, defeated Nadal, a Spanish by 6-4, 3-6, 7-6 (11-9), 3-6, 10-8 in the match.

కింది వివరణలను పరిశీలించండి :

- A. కెవిన్ ఆండర్సన్ మరియు జాన్ ఇస్నర్ల మధ్య 6 గంటల 6 నిమిషాల పాటు జరిగిన మ్యాచ్ చరిత్రలో అత్యధిక కాలం తీసుకున్న వింబుల్డన్ సెమీఫైనల్ టెన్నిస్ మ్యాచ్ అయింది.
- B. ఈ మ్యాచ్లో కెవిన్ ఆండర్సన్ను జాన్ ఇస్నర్ ఓడించాడు.
- C. రఫేల్ నాడల్ మరియు నోవాక్ జోకోవిక్ల మధ్య 5 గంటల 15 నిమిషాల మ్యాచ్ చరిత్రలో రెండవ అత్యధిక కాలం తీసుకున్న వింబుల్డన్ సెమీఫైనల్ టెన్నిస్ మ్యాచ్ అయింది.
- D. స్పానిష్ అయిన నాడల్ను సెర్బియన్ అయిన జోకోవిక్ ఈ మ్యాచ్లో 6-4, 3-6, 7-6(11-9), 3-6, 10-8తో ఓడించాడు.

Choose the correct answer :

సరియైన జవాబును ఎంపిక చేయండి :

- (1) A, B, C & D (2) A, B & D only
- (3) A, C & D only (4) B, C & D only

71. Examine the following statements about NCPCR of India :

- A. 'Commissions for Protection of Child Rights Act' (CPCRA) was enacted in December, 2005.
- B. Under this Act of 2005, 'National Commission for Protection of Child Rights' (NCPCR) was set up in March, 2007.
- C. The Commission's objective is to protect, promote and defend child rights in India.
- D. In June, 2018, it drafted fee regulations to put in place uniform fee framework to check frequent and arbitrary increases in school fees by unaided private schools.

ఎన్.సి.పి.సి.ఆర్ గురించి కింది వివరణలను పరిశీలించండి :

- A. 'బాలల హక్కుల సంరక్షణ కోసం కమిషన్ చట్టం' (CPCRA) డిసెంబర్ 2005లో చట్టం చేయబడింది.
- B. ఈ 2005 చట్టం కింద మార్చి 2007లో 'బాలల హక్కుల రక్షణ కోసం జాతీయ కమిషన్' (ఎన్సిపిసిఆర్) ఏర్పాటు చేయబడింది.
- C. భారతదేశంలో బాలల హక్కులను రక్షించటం, ప్రోత్సహించటం మరియు మద్దతునివ్వటం ఈ కమిషన్ లక్ష్యం.
- D. అన్ఎయిడెడ్ ప్రైవేటు స్కూళ్లలో ఫీజులను తరచుగా, ఏకపక్షంగా, అనూహ్యంగా పెంచకుండా నిలుపుదల చేయటానికి ఈ కమిషన్ జూన్ 2018లో ఏకీకృత కార్యకలాపాల చట్టం (ఫ్రేమ్ వర్క్) ఏర్పాటు చేయటానికి డ్రాఫ్ట్ నిబంధనలను రూపొందించింది.

Choose the correct answer :

సరియైన జవాబును ఎంపిక చేయండి :

- (1) A, B & C only (2) B, C & D only
- (3) A & D only (4) A, B, C & D

72. Examine the following statements :
- The Rajya Sabha of India entered into a Memorandum of Understanding (MoU) with the Senate (upper house) of Rwanda on July 9, 2018.
 - For the second time in 76 years since the Rajya Sabha came into being, it entered into a MoU with a foreign counterpart.
 - The MoU seeks to promote inter-parliamentary dialogue.

కింది వివరణలను పరిశీలించండి :

- భారతదేశ రాజ్యసభ జూలై 9, 2018 న రువాండా యొక్క సెనేట్ (ఎగువ సభ) తో ఒక 'అవగాహన ఒప్పందం' ను చేసుకుంది.
- 76 సంవత్సరాల రాజ్యసభ చరిత్రలో ఒక విదేశీ శాసనాత్మక ఎగువ సభతో అవగాహన ఒప్పందాన్ని కుదుర్చుకోవటం ఇది రెండవసారి.
- అంతర్ - పార్లమెంటరీ సంభాషణను ప్రోత్సహించటానికి ఈ అవగాహన ఒప్పందం ఉపయోగపడుతుంది.

Choose the correct answer :

- సరియైన జవాబును ఎంపిక చేయండి :
- A & B only
 - B & C only
 - A & C only
 - A, B & C

73. Examine the following statements about AIIMS :

- The Government of India sanctioned one 'All India Institute of Medical Sciences' (AIIMS) for Telangana.
- The Union Government will release funds for the establishment of AIIMS in Telangana from the Pradhan Mantri Swasthya Suraksha Yojana (PMSSY).

Choose the correct answer :

- Both A & B are correct.
- Both A & B are incorrect.
- Only A is correct.
- Only B is correct.

ఎయిమ్స్(అలఐఐఎంఎస్)పై కింది వివరణలను పరిశీలించండి :

- తెలంగాణ కోసం భారత ప్రభుత్వం ఆల్ ఇండియా ఇన్స్టిట్యూట్ ఆఫ్ మెడికల్ సైన్సెస్ (ఎయిమ్స్)ను మంజూరు చేసింది.
- తెలంగాణలో ఎయిమ్స్ స్థాపనకు కేంద్ర ప్రభుత్వం 'ప్రధాన మంత్రి స్వాస్థ్య సురక్షా యోజన' (పిఎంఎస్ఎస్వై) నుండి నిధులను విడుదల చేస్తుంది.

సరియైన జవాబును ఎంపిక చేయండి :

- A మరియు B రెండూ సరియైనవి.
- A మరియు B రెండూ సరియైనవి కావు.
- A మాత్రమే సరియైంది.
- B మాత్రమే సరియైంది.

74. Examine the following statements :

- On 12 July, 2018, Hima Das of India became the first Indian woman to win a gold at the International Association of Athletics Federation (IAAF) World Under-20 Athletics Championships.
- She won the gold medal in the women's 200 m final race held in Ireland.
- 18 years old Hima Das belongs to Nagaon district of Assam state.

కింది వివరణలను పరిశీలించండి :

- జూలై 12, 2018న ఇంటర్నేషనల్ అసోసియేషన్ ఆఫ్ అథ్లెటిక్స్ వెడరేషన్ (ఐఎఎఎఫ్) వారి అండర్-20 ప్రపంచ అథ్లెటిక్స్ చాంపియన్షిప్ లో బంగారు పథకాన్ని సాధించి హిమా దాస్ మొట్టమొదటి భారతీయ మహిళగా పేరుగాంచింది.
- ఐర్లాండ్ లో జరిగిన మహిళల 200 మీటర్ల ఫైనల్ రేస్ లో హిమా దాస్ బంగారు పథకాన్ని గెలుచుకుంది.
- 18 సంవత్సరాల వయస్సు గల హిమా దాస్ అస్సాం రాష్ట్రపు నాగావ్ (Nagaon) జిల్లా వాసి.

Choose the correct answer :

- సరియైన జవాబును ఎంపిక చేయండి :
- A & B only
 - A & C only
 - B & C only
 - A, B & C

75. Examine the following statements on Pradhan Mantri Fasal Bima Yojana (PMFBY) :

- The scheme was launched by the Prime Minister of India on 18th February, 2016.
- It aims at supporting sustainable production in agriculture sector.
- All farmers including sharecroppers and tenant farmers for all crops in all states of India are eligible for coverage.

'ప్రధాన మంత్రి ఫసల్ బీమా యోజన' (PMFBY) గురించి కింది వివరణలను పరిశీలించండి :

- భారత ప్రధాన మంత్రి ఫిబ్రవరి 18, 2016 నాడు ఈ పథకాన్ని ప్రారంభించాడు.
- వ్యవసాయ రంగంలో సుస్థిరమైన, నిరంతరమైన ఉత్పత్తిని ప్రోత్సహించటానికి ఈ పథకం ఉద్దేశించబడింది.
- భారతదేశంలోని అన్ని రాష్ట్రాలలో వాటాదారులను, కౌలుదారులను కలుపుకుని అందరు రైతులకు, అన్ని పంటలకు ఈ పథకం వర్తిస్తుంది.

Choose the correct answer :

- సరియైన జవాబును ఎంపిక చేయండి :
- A & B only
 - A & C only
 - B & C only
 - A, B & C

SECTION - II
SECRETARIAL ABILITIES

76. $\frac{5\frac{1}{2} - \frac{2}{3} \text{ of } \frac{4}{5}}{2 + \frac{1}{6} - (\frac{3}{5} + 2)} = ?$
 $\frac{5\frac{1}{2} - \frac{2}{3} \text{ యొక్క } \frac{4}{5}}{2 + \frac{1}{6} - (\frac{3}{5} + 2)} = ?$
 (1) $\frac{149}{282}$ (2) $\frac{137}{282}$
 (3) $\frac{140}{282}$ (4) $\frac{143}{282}$
77. If $\frac{a}{2} = \frac{b}{3} = \frac{c}{5}$, what is the value of $\frac{a+b+c}{c}$?
 $\frac{a}{2} = \frac{b}{3} = \frac{c}{5}$ అయితే $\frac{a+b+c}{c}$?
 (1) 12 (2) 2
 (3) 28 (4) 4
78. If $3x + 7y = 78$ and $x + 3y = 32$, then $2x + y = ?$
 $3x + 7y = 78$, $x + 3y = 32$, అయితే
 $2x + y = ?$
 (1) 12 (2) 16
 (3) 19 (4) 18
79. ₹ 3,600 is divided among A, B and C. If A's share is $\frac{1}{2}$ of B's share and B's share is $\frac{2}{3}$ of C's share, then what is the share of B?
 ₹ 3,600 A, B, C లకు పంచగా B కి వచ్చిన వాటిలో $\frac{1}{2}$ వ వంతు A కు, C వాటిలో $\frac{2}{3}$ వ వంతు B కు వస్తే, B వాటా ఎంత?
 (1) ₹ 800 (2) ₹ 1,200
 (3) ₹ 1,800 (4) ₹ 2,400
80. If $\frac{1}{4} + \frac{1}{5} + \frac{1}{x} = 6$, then what is the value of x ?
 $\frac{1}{4} + \frac{1}{5} + \frac{1}{x} = 6$ అయితే, $x = ?$
 (1) $\frac{1}{111}$ (2) $\frac{4}{111}$
 (3) $\frac{11}{111}$ (4) $\frac{20}{111}$

81. If $\sqrt{3} = 1.732$, then $\sqrt{192} - \frac{1}{2}\sqrt{48} - \sqrt{75} = ?$
 $\sqrt{3} = 1.732$, అయితే $\sqrt{192} - \frac{1}{2}\sqrt{48} - \sqrt{75} = ?$
 (1) 3.464 (2) 1.732 (3) 6.928 (4) 5.196
82. In a class, there are 90 students and their average marks in the annual examination is 50. If the average marks of passed students is 70 and average marks of failed students is 40, then find out the number of students failed in the examination.
 ఒక తరగతిలో ఉన్న 90 మంది విద్యార్థుల్లో, సంవత్సరాంతపు పరీక్షలో వారి సగటు మార్కులు 50. ఉత్తీర్ణులయిన వారి సగటు మార్కులు 70 మరియు అనుత్తీర్ణులైన వారి సగటు మార్కులు 40 అయితే, అనుత్తీర్ణులైన వారి సంఖ్య ఎంత?
 (1) 48 (2) 55 (3) 50 (4) 60
83. A cricketer scored some runs in his continuous 15 innings. He scored 100 runs in his 16th innings and increases his average by 2 runs. What was the average of his runs at the end of 16th innings?
 ఒక క్రికెట్ ఆటగాడు 15 వరుస ఇన్నింగ్సులలో కొన్ని పరుగులు చేశాడు. 16వ ఇన్నింగ్సులో, 100 పరుగులు చేయడం వలన అతని సగటు 2 పరుగులు పెరిగింది. 16వ ఇన్నింగ్సు తరువాత అతడి సగటు పరుగులు ఎన్ని?
 (1) 66 (2) 68 (3) 70 (4) 72
84. In a class, $\frac{2}{3}$ students are girls and rest are boys. If $\frac{1}{5}$ of the girls and $\frac{3}{4}$ of the boys are absent, what part of the total students is present?
 ఒక తరగతిలో $\frac{2}{3}$ మంది బాలికలు, మిగిలినవారు బాలురు. బాలికల్లో $\frac{1}{5}$ మంది, బాలురలో $\frac{3}{4}$ మంది హాజరు కాకపోతే, మొత్తంలో ఎన్నో వంతు మంది హాజరయ్యారు?
 (1) $\frac{37}{60}$ (2) $\frac{17}{90}$ (3) $\frac{22}{30}$ (4) $\frac{19}{30}$

85. The salary of an employee of a company increases every month by 5%. If his salary in March was ₹ 7,500, then what would be his approximate salary in month of May of the same year ?

ఒక ఉద్యోగి యొక్క జీతం ప్రతినెలా 5% పెరుగుతుంది. మార్చి నెలలో అతని జీతం రూ. 7,500 అయితే, అదే సంవత్సరం మే నెలలో అతని జీతం ఎంత ?

- (1) ₹ 8,269 (2) ₹ 8,224
(3) ₹ 8,218 (4) ₹ 8,220

86. Ramaiah purchased an item for ₹ 10,000 and sold it at the gain of 40%. From that amount, he purchased another item and sold it at the loss of 25%. What is his overall gain/loss ?

- (1) Loss of ₹ 500
(2) Gain of ₹ 500
(3) Neither gain nor loss
(4) Gain of ₹ 600

రామయ్య ఒక వస్తువును రూ. 10,000 కు కొని 40% లాభానికి అమ్మాడు. ఆ వచ్చిన దబ్బుతో అతను మరొక వస్తువును కొని 25% నష్టానికి అమ్మితే, మొత్తం మీద అతనికి ఎంత లాభం/నష్టం ?

- (1) రూ. 500 నష్టం
(2) రూ. 500 లాభం
(3) లాభమూ, నష్టమూ లేవు
(4) రూ. 600 లాభం

87. A person has 1,000 kg of sugar, part of which he sells at 8% profit and the rest at 18% profit. He gains 14% on the whole. The quantity sold at 18% profit is

ఒక వ్యక్తి 1,000 కిలోల పంచదారలో కొంత భాగాన్ని 8% లాభానికి, మిగిలిన భాగాన్ని 18% లాభానికి అమ్మాడు. మొత్తం మీద అతనికి 14% లాభం వస్తే, 18% లాభానికి అమ్మిన పంచదార ఎంత ?

- (1) 500 kg (2) 400 kg
(3) 600 kg (4) 700 kg

88. If income of Sneha is 30% more than that of Abhi, then income of Abhi is how much per cent less than that of Sneha ?

స్నేహ యొక్క ఆదాయం అభి ఆదాయం కంటే 30% ఎక్కువయితే, అభి ఆదాయం స్నేహ ఆదాయం కంటే ఎంత శాతం తక్కువ ?

- (1) 247/13% (2) 245/13%
(3) 311/13% (4) 300/13%

89. In a certain time, a sum becomes 3 times at the rate of 10% per annum (simple interest). At what rate per annum (simple interest), the same sum becomes 6 times in same duration ?

కొంత మొత్తం, కొంతకాలం తరువాత 10% సాలీనా బారువడ్డీతో మూడురెట్లు అయ్యింది. అదే మొత్తం, అదే కాలానికి ఎంత బారువడ్డీ రేటుతో 6 రెట్లు అవుతుంది ?

- (1) 25% (2) 22%
(3) 20% (4) 18%

90. A sum of money invested at compound interest amounts to ₹ 1,000 in 2 years and ₹ 1,200 in 3 years. Find the rate of interest.

కొంత మొత్తము చక్రవడ్డీతో రెండు సంవత్సరాల్లో రూ. 1,000, మూడు సంవత్సరాల్లో రూ. 1,200 అయితే, వడ్డీరేటు ఎంత ?

- (1) 16% (2) 20%
(3) 17% (4) 18%

91. The ratio of incomes of Venkanna and Saidulu is 7 : 5 and ratio of their expenditures is 3 : 2. If each person saves ₹ 3,000, then find the sum of their incomes.

వెంకన్న, సైదులుల ఆదాయాల నిష్పత్తి 7 : 5 మరియు వారి ఖర్చుల నిష్పత్తి 3 : 2 అయితే, ఇద్దరూ రూ. 3,000 చొప్పున మిగులుకుంటే వారిద్దరి ఆదాయాల మొత్తం ఎంత ?

- (1) ₹ 34,000 (2) ₹ 32,000
(3) ₹ 36,000 (4) ₹ 30,000

92. If the price of an item is increased by 30% and then allows two successive discounts of 10% and 10%, in the last the price of an item is

- (1) reduced by 10%
(2) increased by 10%
(3) reduced by 5.3%
(4) increased by 5.3%

ఒక వస్తువు యొక్క ధరను 30% పెంచి, రెండుసార్లు ఒకదాని తరువాత మరొకటిగా 10% మరియు 10% రాయితీలు ఇచ్చినట్లయితే, చివరిగా ఆ వస్తువు ధర

- (1) 10% తగ్గుతుంది
(2) 10% పెరుగుతుంది
(3) 5.3% తగ్గుతుంది
(4) 5.3% పెరుగుతుంది

$K = K$
 $\frac{1234 \times 2 \times 2}{100} + \frac{1234 \times 2}{100} \times K$

PTR
 1/2

93. If 'air' is called 'green', 'green' is called 'sea', 'sea' is called 'red', 'red' is called 'blue', 'blue' is called 'water' and 'water' is called 'brown', then what is the colour of blood?

- (1) Red (2) Air
 (3) Blue (4) Brown

గాలిని ఆకుపచ్చగా, ఆకుపచ్చని సముద్రంగా, సముద్రాన్ని ఎరుపుగా, ఎరుపుని నీలంగా, నీలాన్ని నీరుగా, నీరుని గోధుమ రంగుగా పిలిస్తే, రక్తం ఏ రంగులో ఉంటుంది?

- (1) ఎరుపు (2) గాలి
 (3) నీలం (4) గోధుమ రంగు

94. Read the following information to answer the question.

A, B, C, D, E and F are sitting in a row facing north. E and F are in the centre, A and B are at the ends. C is sitting on the left of A. Who is sitting three places on the right of D?

కింద ఇచ్చిన సమాచారాన్ని చదివి, ప్రశ్నకు సమాధానం రాయండి.

A, B, C, D, E, F లు ఒక వరుసలో ఉత్తరం వైపు చూస్తూ కూర్చున్నారు. E మరియు F లు మధ్యలో ఉన్నారు. A మరియు B లు చివరలో ఉన్నారు. A కి ఎడమ పక్కన C కూర్చున్నాడు. D కి కుడి పక్కన మూడవ స్థానంలో ఎవరు కూర్చున్నారు?

- (1) B (2) C (3) A (4) D

95. Read the following two statements carefully and select the right conclusion, which follows the statements :

Statements : All men are dogs.
 All dogs are cats

- Conclusions :**
 (1) All men are cats.
 (2) All cats are men.
 (3) All cats are dogs.
 (4) All dogs are men.

కింద ఇచ్చిన రెండు ప్రతిపాదనలను జాగ్రత్తగా చదివి, సరైన తీర్మానమును గుర్తించండి.

ప్రతిపాదనలు : పురుషులు అందరూ కుక్కలు.
 అన్ని కుక్కలు పిల్లులు.

- తీర్మానాలు :**
 (1) పురుషులందరూ పిల్లులు
 (2) అన్ని పిల్లులూ పురుషులు
 (3) అన్ని పిల్లులూ కుక్కలు
 (4) అన్ని కుక్కలూ పురుషులు

96. Read the following two statements carefully and select the right conclusion, which follows the statements :

Statements : All cooks are employees.
 Some employees are workers.

- Conclusions :**
 (1) No worker is an employee.
 (2) All cooks are workers.
 (3) All employees are cooks.
 (4) Some employees are cooks.

కింద ఇచ్చిన రెండు ప్రతిపాదనలను జాగ్రత్తగా చదివి, సరైన తీర్మానాన్ని గుర్తించండి.

ప్రతిపాదనలు :
 వంటవాళ్లందరూ ఉద్యోగులు.
 కొంతమంది ఉద్యోగులు పనివారు.

- తీర్మానాలు :**
 (1) ఏ పనివాడూ ఉద్యోగి కాదు.
 (2) వంటవాళ్లందరూ పనివారు.
 (3) ఉద్యోగులందరూ వంటవాళ్లు.
 (4) కొంతమంది ఉద్యోగులు వంటవాళ్లు.

97. If LIGHT is coded as GILTH, find the code for RAINY.

LIGHT ని GILTH గా కోడ్ చేస్తే, RAINY కి కోడ్ ఏమిటి?

- (1) IARYN (2) ARINY
 (3) NAIRY (4) RINAY

98. If * is replaced with +, + is replaced with *, - is replaced with +, + is replaced with -, then $40 + 20 - 5 * 10 + 5 = ?$

* కి బదులుగా + ని, + కి బదులుగా * ని, - కి బదులుగా + ని, + కి బదులుగా - ని మారితే, $40 + 20 - 5 * 10 + 5 = ?$

- (1) 170 (2) 165
 (3) 150 (4) 175

99. If TOUR is written as 1234, CLEAR is written as 56784 and SPARE is written as 90847, find the code for CARE.

TOUR ని 1234 గా, CLEAR ని 56784 గా, SPARE ని 90847 గా రాస్తే CARE ని ఎలా రాస్తారు?

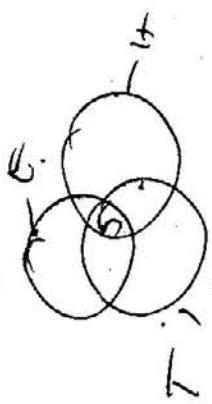
- (1) 1247 (2) 4847
 (3) 5247 (4) 5847

(74) 129
= 83

21
35
22
83

(A+B+C) = A + B + C - AB - AC - BC + ABC
= 53 + 61 + 60 - 24 - 35 - 29 + 5


100. There are 100 students admitted to a class. Some students can speak only English, some can speak only Hindi and some can speak only Telugu. 12 students can speak both Telugu and Hindi, 15 students can speak both Hindi and English and 18 students can speak both English and Telugu. If the number of students who can speak English is 30 and Hindi is 40 and Telugu is 30 and 5 students can speak all the three languages, then how many students can speak only Hindi ?



ఒక తరగతిలో 100 మంది విద్యార్థులు ప్రవేశం పొందారు. వారిలో కొంతమంది ఇంగ్లీష్ మాత్రమే, కొంతమంది హిందీ మాత్రమే, కొంతమంది తెలుగు మాత్రమే మాట్లాడతారు. 12 మంది విద్యార్థులు తెలుగు, హిందీలు రెండూ; 15 మంది విద్యార్థులు హిందీ, ఇంగ్లీష్ లు రెండూ; 18 మంది విద్యార్థులు ఇంగ్లీష్, తెలుగులు రెండూ మాట్లాడతారు. 30 మంది విద్యార్థులు ఇంగ్లీష్, 40 మంది హిందీ, 30 మంది తెలుగు మరియు 5 మంది మూడు భాషలు మాట్లాడితే హిందీ మాత్రమే మాట్లాడే విద్యార్థుల సంఖ్య ఎంత ?

- (1) 10 (2) 18
(3) 12 (4) 15

101. In a row, Anil is in the 11th position from the left and Bhushan is in the 10th position from the right. If Anil and Bhushan interchanged their places, then Anil becomes 18th from the left. How many persons are there in the row other than Anil and Bhushan ?



ఒక వరుసలో ఎడమవైపు నుండి 11 వ స్థానంలో అనిల్, కుడివైపు నుండి 10 వ స్థానంలో భూషణ్ ఉన్నారు. ఒకవేళ భూషణ్, అనిల్ లు వారి స్థానాలను పరస్పరం మార్చుకుంటే, అనిల్ ఎడమవైపు నుండి 18 వ స్థానంలో ఉంటాడు. అనిల్, భూషణ్ లు కాకుండా, ఇంకా ఎంతమంది ఆ వరుసలో ఉన్నారు ?

- (1) 24 (2) 25
(3) 26 (4) 27

102. In a Board exam, 53% passed in Biology, 61% passed in English, 60% in Social Studies, 24% in Biology & English, 35% in English & Social Studies, 27% in Biology & Social Studies and 5% in none. Percentage of passes in all the three subjects is

ఒక బోర్డు పరీక్షలో 53% మంది జీవశాస్త్రంలో, 61% మంది ఇంగ్లీష్ లో, 60% మంది సాంఘికశాస్త్రంలో, 24% మంది జీవశాస్త్రం మరియు ఇంగ్లీష్ లో, 35% మంది ఇంగ్లీష్ మరియు సాంఘికశాస్త్రంలో, 27% మంది జీవశాస్త్రం మరియు సాంఘికశాస్త్రంలో ఉత్తీర్ణులయ్యారు. 5% మంది ఏ సబ్జెక్టులోనూ ఉత్తీర్ణులవ్వకపోతే, మొత్తం మూడు పరీక్షల్లోనూ ఉత్తీర్ణులైన వారి శాతం ఎంత ?
(1) 6% (2) 5% (3) 4% (4) 7%

103. A family consists of a couple, their three sons and two daughters. The elder of the two sons who got married was blessed with two daughters. How many females are there in the family ?

ఒక కుటుంబంలో ఒక జంట వారి ముగ్గురు కొడుకులు మరియు ఇద్దరు కూతుళ్ళు, పెళ్లైన ఇద్దరు కొడుకులలో మొదటి వాడికి ఇద్దరు కూతుళ్ళు ఉన్నారు. ఆ కుటుంబంలో మొత్తం ఎంతమంది ఆడవాళ్ళు ఉన్నారు ?
(1) 4 (2) 5 (3) 7 (4) 6


104. Study the following information carefully and answer the question :

Ajay, Bhupati, Chandra, David, Eeswar and Vinay are sitting on a bench facing in the same direction. Chandra is sitting in between Ajay and Eeswar. David is not at the end. Bhupati is sitting immediate right of Eeswar. David is sitting immediate left to Ajay. Vinay is not sitting at the right end. Who is the immediate right of Vinay ?

(1) David (2) Ajay (3) Chandra (4) Eeswar

కొంద ఇచ్చిన సమాచారాన్ని జాగ్రత్తగా చదివి ప్రశ్నకు సమాధానం రాయండి ?
అజయ్, భూపతి, చంద్ర, డేవిడ్, ఈశ్వర్, వినయ్ లు ఒక బల్లపై ఒకేవైపు తిరిగి కూర్చొన్నారు. అజయ్, ఈశ్వర్ ల మధ్య చంద్ర కూర్చొన్నాడు. డేవిడ్ చివరలో కూర్చొలేదు. ఈశ్వర్ కు కుడిపక్కన భూపతి కూర్చొన్నాడు. అజయ్ కి ఎడమపక్కన డేవిడ్ కూర్చొన్నాడు. వినయ్ కుడి చివరలో కూర్చొలేదు. వినయ్ కుడివైపు ఎవరు కూర్చొన్నారు ?

- (1) డేవిడ్ (2) అజయ్
(3) చంద్ర (4) ఈశ్వర్



105. Observe the following sequence and choose the correct alternative in place of '?' :

కింద ఇచ్చిన శ్రేణిని గమనించి '?' స్థానంలో ఉండవలసిన సరయిన సమాధానాన్ని కనుగొనండి.

$\frac{2}{3}, \frac{4}{7}, ?, \frac{11}{21}, \frac{16}{31}$

(1) $\frac{5}{9}$ (2) $\frac{6}{11}$ (3) $\frac{7}{13}$ (4) $\frac{9}{17}$

106. Observe the following sequence and choose the correct alternative in place of '?' :

కింద ఇచ్చిన శ్రేణిని గమనించి '?' స్థానంలో ఉండవలసిన సరయిన సమాధానాన్ని కనుగొనండి.
C, Z, F, X, I, V, L, T, O, ?, ?

(1) P, Q (2) Q, Q (3) Q, R (4) R, R

107. Observe the following sequence and choose the correct alternative in place of '?' :

కింద ఇచ్చిన శ్రేణిని గమనించి '?' స్థానంలో ఉండవలసిన సరయిన సమాధానాన్ని కనుగొనండి.
UPH, ?, QDL, OBN, MAP

(1) SHJ (2) QHJ (3) QHS (4) SJH

108. In the following question, first two words have a certain relationship. Find out the right word, which has the same relationship with the third word :

Spider : Insect :: Crocodile : ?

(1) Frog (2) Carnivore
(3) Reptile (4) Mammal

కింద ఇచ్చిన ప్రశ్నలో మొదటి రెండు పదాల మధ్య ఒక నిర్దిష్ట సంబంధం ఉంది. మూడవ పదంతో అలాంటి సంబంధం ఉన్న సరయిన పదాన్ని కనుగొనండి?

సాలీడు : క్రిమి :: మొసలి : ?

(1) కప్ప (2) మాంసాహారి
(3) సరీసృపం (4) క్షీరదం

109. Sugar is related to Molasses, in the same way as Gasoline is related to

(1) Drill (2) Petroleum
(3) Mine (4) Quarry

పంచదార మొలాసిస్ కి సంబంధించినట్లుగా గ్యాసోలిన్ దేనికి సంబంధించింది?

(1) డ్రిల్ (2) పెట్రోలియం
(3) గని (4) క్వారీ

110. Observe the following sequence and choose the correct alternative in place of '?' :

కింద ఇచ్చిన శ్రేణిని గమనించి '?' స్థానంలో ఉండవలసిన సరైన సంఖ్యను కనుగొనండి.

3, 12, 27, 48, 75, 108, ?

(1) 144 (2) 147 (3) 153 (4) 165

111. In the following question, first two terms have a certain relationship. Find out the right term, which has the same relationship with the third term :

కింద ఇచ్చిన ప్రశ్నలో మొదటి రెండు పదాల మధ్య ఒక నిర్దిష్ట సంబంధం ఉంది. మూడవ పదంతో అలాంటి సంబంధం ఉన్న సరయిన పదాన్ని కనుగొనండి.

NOPQ : MLKJ :: HIJK : ?

(1) FEDG (2) FEHG (3) EFDC (4) GFED

112. In a certain code, FIRE is written as QHOK and MOVE as ZMWK. What should be the code for the word VERMI ?

ఒక కోడ్ భాషలో FIRE ని QHOK గా, MOVE ని ZMWK గా రాస్తే, VERMI అనే పదానికి సరయిన కోడ్ ఏది?

(1) WKOZH (2) WKHMO
(3) KWQHZ (4) WKOHZ

113. Naveen walked 30 metres towards East, took a right turn and walked 40 metres. Then he took a left turn and walked 30 metres. In which direction is he now from the starting point ?

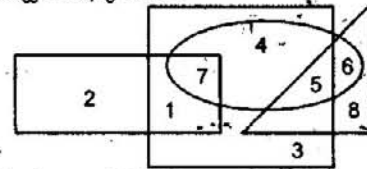
(1) North-east (2) South-west
(3) North-west (4) South-east

నవీన్ తూర్పు దిశలో 30 మీటర్లు నడిచి కుడివైపుకు తిరిగి 40 మీటర్లు నడిచాడు. తరువాత ఎడమపక్కకు తిరిగి 30 మీటర్లు నడిచాడు. ఇప్పుడు అతడు బయలుదేరిన స్థానానికి ఏ దిశలో ఉన్నాడు?

(1) ఈశాన్యం (2) నైరుతి
(3) వాయువ్యం (4) ఆగ్నేయం

114. Which number is in the square, ellipse and triangle ?

చతురస్రంలో, దీర్ఘవృత్తంలో, త్రిభుజంలోనూ ఉన్న సంఖ్య ఏది ?



(1) 1 (2) 7 (3) 6 (4) 5

115. Which of the following is same as Steel, Bronze and Brass ?

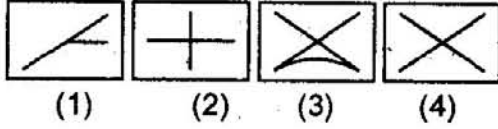
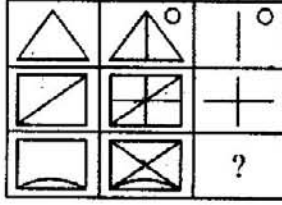
(1) Calcite (2) Zinc
(3) Magnalium (4) Methane

కింది వాటిలో ఉక్కు, కంచు, ఇత్తడికి సమానంగా ఉన్నది ఏది ?

(1) కాలైట్ (2) జింక్
(3) మాగ్నాలియం (4) మీథేన్

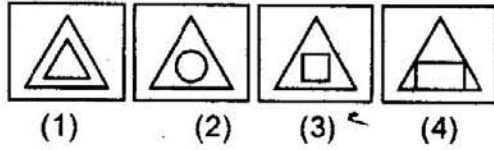
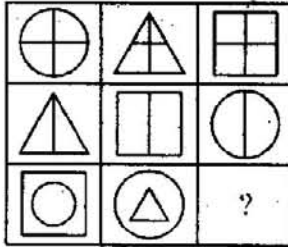
116. Select a suitable figure to complete the figure matrix.

కింద ఇచ్చిన పటంలో ఉండవలసిన చిత్రాన్ని కనుగొనండి ?



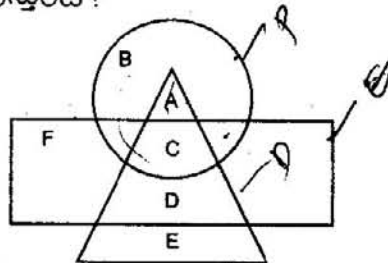
117. Select a suitable figure to complete the figure matrix.

కింద ఇచ్చిన పటంలో ఉండవలసిన చిత్రాన్ని కనుగొనండి ?



118. If the circle represents Professors, the triangle stands for Doctors and Engineers are represented by the rectangle, Professors who are also Doctors are represented by...

వృత్తం ఆచార్యులని సూచిస్తే, త్రిభుజం వైద్యులని సూచిస్తే, దీర్ఘచతురస్రం ఇంజనీర్లని సూచిస్తే, ఆచార్యులైన వైద్యులను ఏమి సూచిస్తుంది ?

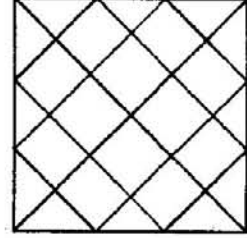


- (1) A (2) B (3) C (4) D

Series-A

119. How many triangles are there in the following figure ?

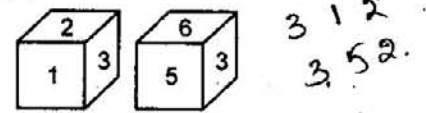
కింద ఇచ్చిన పటంలో ఎన్ని త్రిభుజాలు ఉన్నాయి ?



- (1) 28 (2) 32
(3) 36 (4) 40

120. Which digit will appear on the face opposite to the face with number 4 ?

4 కి అభిముఖంగా ఉన్న ముఖంపై ఏ అంకె ఉంటుంది ?



- (1) 6 (2) 5 (3) 3 (4) 2


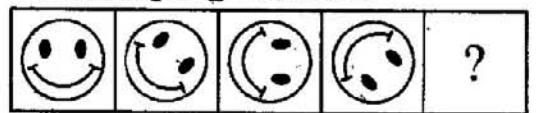
121. Choose the alternative which most closely resembles the mirror-image of the given image.

కింద ఇచ్చిన ప్రతిబింబాన్ని అధంలో చూసినప్పుడు వచ్చే ప్రతిబింబం ఏది ?

- QUALITY**
(1) (2) (3) (4)

122. Find out the correct answer figure that should come next in the sequence of problem figures.

కింద ఇచ్చిన శ్రేణిలో తరువాత రావాలైన సరయిన చిత్రాన్ని కనుగొనండి.



- (1) (2) (3) (4)

123. If 2^{23} is divided by 5, what is the remainder ?

2²³ ను 5 చే భాగిస్తే వచ్చే శేషము ఎంత ?
(1) 1 (2) 2 (3) 3 (4) 4

124. Sum of the even numbers below 71 is

71 కంటే తక్కువ ఉన్న సరి సహజ సంఖ్యల మొత్తము ఎంత ?

(1) 1260 (2) 1268
(3) 1272 (4) 1246

125. $2 + 2^2 + 2^3 + 2^4 + \dots + 2^8 = ?$

(1) 1020 (2) 1024
(3) 1018 (4) 1022

126. $5\frac{3}{40} + 7\frac{2}{50} - 8\frac{1}{20} = ?$

(1) $4\frac{33}{200}$ (2) $4\frac{31}{200}$
(3) $4\frac{13}{200}$ (4) $4\frac{23}{200}$

127. If one number is divided by 345, the remainder is 35. If the same number is divided by 15, what is the remainder ?

ఒక సంఖ్యని 345 తో భాగిస్తే 35 శేషము వచ్చింది. అదే సంఖ్యను 15తో భాగిస్తే వచ్చే శేషము ఎంత ?

(1) 13 (2) 5 (3) 12 (4) 11

128. If 70% of $\frac{2}{5}$ of a number is 126, what is that number ?

ఒక సంఖ్య యొక్క $\frac{2}{5}$ వంతులో 70% విలువ 126 అయితే, ఆ సంఖ్య ఎంత ?

(1) 400 (2) 460
(3) 420 (4) 450

129. What is the value of

$\frac{683 \times 683 \times 683 + 317 \times 317 \times 317}{683 \times 683 - 683 \times 317 + 317 \times 317}$?
 $\frac{683 \times 683 \times 683 + 317 \times 317 \times 317}{683 \times 683 - 683 \times 317 + 317 \times 317}$
విలువ ఎంత ?

(1) 683^2 (2) 683×317
(3) 1000 (4) 317^2

130. If three numbers are in the ratio of 2 : 3 : 5 and their H.C.F. is 8, what is the sum of those three numbers ?

2 : 3 : 5 నిష్పత్తిలో ఉన్న 3 సంఖ్యల గ.సా.భా. 8 అయితే, ఆ మూడు సంఖ్యల మొత్తము ఎంత ?
(1) 64 (2) 88
(3) 80 (4) 96

131. If L.C.M. of two numbers is 180, H.C.F. is 15 and sum of them is 105, what is the difference between those two numbers ?

రెండు సంఖ్య క.సా.గు 180, గ.సా.భా. 15, ఆ రెండు సంఖ్యల మొత్తము 105 అయితే వాటి మధ్య భేదం ఎంత ?
(1) 10 (2) 15
(3) 12 (4) 14

132. $\left(\frac{0.15}{0.75} + \frac{0.30}{0.06}\right)^3 = ?$

(1) 139.6 (2) 138.6
(3) 139.8 (4) 140.6

133. If $\frac{a}{b} = 0.8$ and $6a + 11b = 79$, then $a =$

$\frac{a}{b} = 0.8$ మరియు $6a + 11b = 79$ అయితే $a = ?$
(1) 4 (2) 5 (3) 6 (4) 8

134. $\frac{1}{4}$ of a wire is in black colour and half of

the remaining is in white and rest 6 cm length is blue. What is the length of the wire ?

క తీగలో $\frac{1}{4}$ వ భాగం నలుపురంగు, మిగిలిన దాంట్లో సగభాగం తెలుపు మరియు మిగతా 6 సెం.మీ.ల భాగం నీలరంగులో ఉంటే, ఆ తీగ మొత్తం పొడవెంత ?

(1) 24 cm (2) 12 cm
(3) 16 cm (4) 20 cm

135. Sum of the cubes of first 20 natural numbers is.....

మొదటి 20 సహజ సంఖ్యల ఘనముల మొత్తం

(1) 44,100 (2) 47,200
(3) 43,100 (4) 45,400

$\frac{53+42}{92} = \frac{95}{92}$
 $\frac{683+317}{92} = \frac{1000}{92}$

$\frac{n(n+1)}{2} = \frac{10 \cdot 11}{2} = 55$
Series-A
21
21

136. For the following statement, choose the substitute word from the alternatives.
A man who has the qualities of woman.
(1) Celibate (2) Epicurean
(3) Feminist (4) Effeminate
137. Find out the most effective word from the given words to fill the blank to make the sentence meaningful.
For a few seconds, Prasanthi was _____ blinded by the powerful lights of the oncoming car.
(1) heavily (2) totally
(3) extensively (4) massively
138. Find out the most effective word from the given words to fill the blank to make the sentence meaningful.
Some people _____ from voting at the last elections.
(1) denied (2) refused
(3) abstained (4) declined
139. Find out the most effective pair of words from the given pairs to fill the blanks to make the sentence meaningful.
I would like to your attention to the third paragraph of my letter _____ to the terms of sale of the machinery.
(1) invite, according
(2) react, mainly
(3) draw, pertaining
(4) withdraw, regarding
140. Find out the most effective word from the given words to fill the blank to make the sentence meaningful.
She was sworn _____ as the Prime Minister of the country yesterday.
(1) off (2) out
(3) at (4) in
141. Find out the most effective word from the given words to fill the blank to make the sentence meaningful.
When I was a child, I _____ to school every day instead of going by cycle.
(1) have walked
(2) walked
(3) have been walking
(4) had walked
142. For the word given below, choose the alternative word which best expresses the same meaning of it.
EMULATE
(1) IMITATE (2) QUESTION
(3) DISCUSS (4) ENCOURAGE
143. In the following question, find out which part of the sentence has an error. If the sentence is correct, the answer is "No error".
As soon as I will reach Hyderabad (a)/ I will send you the books (b)/ you have asked for (c)/ No error (d)
(1) a (2) b (3) c (4) d
144. Identify the best alternative to express the meaning of the given proverb.
By the rule of thumb.
(1) By practical experience which is rather rough
(2) By the use of force
(3) By the use of trickery
(4) By cheating
145. Find out the mis-spelt word from the following.
(1) Acquisition (2) Discourteous
(3) Conscience (4) Lusciousness
146. Convert the following Direct speech sentence to a sentence in Indirect speech.
She said to Abhilash, "Don't make a noise".
(1) She told Abhilash that don't make a noise.
(2) She told Abhilash that do not make noise.
(3) She requested Abhilash that don't make a noise.
(4) She told Abhilash not to make a noise
147. Find out the most effective word from the given words to fill the blank to make the sentence meaningful.
How many students in your class _____ from Japan?
(1) coming (2) come
(3) comes (4) has come
148. For the word given below, choose the alternative word which expresses the same meaning of it.
ABANDON
(1) CONDENSE (2) DENY
(3) LEAVE (4) NEGLECT
149. For the word given below, choose the alternative word which best expresses the opposite meaning of it.
DEFECTION
(1) FREEDOM (2) JOINING
(3) BURDENED (4) INVITATION
150. In the following question, find out which part of the sentence has an error. If the sentence is correct, the answer is "No error".
I was shocked to hear (a)/ that his father (b)/died of an accident (c)/ No error (d)
(1) a (2) b (3) c (4) d