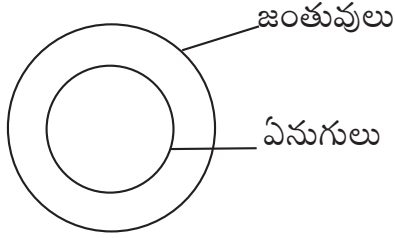


లాజికల్ చిత్రాలు (వెన్ చిత్రాలు)

సాధారణంగా ఈ అంశంలో మూడు కుటుంబాలు ఇస్తారు. అవి ఏమైనా కావచ్చు. ఉదాహరణకు పురుషులు, మహిళలు, ఉద్యోగులు, డాక్టర్లు, నిరక్షరాస్యులు, జంతువులు, పులులు, ఏనుగులు, సహజసంఖ్యలు, సరిసంఖ్యలు మొదలైనవి.

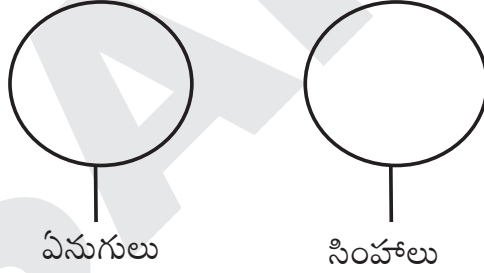
ఇలా ఇచ్చిన మూడు కుటుంబాల మధ్య సంబంధం ఏ విధంగా ఉందో మనం కనుక్కోవాలి. ఇక్కడ ఒక్కో కుటుంబాన్ని ఒక వృత్తం ద్వారా సూచిస్తాం. ఒక కుటుంబం మరో కుటుంబంలో భాగమైనప్పుడు ఒక వృత్తాన్ని మరో వృత్తం లోపల సూచిస్తాం.

1. ఉదాహరణకు ఏనుగులు, జంతువులు అని రెండు కుటుంబాలు ఇచ్చినప్పుడు; ఏనుగులు ఒక కుటుంబం; జంతువులు మరో కుటుంబం. కానీ ఇక్కడ ఏనుగులు అనే కుటుంబం, జంతువులు అనే కుటుంబంలో భాగం కాబట్టి దీనికి సంబంధించిన లాజికల్ డయాగ్రామ్ను ఈ విధంగా సూచించొచ్చు.



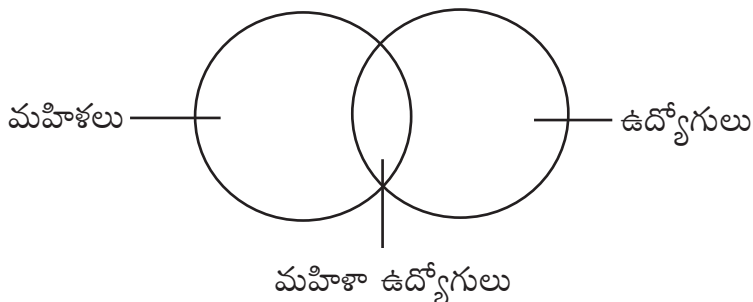
2. ఏనుగులు, సింహాలు

ఏనుగులు, సింహాలు రెండు వేర్వేరు కుటుంబాలు. ఒక దానికి ఒకటి కలవవు. కాబట్టి దీనిని కింది విధంగా సూచించొచ్చు.

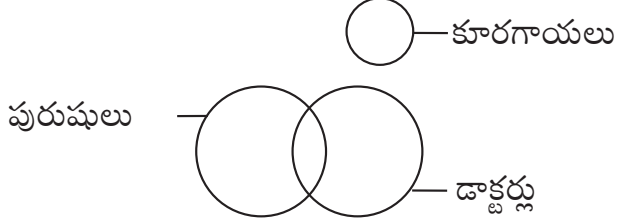


3. మహిళలు, ఉద్యోగులు

మహిళలు ఒక కుటుంబం, ఉద్యోగులు మరో కుటుంబం. మహిళలందరూ ఉద్యోగులు కారు. అదే విధంగా ఉద్యోగులందరూ మహిళలు కారు. కానీ మహిళల్లో కొంతమంది ఉద్యోగులున్నారు, ఉద్యోగులలో కొంతమంది మహిళలున్నారు. కాబట్టి దీనిని కింది చిత్రం ద్వారా సూచించవచ్చు.



- ఇప్పటి వరకు అవగాహన కోసం రెండు కుటుంబాల గురించే తెలుసుకొన్నాం. కానీ పరీక్షల్లో మూడు కుటుంబాలు ఇస్తారు.
- వృత్త పరిమాణాన్ని ఆ కుటుంబ పరిమాణంతో పోల్చొద్దు. ఉదాహరణకు మగవారు, డాక్టర్లు, కూరగాయలు ఇస్తే పురుషులందరూ డాక్టర్లు కాదు, డాక్టర్లందరూ పురుషులు కాదు. కానీ పురుషుల్లో కొంత మంది డాక్టర్లుంటారు, అలాగే డాక్టర్లలో కొంత మంది పురుషులుంటారు. డాక్టర్లు, పురుషులు అనే రెండు కుటుంబాలకు సంబంధంలేని మరో కుటుంబం కూరగాయలు. వీటిని కింది చిత్రం ద్వారా చూపించవచ్చు.

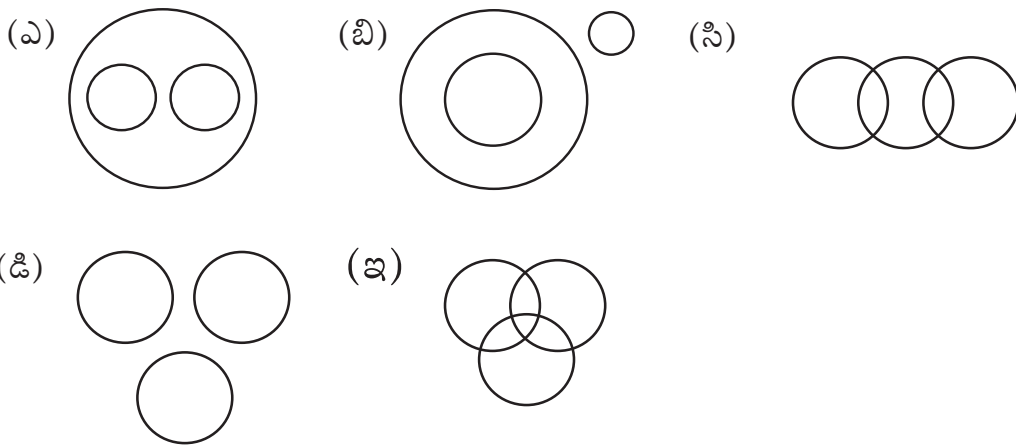


పురుషులు, డాక్టర్లను సూచించే వృత్తాలతో పోలిస్తే కూరగాయలను సూచించే వృత్తం చిన్నదిగా ఉంది. అంతమాత్రాన ఈ కుటుంబ పరిమాణం తక్కువ అనుకోవద్దు.

- మూడు కుటుంబాలు ఇచ్చినప్పుడు వాటి మధ్య ఉన్న సంబంధాన్ని ముందుగా కనుక్కోవాలి. ఏది ఎందులో భాగం, ఏయే కుటుంబాలు ఏ మాత్రం సంబంధం లేకుండా ఉన్నాయనే విషయాలు తెలుసుకోవాలి. వాటి కింద ఇచ్చిన చిత్రాల్లో సరైన దానిని గుర్తించాలి.

ఉదాహరణలు

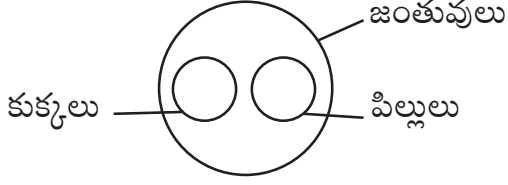
సూచనలు: కింద ఐదు లాజికల్ చిత్రాలున్నాయి. వాటి కింద ఇచ్చిన పదాలు లేదా కుటుంబాల మధ్య ఏ సంబంధం ఉందో కనుక్కొని దానికి సరైన చిత్రాన్ని గుర్తించండి. (వృత్త పరిమాణం, ఆ పదాలు లేదా కుటుంబాల పరిమాణాన్ని సూచించదు.)



1) జంతువులు, కుక్కలు, పిల్లులు

కుక్కలు, పిల్లులు రెండూ జంతువుల్లో భాగమే. కానీ ఈ రెండు వేర్వేరు జాతులు.

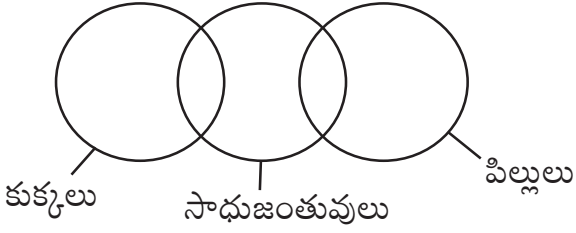
కాబట్టి సమాధానం (ఎ)



2) సాధు జంతువులు, కుక్కలు, పిల్లులు

కుక్కలు, పిల్లులన్నీ సాధుజంతువులు కావు. కుక్కల్లో కొన్ని మాత్రమే సాధు జంతువులు. అలాగే పిల్లుల్లో కొన్ని మాత్రమే సాధు జంతువులు. కుక్కలు, పిల్లులు వేర్వేరు కుటుంబాలు.

కాబట్టి సమాధానం (సి)

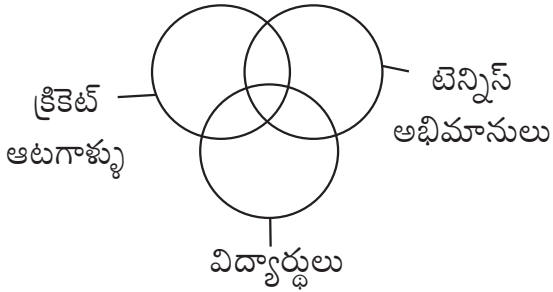


3) క్రైకెట్ ఆటగాళ్లు, టెన్నిస్ అభిమానులు, విద్యార్థులు.

క్రైకెట్ ఆటగాళ్లలో కొంతమంది టెన్నిస్ అభిమానులు ఉంటారు, విద్యార్థులుంటారు.

టెన్నిస్ అభిమానుల్లో కొంతమంది క్రైకెట్ ఆటగాళ్లు ఉంటారు, విద్యార్థులుంటారు.

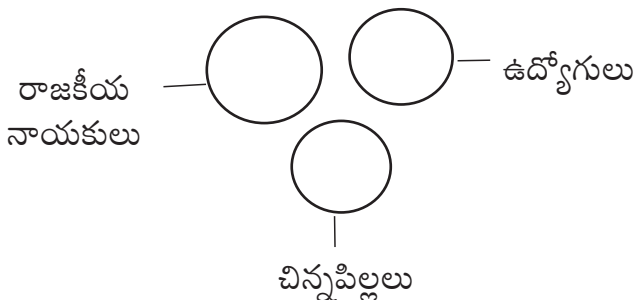
సమాధానం (ఇ)



4) రాజకీయనాయకులు, ఉద్యోగులు, చిన్నపిల్లలు

పై మూడు కూడా ఒకదానికి ఒకటి సంబంధం లేనివి.

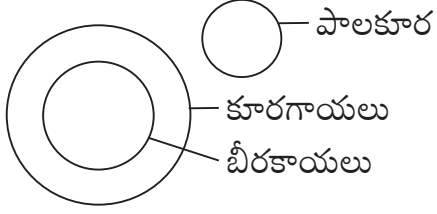
కాబట్టి సమాధానం (డి)



5) కూరగాయలు, బీరకాయలు, పాలకూర

బీరకాయలు కూరగాయల్లో భాగం. పాలకూర ఈ రెండింటికి సంబంధం లేనిది.

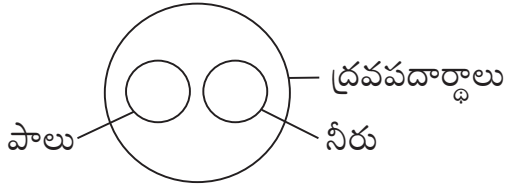
కాబట్టి సమాధానం (బి)



6) పాలు, నీరు, ద్రవ పదార్థాలు

పాలు, నీరు రెండూ కూడా ద్రవ పదార్థాల్లో భాగమే. కానీ పాలు, నీరు అనేవి రెండు వేర్వేరు.

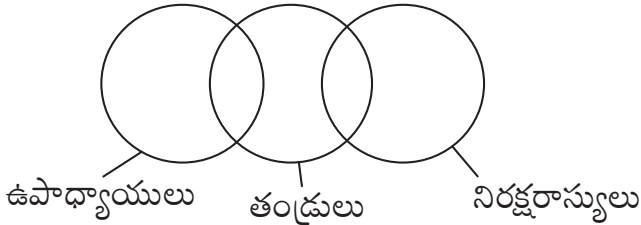
కాబట్టి సమాధానం (ఎ)



7) తండ్రులు, ఉపాధ్యాయులు, నిరక్షరాస్యులు

ఉపాధ్యాయులలో కొంతమంది తండ్రులు. అదే విధంగా నిరక్షరాస్యుల్లో కొంతమంది తండ్రులు. కానీ ఉపాధ్యాయులు, నిరక్షరాస్యులు ఒకదానికొకటి సంబంధం లేనివి.

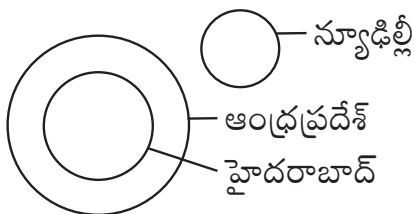
కాబట్టి సమాధానం (సి)



8) ఆంధ్రప్రదేశ్, హైదరాబాద్, న్యూఢిల్లీ

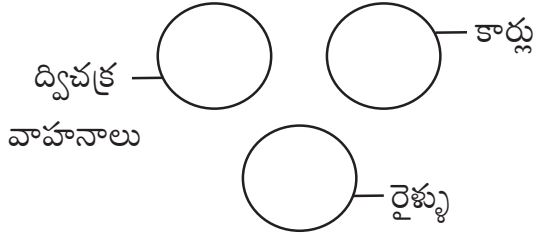
హైదరాబాద్ ఆంధ్రప్రదేశ్లో భాగం. కానీ న్యూఢిల్లీ ఈ రెండింటికి సంబంధం లేనిది.

కాబట్టి సమాధానం (బి)

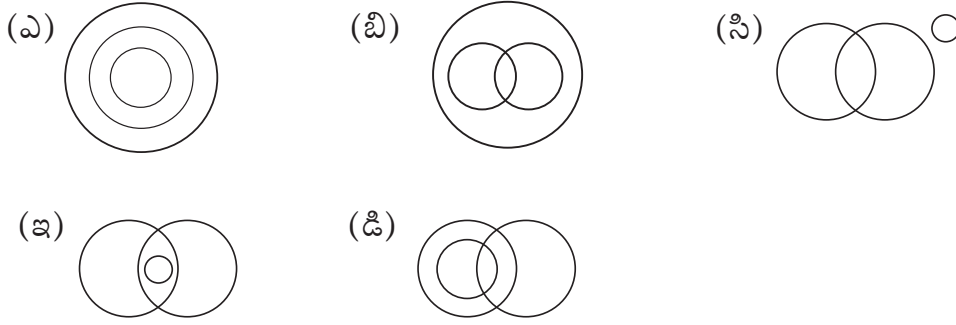


9) ద్వీచక్ర వాహనాలు, కార్లు, రైళ్లు

మూడూ కూడా ఒకదానికొకటి సంబంధం లేనివి. కాబట్టి సమాధానం (డి)



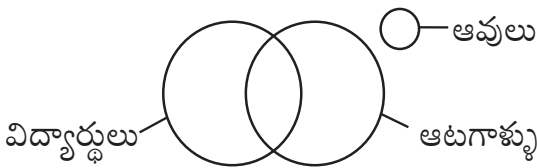
సూచనలు: కింద ఐదు లాజికల్ చిత్రాలు ఉన్నాయి. వాటి కింద ఇచ్చిన పదాలు లేదా కుటుంబాల మధ్య ఏ సంబంధం ఉందో కనుక్కొని దానికి సరైన చిత్రాన్ని గుర్తించండి. (వృత్త పరిమాణం, ఆ పదాలు లేదా కుటుంబాల పరిమాణాన్ని సూచించదు.)



10) విద్యార్థులు, ఆటగాళ్లు, ఆవులు

విద్యార్థుల్లో కొంతమంది ఆటగాళ్లు ఉంటారు. అలాగే ఆటగాళ్ళలో కొంతమంది విద్యార్థులు ఉంటారు. కానీ ఆవులు అనేది విద్యార్థులకు, ఆటగాళ్ళకు సంబంధం లేనిది.

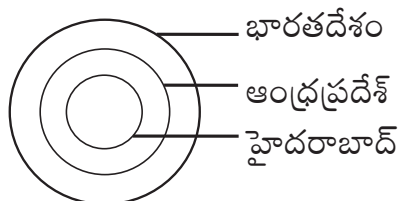
కాబట్టి సమాధానం (సి)



11) భారతదేశం, ఆంధ్రప్రదేశ్, హైదరాబాద్

భారతదేశంలో ఒక భాగం ఆంధ్రప్రదేశ్. ఆంధ్రప్రదేశ్లో ఒక భాగం హైదరాబాద్.

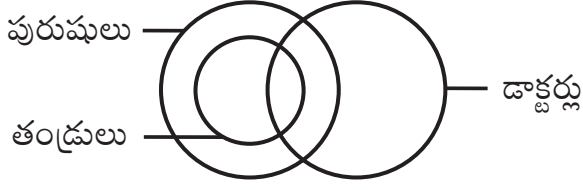
కాబట్టి సమాధానం (ఎ)



12) పురుషులు, తండ్రులు, డాక్టర్లు

తండ్రులందరూ పురుషులే. కొంతమంది పురుషులు, కొంతమంది తండ్రులు డాక్టర్లుగా ఉన్నారు.

కాబట్టి సమాధానం (డి)

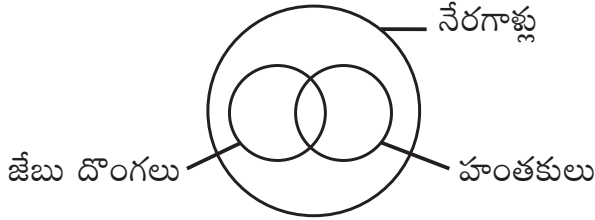


13) జేబు దొంగలు, హంతకులు, నేరగాళ్లు

జేబు దొంగలందరూ నేరగాళ్లే. అలాగే హంత కులందరూ నేరగాళ్లే. జేబు దొంగల్లో కొంత మంది హంతకులుంటారు.

హంతకుల్లో కొంత మంది జేబు దొంగలుంటారు.

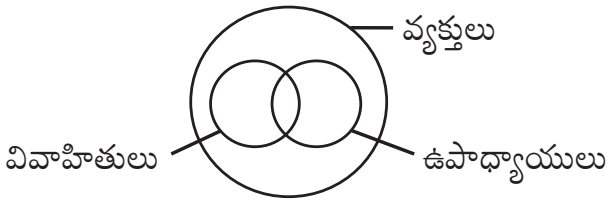
కాబట్టి సమాధానం (బి)



14) వ్యక్తులు, వివాహితులు, ఉపాధ్యాయులు

వివాహితులు అందరూ వ్యక్తుల్లో భాగమే. అలాగే ఉపాధ్యాయులు అందరూ కూడా వ్యక్తుల్లో భాగమే. వివాహితుల్లో కొంత మంది ఉపాధ్యాయులుంటారు. అలాగే ఉపాధ్యాయుల్లో కొంత మంది వివాహితులుంటారు.

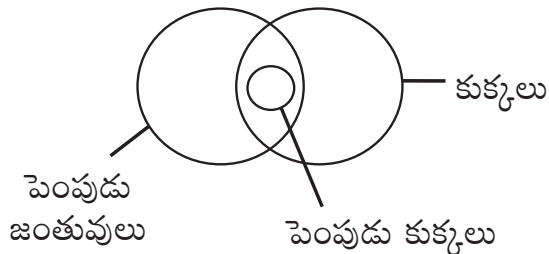
కాబట్టి సమాధానం (బి)



15) పెంపుడు జంతువులు, పెంపుడు కుక్కలు, కుక్కలు

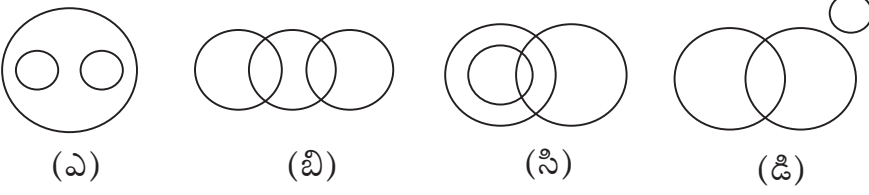
పెంపుడు కుక్కలన్నీ పెంపుడు జంతువులే. పెంపుడు కుక్కలన్నీ కుక్కలే. పెంపుడు జంతువుల్లో కొన్ని కుక్కలుంటాయి.

కాబట్టి సమాధానం (ఇ)



అభ్యాసం


1. ఏనుగులు, నక్కలు, జంతువులను కింది వాటిలో ఏ చిత్రం సూచిస్తుంది?



సమాధానం (ఎ)

ఏనుగులు, నక్కలు ఒకదానికి ఒకటి సంబంధం లేనివి. కానీ ఈ రెండూ కూడా జంతువుల్లో భాగమే.

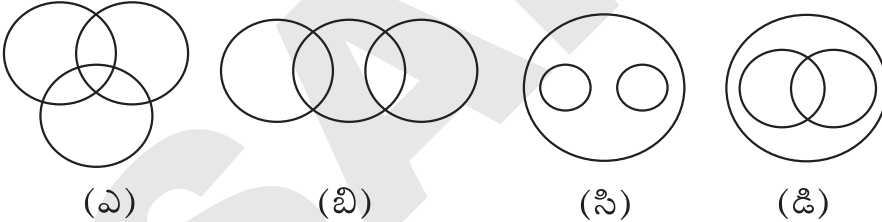
2. కింది లాజికల్ డయాగ్రామ్లలో ఏది క్యారెట్, ఆహారం, కూరగాయలను సూచిస్తుంది?



సమాధానం (బి)

క్యారెట్లన్నీ కూరగాయల్లో భాగం. కూర గాయలన్నీ ఆహారంలో భాగం.

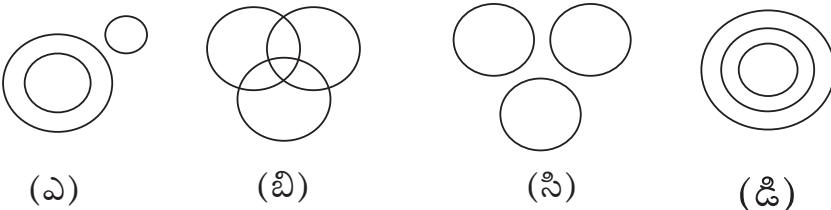
3. కింద ఇచ్చిన వెన్ డయాగ్రామ్లలో ఏది కచ్చితంగా సంఘవిద్రోహ శక్తులు, జేబు దొంగలు, బ్లాక్మెయిలర్స్ను సూచిస్తుంది?



సమాధానం (డి)

జేబు దొంగల్లో కొంతమంది బ్లాక్మెయిలర్స్ ఉంటారు. అదేవిధంగా బ్లాక్మెయిలర్స్లో కొంత మంది జేబు దొంగలు ఉంటారు. ఈ రెండు కుటుంబాలు కూడా సంఘవిద్రోహ శక్తుల్లో భాగమే.


4. పావురాలు, పక్షులు, కుక్కలను కింద ఇచ్చిన ఏ చిత్రం సరిగా సూచిస్తుంది?



సమాధానం (బి)

పావురాలు అన్ని పక్షుల్లో భాగం. కానీ కుక్కలు ఈ రెండు కుటుంబాలకు సంబంధం లేనిది.

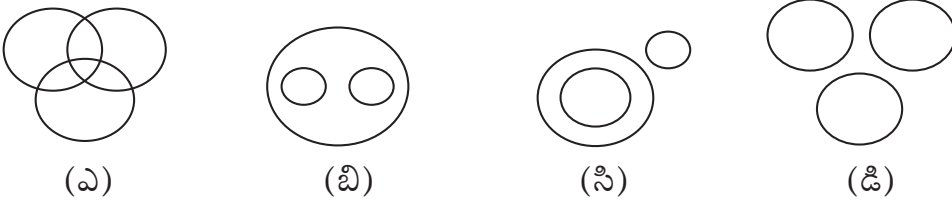
5. బుధుడు, అంగారకుడు, గ్రహాలను కింది ఏ చిత్రం సూచిస్తుంది?



సమాధానం (సి)

బుధుడు, అంగారకుడు ఒకదానికొకటి సంబంధం లేనివి. కానీ ఈ రెండూ కూడా గ్రహాల్లో భాగమే.

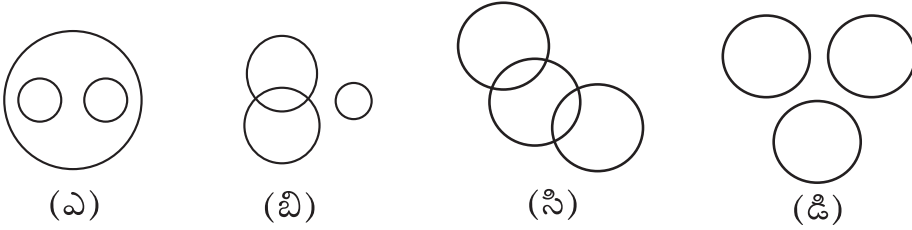
6. త్రిభుజం, చతుర్భుజం, చతురస్రాలను కింది వాటిలో ఏ చిత్రం సూచిస్తుంది?



సమాధానం (సి)

చతురస్రాలన్నీ చతుర్భుజంలో భాగాలు. కానీ త్రిభుజం వీటికి సంబంధం లేనిది.

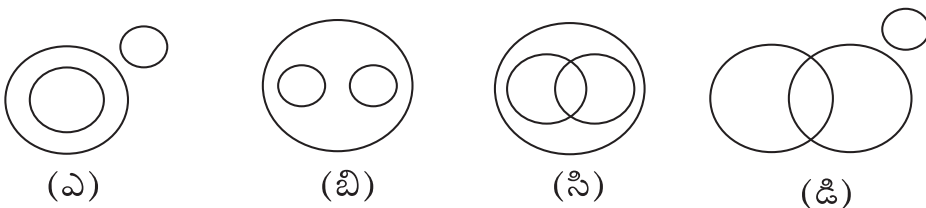
7. డాక్టర్లు, నర్సులు, మానవులను కింది ఏ చిత్రం సూచిస్తుంది?



సమాధానం (ఎ)

డాక్టర్లు, నర్సులు వేర్వేరు కుటుంబాల వారు. కానీ వీరిరువురు మానవుల్లో భాగం.

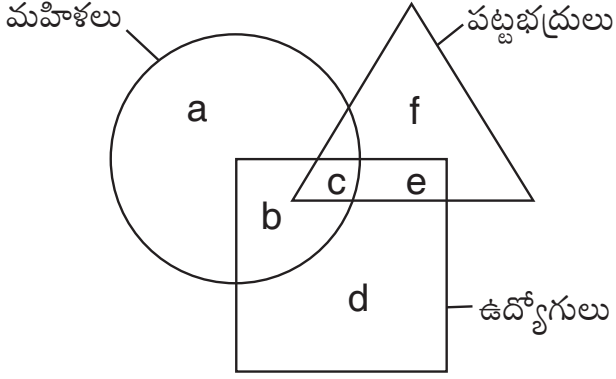
8. జీవశాస్త్రం, జంతుశాస్త్రం, వృక్షశాస్త్రాలను కింది ఏ లాజికల్ డయాగ్రామ్ సూచిస్తుంది?



సమాధానం (బి)

జంతుశాస్త్రం, వృక్షశాస్త్రం రెండు ఒకదానికొకటి ఏమాత్రం సంబంధం లేనివి. కానీ ఈ రెండూ కూడా జీవశాస్త్రంలో భాగం.

- కింది చిత్రంలో వృత్తం మహిళలను, త్రిభుజం పట్టభద్రులను, చతురస్రం ఉద్యోగులను గురించి తెలుపుతుంది. మీరు ముందుగా ఈ పటాన్ని పరిశీలించి, దాని కింద ఇచ్చిన ప్రశ్నలకు సమాధానాలను గుర్తించండి.



9. పట్టభద్రులు కాని మహిళా ఉద్యోగులు ఎవరు?

సమాధానం: ఈ ప్రశ్నను చివరి నుంచి సాధించుకుంటూ వస్తే.. ఉద్యోగులు అంటే చతురస్రంలో ఉన్నవారు కాబట్టి “b, c, d, e” ఉద్యోగులు అవుతారు. వీరిలో మహిళా ఉద్యోగులను గుర్తించాలి. వృత్తం మహిళలను సూచిస్తుంది. కాబట్టి “b, c, d, e”లలో ఏవి వృత్తంలో ఉన్నాయో చూడాలి. “b, c, d, e”లలో b, cలు మాత్రమే వృత్తంలో ఉన్నాయి. కాబట్టి b, cలు “మహిళా ఉద్యోగులు” అనే విషయం తెలుస్తుంది. ప్రశ్నలో “పట్టభద్రులు కాని మహిళా ఉద్యోగులు” అన్నారు. త్రిభుజం పట్టభద్రులను సూచిస్తుంది. “పట్టభద్రులు కాని” అన్నారు కాబట్టి b, cలలో ఏది త్రిభుజంలో లేదో గుర్తించాలి. b, cలలో ‘b’ త్రిభుజంలో లేదు కాబట్టి సమాధానం ‘b’ అవుతుంది.

∴ పట్టభద్రులు కాని మహిళా ఉద్యోగులు ‘b’ అవుతారు.

10. పట్టభద్రులైన మహిళా ఉద్యోగులు ఎవరు?

సమాధానం:

పట్టభద్రులై ఉండాలి

మహిళలై ఉండాలి

ఉద్యోగులై ఉండాలి

అంటే త్రిభుజం, వృత్తం, చతురస్రంలో ఉన్న మూడింటిలో ఉన్న అక్షరం చూడాలి.

‘c’ త్రిభుజంలో, వృత్తంలో, చతురస్రంలో ఉంది.

కాబట్టి పట్టభద్రులైన మహిళా ఉద్యోగులు ‘c’ అవుతారు.

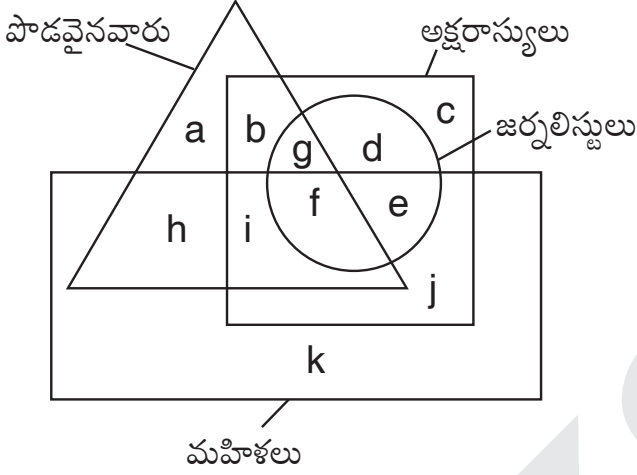
11. మహిళలు కాని పట్టభద్రులైన ఉద్యోగులు ఎవరు?

సమాధానం: మహిళలు కాకూడదు అన్నారు కాబట్టి వృత్తంలో ఉండకూడదు. పట్టభద్రులైన ఉద్యోగులు అన్నారు

కాబట్టి త్రిభుజంలో, చతురస్రంలో ఉండాలి.

త్రిభుజం, చతురస్రంలో ఉండి, వృత్తంలో లేని అక్షరం 'e'. కాబట్టి మహిళలు కాని పట్టభద్రులైన ఉద్యోగులు 'e' అవుతారు.

- కింది చిత్రంలో త్రిభుజం పొడవైనవారిని, చతురస్రం అక్షరాస్యులను, వృత్తం జర్నలిస్టులను, దీర్ఘచతురస్రం మహిళలను సూచిస్తుంది. ముందుగా కింది చిత్రాన్ని పరిశీలించి, దాని కింద ఉన్న ప్రశ్నలకు సమాధానాలు గుర్తించండి.



12. కింద ఇచ్చిన నాలుగు వాక్యాల్లో ఏది సరైంది?

- మహిళలందరూ పొడవైనవారు
- పొడవైన వారందరూ అక్షరాస్యులు
- అక్షరాస్యులందరూ జర్నలిస్టులు
- జర్నలిస్టులందరూ అక్షరాస్యులు

సమాధానం: 'ఎ' సరైంది కాదు. ఎందుకంటే మహిళలను దీర్ఘచతురస్రం సూచిస్తుంది. పొడవైన వారిని త్రిభుజం సూచిస్తుంది. ఒకవేళ త్రిభుజం దీర్ఘచతురస్రం లోపల ఉన్నట్లైతే మహిళలందరూ పొడవైనవారు అనేది సరైన వాక్యం అయ్యేది. కానీ ఆ విధంగా లేదు.

'బి' సరైంది కాదు. ఎందుకంటే పొడవైన వారిని త్రిభుజం సూచిస్తుంది. అక్షరాస్యులను చతురస్రం సూచిస్తుంది. ఒకవేళ త్రిభుజం చతురస్రం లోపల ఉన్నట్లైతే పొడవైన వారందరూ అక్షరాస్యులు అనేది సరైన వాక్యం అయ్యేది. కానీ ఆ విధంగా లేదు గనుక ఇది సమాధానం కాదు.

'సి' సరైంది కాదు. ఎందుకంటే అక్షరాస్యులను చతురస్రం సూచిస్తుంది. జర్నలిస్టులను వృత్తం సూచిస్తుంది. ఒకవేళ చతురస్రం వృత్తం లోపల ఉన్నట్లైతే అక్షరాస్యులందరూ జర్నలిస్టులు అనే వాక్యం సరి అయ్యేది. కానీ ఆ విధంగా లేదు.

'డి' సరైన వాక్యం అవుతుంది. ఎందుకంటే జర్నలిస్టులను సూచిస్తున్న వృత్తం, అక్షరాస్యులను సూచిస్తున్న చతురస్రం లోపల ఉంది. కాబట్టి జర్నలిస్టులందరూ అక్షరాస్యులు అనే వాక్యం సరైన వాక్యం అవుతుంది.

కాబట్టి సమాధానం 'డి'.

13. జర్నలిస్టులు కాని పొడవైన మహిళా అక్షరాస్యులు ఎవరు?

సమాధానం: జర్నలిస్టులు కాకూడదు అంటే వృత్తం లోపల ఉండకూడదు. పొడవైన మహిళా అక్షరాస్యులు అంటే త్రిభుజంలో, దీర్ఘచతురస్రంలో, చతురస్రంలో ఉండాలి.

వృత్తంలో లేకుండా, త్రిభుజం, దీర్ఘచతురస్రం, చతురస్రంలో ఉన్న అక్షరం 'i'.

∴ జర్నలిస్టు కాని పొడవైన మహిళా అక్షరాస్యులను 'i' సూచిస్తుంది.

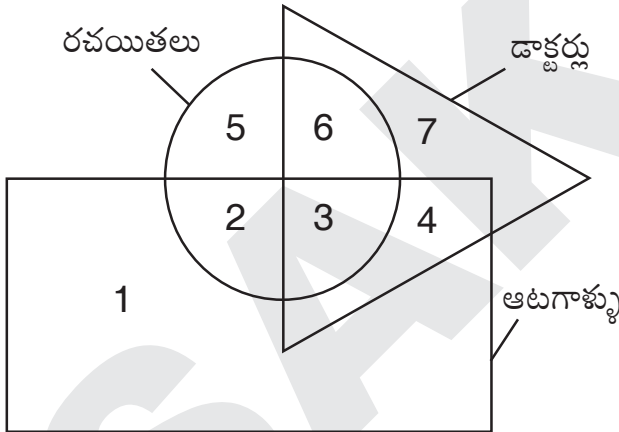
14. పొడవైన మహిళా నిరక్షరాస్యులు ఎవరు?

సమాధానం: నిరక్షరాస్యులు అన్నారు కాబట్టి చతురస్రం లోపల ఉండకూడదు. పొడవైన మహిళ అన్నారు కాబట్టి త్రిభుజం, దీర్ఘచతురస్రం లోపల ఉండాలి.

చతురస్రంలో లేకుండా త్రిభుజం, దీర్ఘచతురస్రంలో ఉన్న అక్షరం 'h'.

∴ పొడవైన మహిళా నిరక్షరాస్యులను 'h' సూచిస్తుంది.

- కింది చిత్రంలో వృత్తం రచయితలను, దీర్ఘచతురస్రం ఆటగాళ్ళను, త్రిభుజం డాక్టర్లను సూచిస్తుంది. మీరు ముందుగా ఆ చిత్రాన్ని పరిశీలించి, ఆపై దాని కింద ఇచ్చిన ప్రశ్నలకు సమాధానాలను గుర్తించండి.



15. రచయితలు, ఆటగాళ్ళు అయితే డాక్టర్లు ఎవరు?

సమాధానం: రచయితలు, ఆటగాళ్ళు అయితే డాక్టర్లు అంటే వృత్తంలో, దీర్ఘ చతురస్రంలో త్రిభుజంలో ఉండాలి. ఈ మూడింటిలో ఉన్న నంబరు '3'.

∴ రచయితలు, ఆటగాళ్ళు అయితే డాక్టర్లను '3' సూచిస్తుంది.

16. ఆటగాళ్ళు కాని రచయితలైన డాక్టర్లు ఎవరు?

సమాధానం: ఆటగాళ్ళు కాకూడదు అన్నారు. అంటే దీర్ఘచతురస్రం లోపల ఉండకూడదు. రచయితలైన డాక్టర్లు అంటే వృత్తంలో, త్రిభుజంలో ఉండాలి.

దీర్ఘచతురస్రంలో లేకుండా వృత్తంలో, త్రిభుజంలో ఉన్న అంకె '6'.

∴ ఆటగాళ్ళు కాని రచయితలైన డాక్టర్లను '6' సూచిస్తుంది.

17. '1' దేనిని సూచిస్తుంది?

సమాధానం:

'1' వృత్తంలో లేదు కాబట్టి రచయితలు కారు.

'1' త్రిభుజంలో లేదు కాబట్టి డాక్టర్లు కారు.

'1' ద్విచతురస్రంలో ఉంది కాబట్టి ఆటగాళ్ళు అయి ఉంటారు.

∴ '1' అనేది రచయితలు కాని, డాక్టర్లు కాని ఆటగాళ్ళను సూచిస్తుంది.

18. 4 దేనిని సూచిస్తుంది?

సమాధానం:

4 వృత్తంలో లేదు కాబట్టి రచయితలు కారు.

4 త్రిభుజంలో, ద్విచతురస్రంలో ఉంది. అంటే డాక్టర్లు, ఆటగాళ్ళను సూచిస్తుంది.

∴ 4 అనేది రచయితలు కాని డాక్టర్లైన ఆటగాళ్ళను సూచిస్తుంది.

19. 2 దేనిని సూచిస్తుంది?

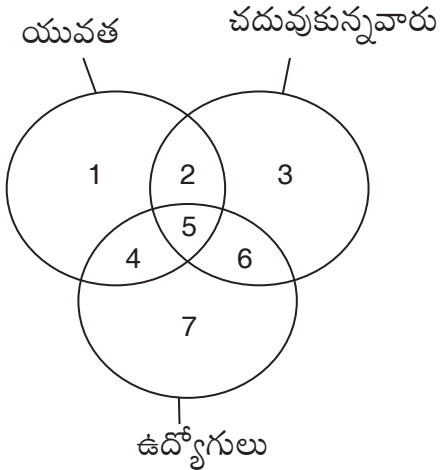
సమాధానం:

2 త్రిభుజంలో లేదు కాబట్టి డాక్టర్లు కారు.

2 వృత్తంలో, ద్విచతురస్రంలో ఉంది. అంటే రచయితలను, ఆటగాళ్ళను సూచిస్తుంది.

∴ 2 అనేది డాక్టర్లు కాని రచయితలైన ఆటగాళ్ళను సూచిస్తుంది.

20. కింది చిత్రాన్ని పరిశీలించి, చదువుకోని, ఉద్యోగం చేస్తున్న యువతను గుర్తించండి?

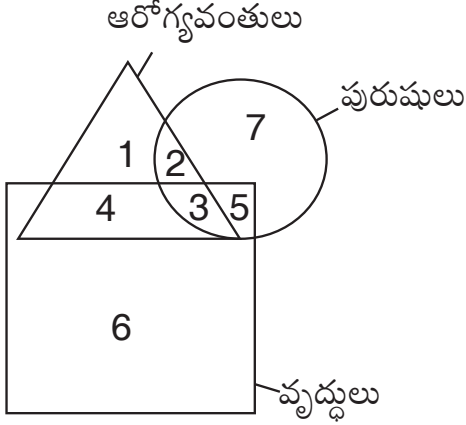


సమాధానం: చదువుకోనివారు అన్నారు. అంటే చదువుకున్నవారిని సూచించే వృత్తంలో ఉండకూడదు. ఉద్యోగం చేస్తున్న యువత అన్నారు. కాబట్టి మిగతా రెండు వృత్తాల్లో ఉండాలి. ఆ విధంగా '4' ఉంది.

∴ చదువుకోని, ఉద్యోగం చేస్తున్న యువ తను '4' సూచిస్తుంది.

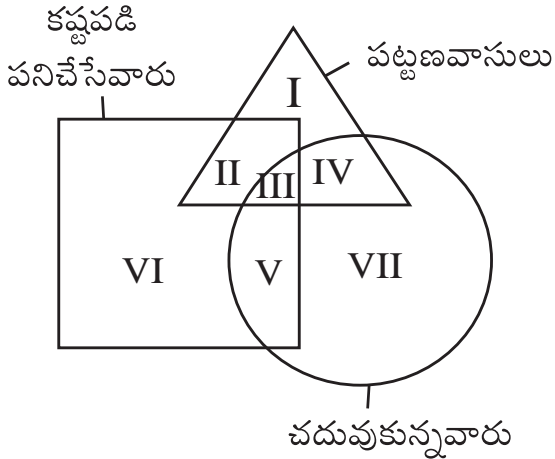
అభ్యాసం

1. కింది చిత్రంలో త్రిభుజం ఆరోగ్యవంతులను, చతురస్రం వృద్ధులను, వృత్తం పురుషులను సూచిస్తుంది. అయితే వృద్ధులు కాని ఆరోగ్యవంతులైన పురుషులను గుర్తించండి?



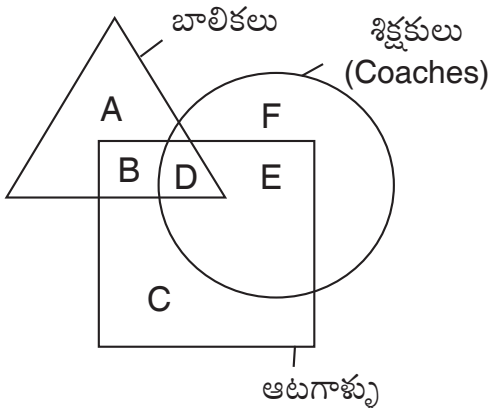
- ఎ) 2 బి) 3 సి) 4 డి) ఏదీకాదు

2. కింది చిత్రంలో త్రిభుజం పట్టణ వాసులను, చతురస్రం కష్టపడి పనిచేసే వారిని, వృత్తం చదువుకున్న వారిని సూచిస్తుంది. అయితే ఏది కష్టపడి పనిచేయని, చదువుకున్న పట్టణ వాసులను సూచిస్తుంది?



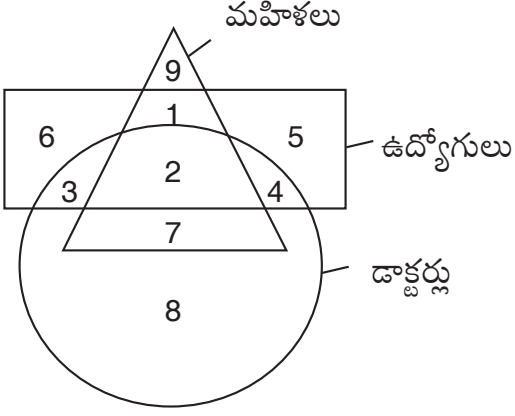
- ఎ) II బి) III సి) IV డి) VII

3. కింది చిత్రంలో త్రిభుజం బాలికలను, చతురస్రం ఆటగాళ్లను, వృత్తం శిక్షకులు (Coaches)ను సూచిస్తుంది. అయితే శిక్షకులు కాని, ఆట ఆడగలిగిన బాలికలను గుర్తించండి?



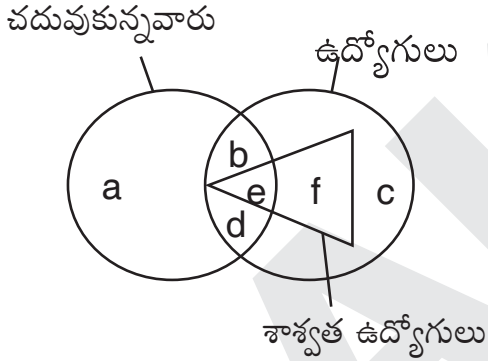
- ఎ) A బి) B సి) D డి) ఏదీకాదు

4. కింది చిత్రంలో త్రిభుజం మహిళలను, దీర్ఘచతురస్రం ఉద్యోగస్తులను, వృత్తం డాక్టర్లను సూచిస్తుంది. అయితే ఉద్యోగులు కాని, మహిళా డాక్టర్లను గుర్తించండి?



- ఎ) 2 బి) 4 సి) 3 డి) 7

25. కింది చిత్రం ఆధారంగా శాశ్వత ఉద్యోగులు కాని, చదువుకున్నవారు ఉద్యోగులను గుర్తించండి?



- ఎ) b బి) d సి) b, d డి) ఏదీకాదు

జవాబులు

- 1) ఎ 2) సి 3) బి 4) డి 5) సి